

# Ubicación espacio-temporal

*Desarrolla habilidades cognitivas para la comprensión social, espacial y temporal*



**PROYECTOS DE ÁREA**  
Relaciones  
**Ciencias Sociales 4**  
Educación Básica Primaria



Libros & Libros S.A.  
ACTIVIDAD EMPRESARIAL



Jesus David Alarcón Castro

KSD

# Ubicación espacio-temporal

*Desarrolla habilidades cognitivas para la comprensión social, espacial y temporal*

**Directora del plan editorial**

Rocio Centeno Rojas

**Editora de área**

María Clemencia Márquez Ch.

**Equipo editorial**

Jefa de diagramación: Marina Porras

Diagramación electrónica: Claudia Patricia Garzón

Corrección de estilo: Gonzalo Mora Torrecilla

Jefe de arte: Hugo Macías Lugo

Diseño de carátula: Felipe Cañón Vega

© Copyright 2008 - Editorial Libros & Libros S.A., Bogotá, D.C., Colombia

**Atención:**

Esta obra está protegida por la ley 23 de 1982 sobre los derechos de autor. Se considera infractor de estos derechos y como tal puede ser objeto de sanción penal, cualquier persona natural o jurídica que reproduzca esta obra en forma parcial o total a través de fotocopias o de otros medios de multicopiado con la finalidad de hacer guías didácticas, módulos de autoaprendizaje o cualquier otro uso con destino a su comercialización o entrega gratuita, sin el permiso expreso y escrito de Editorial Libros & Libros S.A.

Las acciones judiciales pertinentes pueden ser instauradas por cualquier persona natural, las autoridades que tengan conocimiento de ello o el titular de sus derechos, Editorial Libros & Libros S.A.

ISBN serie: 958-8147-62-X • ISBN volumen: 958-8147-66-2

Depósito legal • Primera edición 2008

Impresión: Editorial Linotipia Bolívar y Cia.

## CONTENIDO

El mundo .....	3
Aspecto político de Europa .....	4
Ubica los países de Europa y sus capitales .....	5
Aspecto político de Asia .....	6
Ubica los países de Asia y sus capitales .....	7
Aspecto político de África .....	8
Ubica los países de África y sus capitales .....	9
Aspecto político de Oceanía .....	10
Ubica los países de Oceanía y sus capitales .....	11
Aspecto político de América .....	12
Ubica los países de América y sus capitales .....	13
División política - administrativa de Colombia .....	14
Identifica las entidades territoriales de Colombia .....	15
Posición geográfica de Colombia .....	16
¿Qué países rodean a Colombia? .....	17
Colombia en el planeta .....	18
¿Cuál es la posición astronómica de Colombia? .....	19
El relieve de Colombia .....	20
Identifica las formas del relieve de Colombia .....	21
La hidrografía de Colombia .....	22
¿Cuáles son los ríos y las lagunas más importantes de Colombia? .....	23
Economía de Colombia .....	24
¿Cuáles son los departamentos agrícolas y ganaderos de Colombia? .....	25
¿Cuáles son los departamentos mineros de Colombia? .....	26
¿Cuáles son los departamentos industriales de Colombia? .....	27
El poblamiento de América .....	28
¿Qué comunidades indígenas poblaron América? .....	29
El Descubrimiento de América .....	30
¿Qué viajes realizó Cristóbal Colón? .....	31
¿Quiénes conquistaron el territorio colombiano? .....	32

## El mundo

En el planeta Tierra, las aguas cubren las tres cuartas partes de la superficie, mientras que las tierras emergidas sólo constituyen una cuarta parte.

De esta manera, nuestro planeta está conformado por cinco continentes, que son: América, Asia, África, Europa y Oceanía. También por cinco océanos, que son: Atlántico, Pacífico, Índico, Glacial Ártico y Glacial Antártico.

1. Ubica en el planisferio los puntos cardinales.
2. Escribe en el planisferio el nombre de los continentes y de los océanos.
3. Localiza a Colombia en el planisferio.



4. Escribe los límites de Colombia.

Al norte: \_\_\_\_\_

Al sur: \_\_\_\_\_

Al oriente: \_\_\_\_\_

Al occidente: \_\_\_\_\_

## Aspecto político de Europa

El siguiente mapa político de Europa muestra los 43 países que conforman este continente. Se destacan los países que pertenecen a la Unión Europea, U.E.



1. Identifica en el mapa los países pertenecientes a la Unión Europea.
2. ¿Qué países de Europa no son parte de la Unión Europea? Nómbralos.

## Ubica los países de Europa y sus capitales

1. En el mapa político de Europa:
  - a. Escribe los límites.
  - b. Localiza la capital de cada país y escribe su nombre.
  - c. Pinta del mismo color los países de la Unión Europea.
2. Consulta qué es la Unión Europea. Prepara una exposición para la clase.



## Aspecto político de Asia

El continente asiático está dividido en 48 países independientes.



1. Identifica en el mapa los países de Asia y sus capitales.
2. Escribe los límites de Asia.

Al norte: \_\_\_\_\_

Al sur: \_\_\_\_\_

Al este: \_\_\_\_\_

Al oeste: \_\_\_\_\_



## Ubica los países de Asia y sus capitales

1. Escribe los límites en el mapa político de Asia.
2. Localiza en el mapa cada país y escribe el nombre de su capital.



3. ¿Qué países asiáticos son de mayor extensión?

---

4. ¿Qué países de Asia son los más pequeños?

---

## Aspecto político de África

El continente africano está conformado por 53 países. La mayoría de estos países se independizaron durante el siglo XX, luego se trata de países jóvenes.



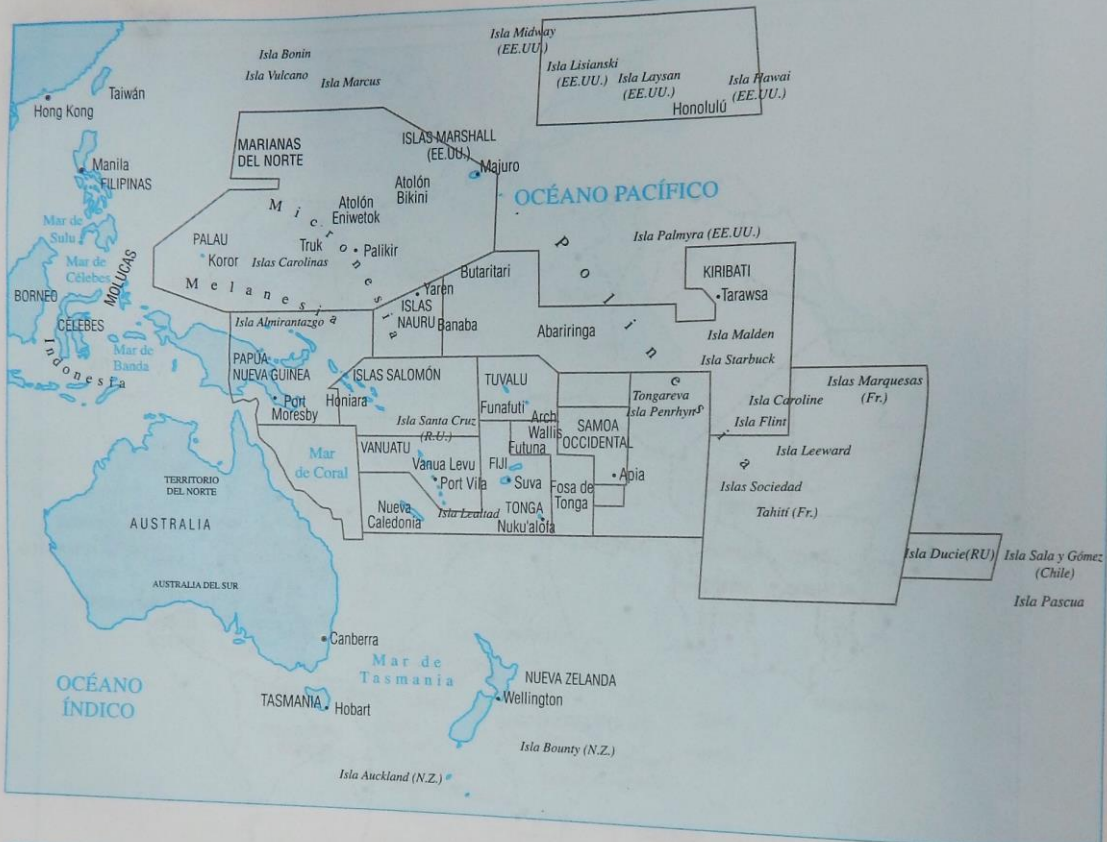
## Ubica los países de África y sus capitales

1. Escribe los límites en el mapa político de África.
2. Localiza en el mapa cada país y su correspondiente capital.



## Aspecto político de Oceanía

Oceanía es un continente conformado por 14 países independientes, uno sem independiente y 20 dependencias.



### Países independientes:

Australia  
 Fiji  
 Islas Marshall  
 Islas Salomón  
 Kiribati  
 Micronesia  
 Nauri  
 Nueva Zelanda  
 Palau  
 Papúa Nueva Guinea  
 Samoa Occidental  
 Tonga  
 Tuvalu  
 Vanuatu

### País sem independiente:

Islas Marianas del Norte (Estados Unidos)

### Dependencias:

#### De Australia:

Islas de Christsmas  
 Isla de Norfolk  
 Islas Heard  
 Islas McDonald  
 Islas del mar de Coral

#### De Estados Unidos:

Baker y Howland  
 Guam  
 Jarvis

Johnston  
 Kingman Reef  
 Midway  
 Palmyra  
 Samoa Americana  
 Wake

#### De Francia:

Clipperton  
 Nueva Caledonia  
 Polinesia Francesa  
 Wallis y Futuna

#### De Nueva Zelanda:

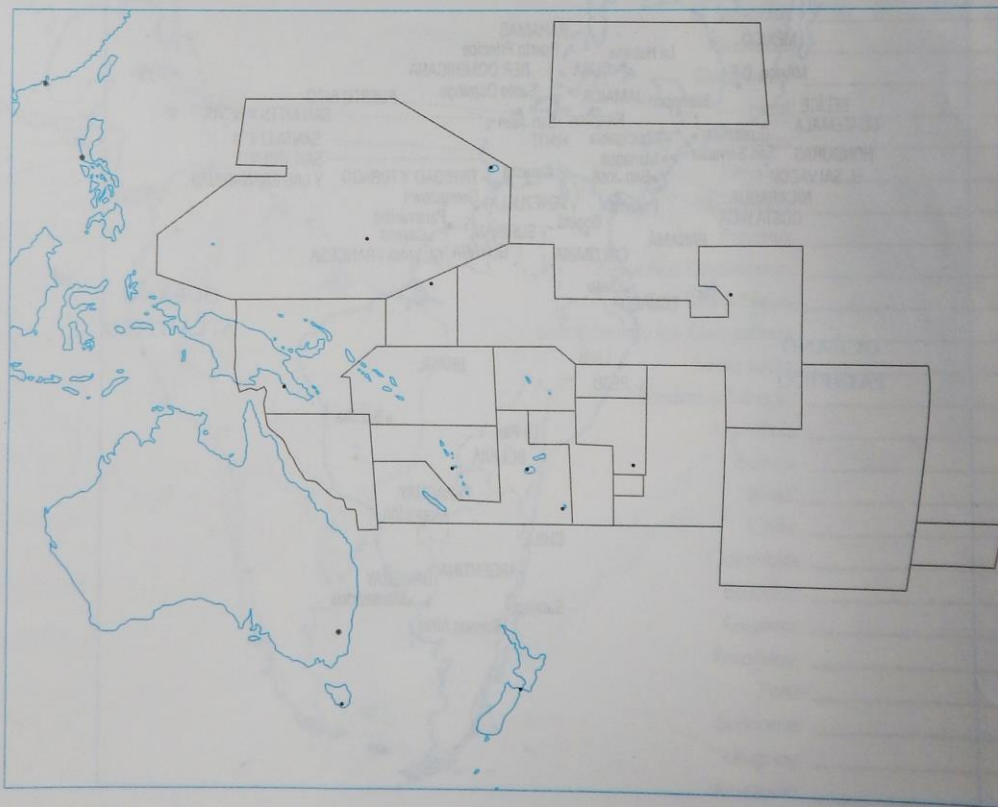
Islas Cook  
 Niue y Tokelau

## Ubica los países de Oceanía y sus capitales

1. Escribe al frente de cada país de Oceanía el nombre de su capital.

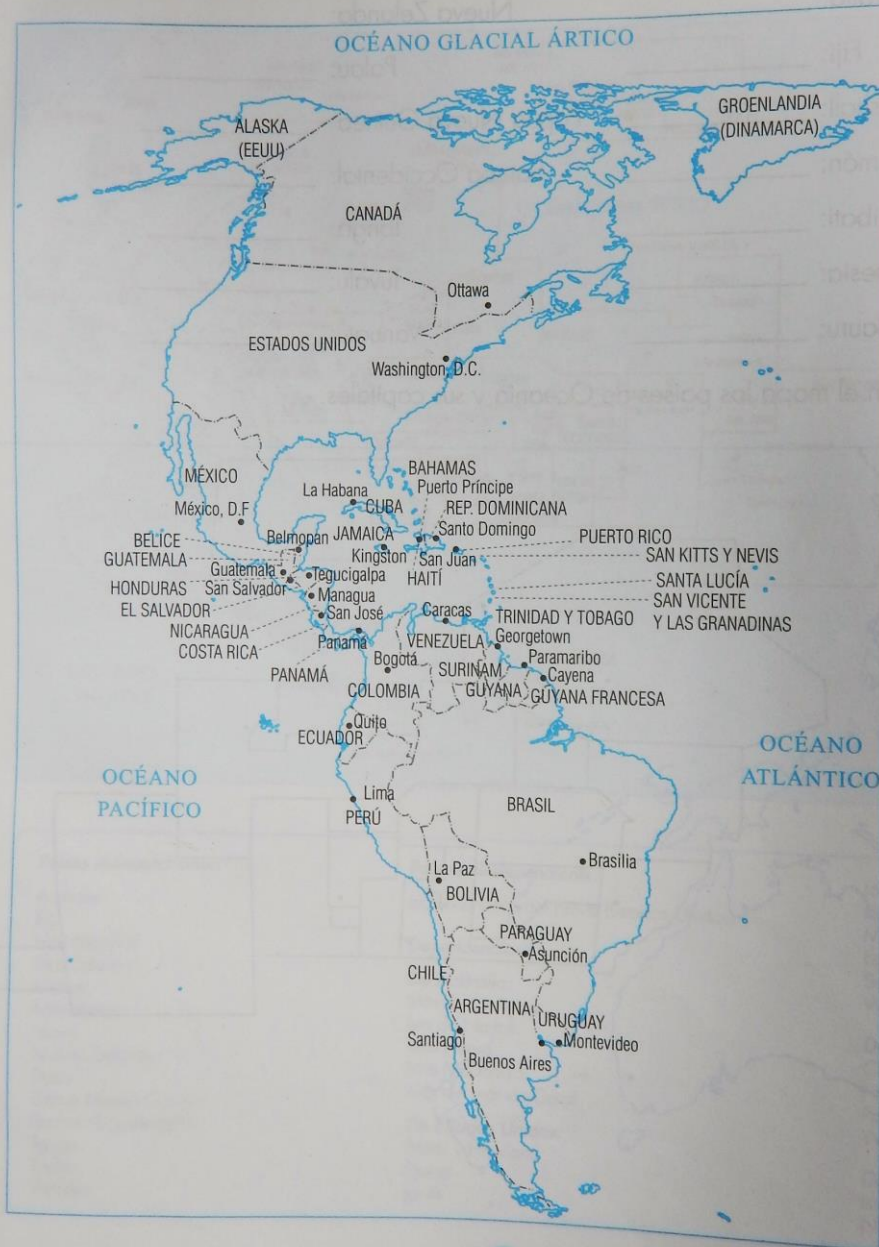
Australia: _____	Nueva Zelanda: _____
Fiji: _____	Palau: _____
Islas Marshall: _____	Papúa Nueva Guinea: _____
Islas Salomón: _____	Samoa Occidental: _____
Kiribati: _____	Tonga: _____
Micronesia: _____	Tuvalu: _____
Nauru: _____	Vanuatu: _____

2. Escribe en el mapa los países de Oceanía y sus capitales.




## Aspecto político de América

El continente americano está conformado por 35 países localizados en América del Norte, América Central y América del Sur.



## Ubica los países de América y sus capitales

1. Escribe los límites del continente en el mapa político de América.
2. Escribe al frente de cada país su correspondiente capital y localízala en el mapa.

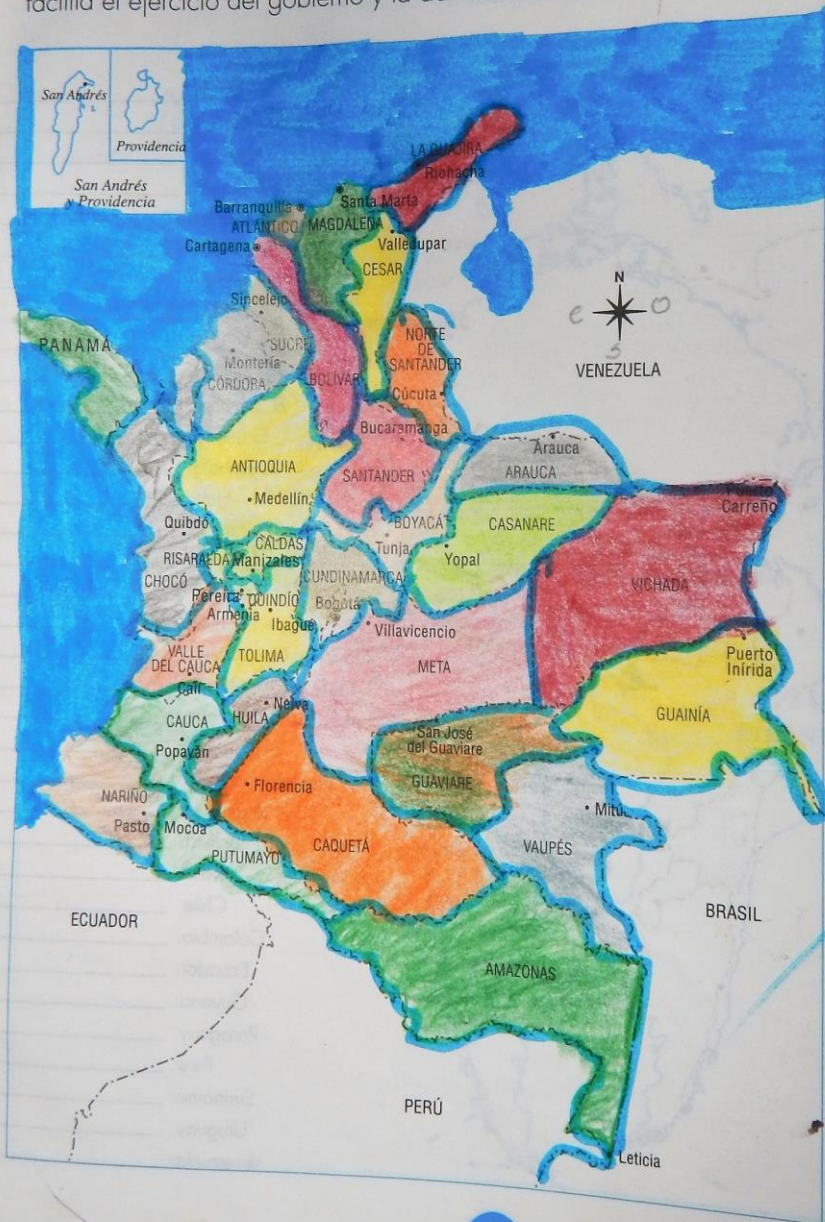


A map of the Americas showing the outlines of countries. Dotted lines indicate the boundaries of the continent. Small black dots are placed on each country to represent their capital cities. The map is oriented with North at the top.

Canadá:	_____
Estados Unidos:	_____
México:	_____
Antigua y Barbuda:	_____
Bahamas:	_____
Barbados:	_____
Bélice:	_____
Costa Rica:	_____
Cuba:	_____
Dominica:	_____
El Salvador:	_____
Granada:	_____
Guatemala:	_____
Haití:	_____
Honduras:	_____
Jamaica:	_____
Nicaragua:	_____
Panamá:	_____
República Dominicana:	_____
San Kitts y Nevis:	_____
San Vicente y las Granadinas:	_____
Santa Lucía:	_____
Trinidad y Tobago:	_____
Argentina:	_____
Bolivia:	_____
Brasil:	_____
Chile:	_____
Colombia:	_____
Ecuador:	_____
Guyana:	_____
Paraguay:	_____
Perú:	_____
Suriname:	_____
Uruguay:	_____
Venezuela:	_____

# División político - administrativa de Colombia

El territorio colombiano está dividido en departamentos. Esta división facilita el ejercicio del gobierno y la administración del país.



1. Retiñe con rojo los límites de tu departamento.

2. Pinta con diferentes colores los departamentos de Colombia.

3. ¿Cómo se llama el gobernador de tu departamento?

Eduardo Verano

4. ¿Cómo se llama el alcalde de la capital de tu departamento?

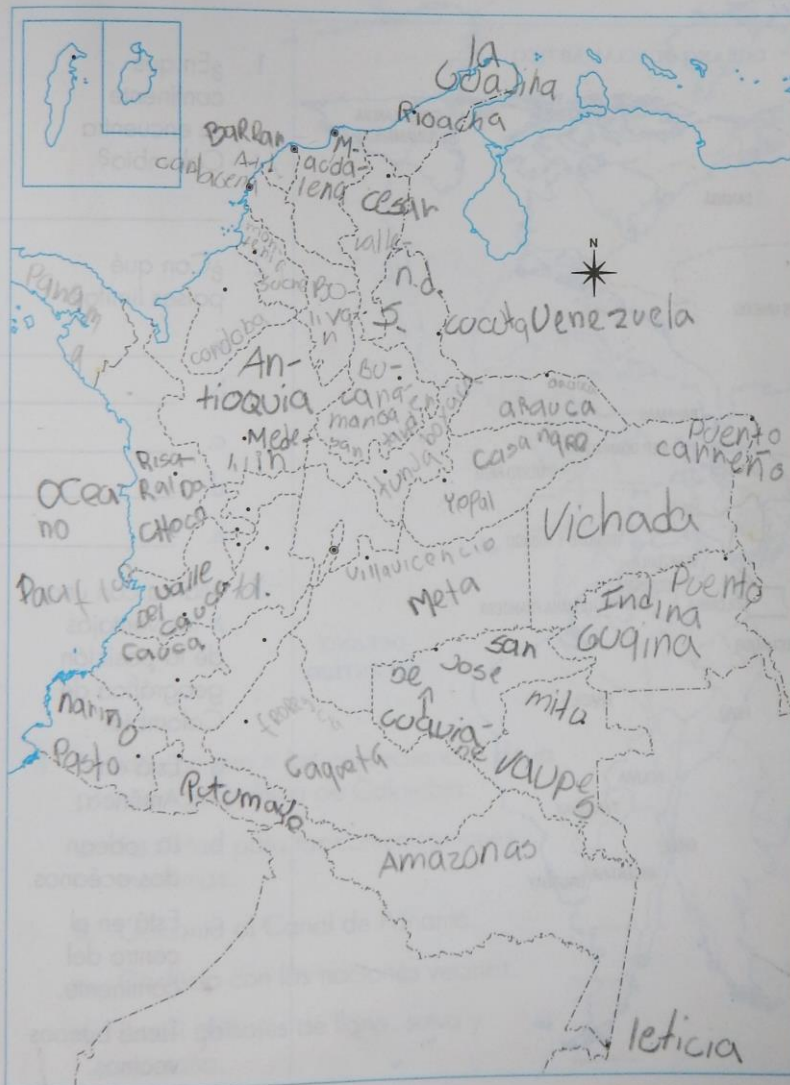
Alex Chan



## Identifica las entidades territoriales de Colombia

Las entidades territoriales de Colombia son los departamentos, los municipios, los distritos y los territorios indígenas.

1. Colorea los departamentos en el mapa de Colombia. Luego, escribe su nombre y el de sus capitales.



2. Escribe el nombre de los distritos especiales de Colombia.

a. \_\_\_\_\_

b. \_\_\_\_\_

c. \_\_\_\_\_

d. \_\_\_\_\_

3. Pinta con rojo, los distritos especiales de Colombia.

4. Escribe el nombre de las entidades territoriales a las que perteneces.

a. \_\_\_\_\_

b. \_\_\_\_\_

## Posición geográfica de Colombia

La posición geográfica de un lugar consiste en determinar su ubicación respecto a otros puntos de la Tierra.

Colombia goza de una ventajosa posición geográfica. Se localiza en el extremo noroccidental de América del Sur, prácticamente al centro del continente. Está rodeada, por el norte y por el occidente, por el Mar Caribe y el Océano Pacífico, respectivamente.



1. ¿En qué continente se encuentra Colombia?

\_\_\_\_\_

2. ¿Con qué países limita?

a. \_\_\_\_\_

b. \_\_\_\_\_

c. \_\_\_\_\_

d. \_\_\_\_\_

e. \_\_\_\_\_

3. Marca con una **X** las ventajas de la posición geográfica de Colombia.

a. Está en América. \_\_\_\_\_

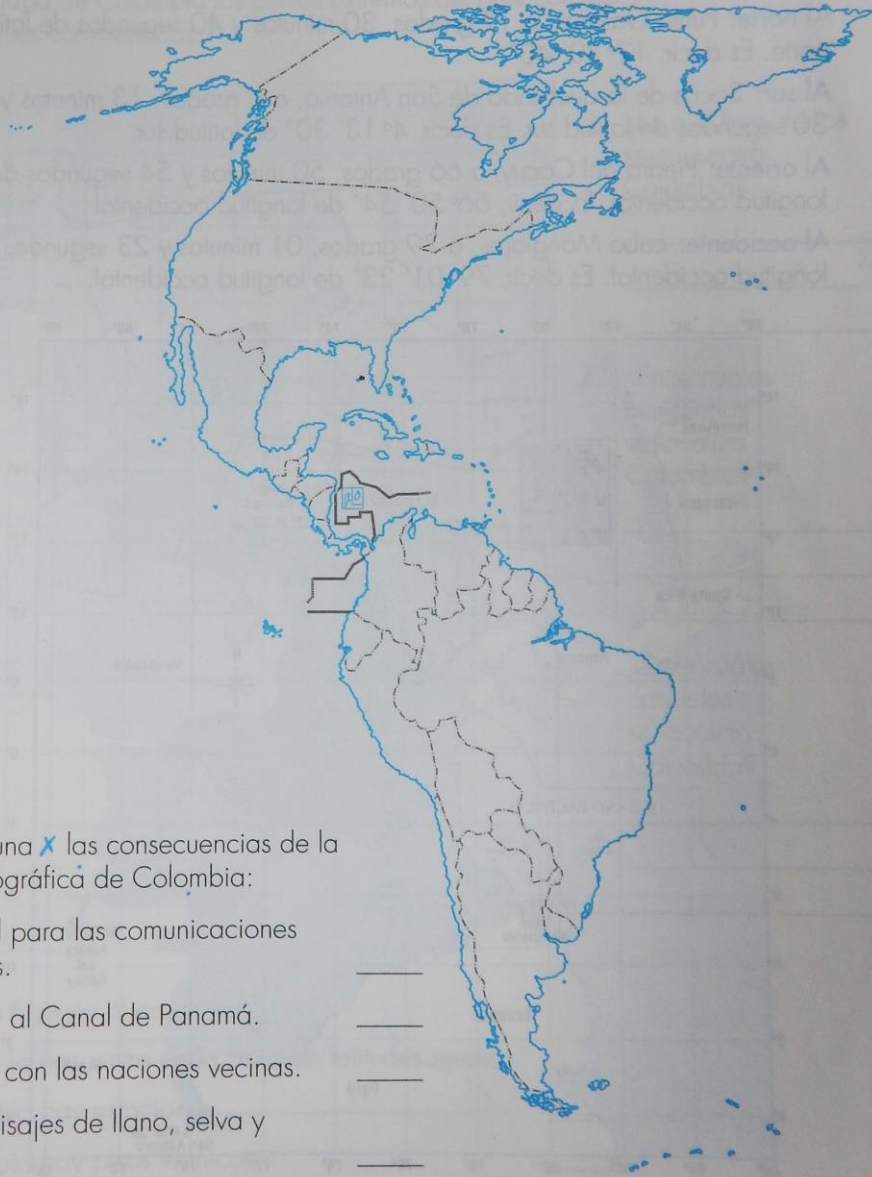
b. La rodean dos océanos. \_\_\_\_\_

c. Está en el centro del continente. \_\_\_\_\_

d. Tiene buenos vecinos. \_\_\_\_\_

## ¿Qué países rodean a Colombia?

1. Escribe los nombres de los países de América.
2. Colorea los países que tienen fronteras terrestres y marítimas con Colombia.



3. Marca con una **X** las consecuencias de la posición geográfica de Colombia:
  - a. Facilidad para las comunicaciones marítimas. \_\_\_\_\_
  - b. Cercanía al Canal de Panamá. \_\_\_\_\_
  - c. Conflicto con las naciones vecinas. \_\_\_\_\_
  - d. Posee paisajes de llano, selva y montaña. \_\_\_\_\_

## Colombia en el planeta

En relación con la latitud, Colombia está ubicada en la zona de latitudes bajas y tiene tierras al norte y al sur de la línea del ecuador. En cuanto a la longitud, Colombia se encuentra al occidente del meridiano de Greenwich.

Los puntos extremos de Colombia son:

**Al norte:** Punta Gallinas, a 12 grados, 30 minutos y 40 segundos de latitud norte. Es decir,  $12^{\circ} 30' 40''$ .

**Al sur:** Bocas de la quebrada de San Antonio, a 4 grados, 13 minutos y 30 segundos de latitud sur. Es decir,  $4^{\circ} 13' 30''$  de latitud sur.

**Al oriente:** Piedra del Cocuy, a 66 grados, 50 minutos y 54 segundos de longitud occidental. Es decir,  $66^{\circ} 50' 54''$  de longitud occidental.

**Al occidente:** cabo Manglares, a 79 grados, 01 minutos y 23 segundos de longitud occidental. Es decir,  $79^{\circ} 01' 23''$  de longitud occidental.



## ¿Cuál es la posición astronómica de Colombia?

1. Escribe los números de los paralelos y los meridianos que atraviesan el territorio colombiano.
2. Ubica en el mapa de Colombia los puntos extremos del país con sus correspondientes coordenadas.



3. ¿En qué hemisferios se encuentra Colombia?  
\_\_\_\_\_  
\_\_\_\_\_  
\_\_\_\_\_

4. ¿Entre cuáles meridianos se localiza Colombia?  
\_\_\_\_\_  
\_\_\_\_\_  
\_\_\_\_\_

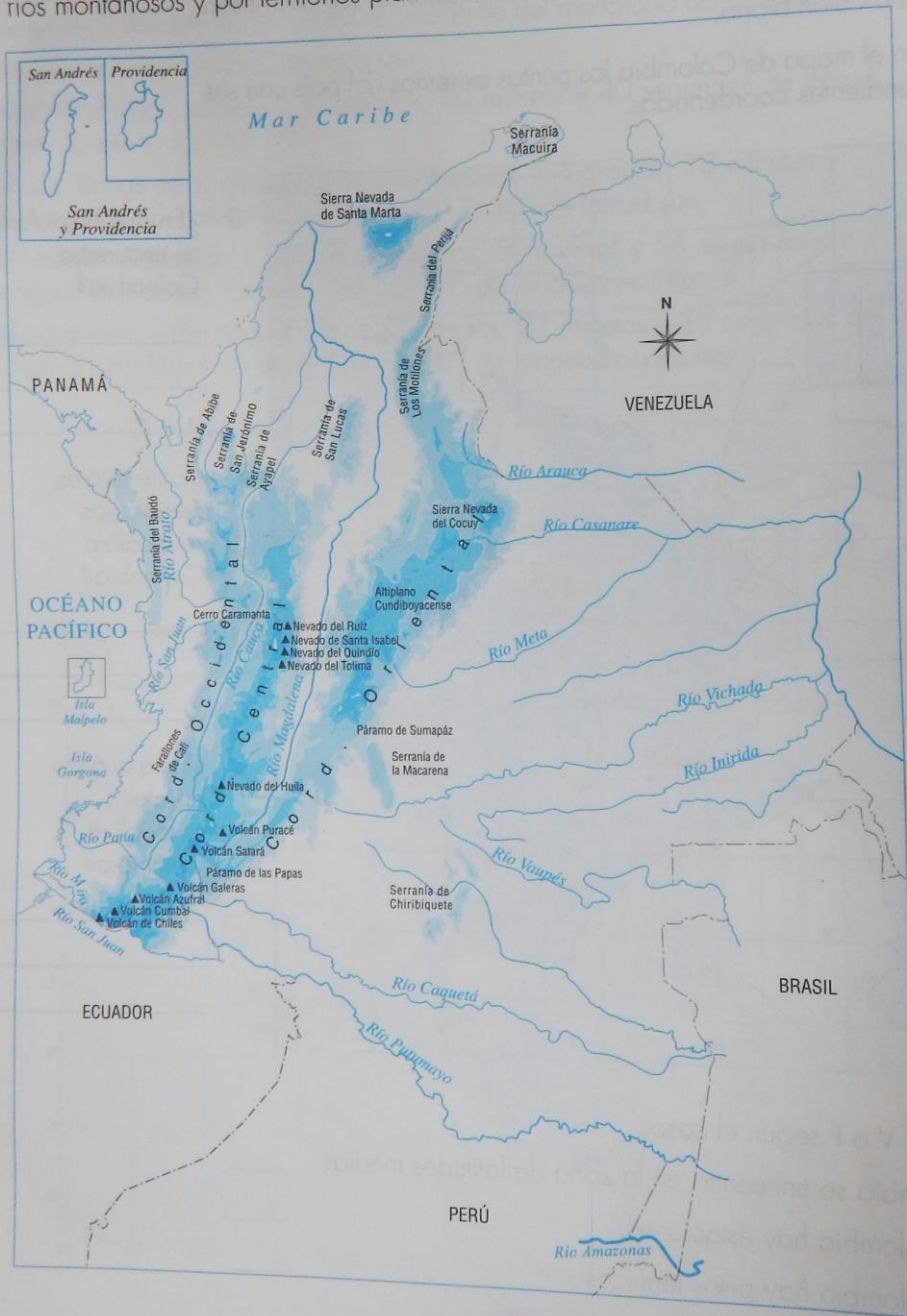
5. ¿Entre cuáles paralelos se localiza Colombia?  
\_\_\_\_\_  
\_\_\_\_\_  
\_\_\_\_\_

6. Responde V o F según el caso:

- a. Colombia se encuentra en la zona de latitudes medias. \_\_\_\_\_
- b. En Colombia hay estaciones. \_\_\_\_\_
- c. En Colombia hay pisos térmicos. \_\_\_\_\_

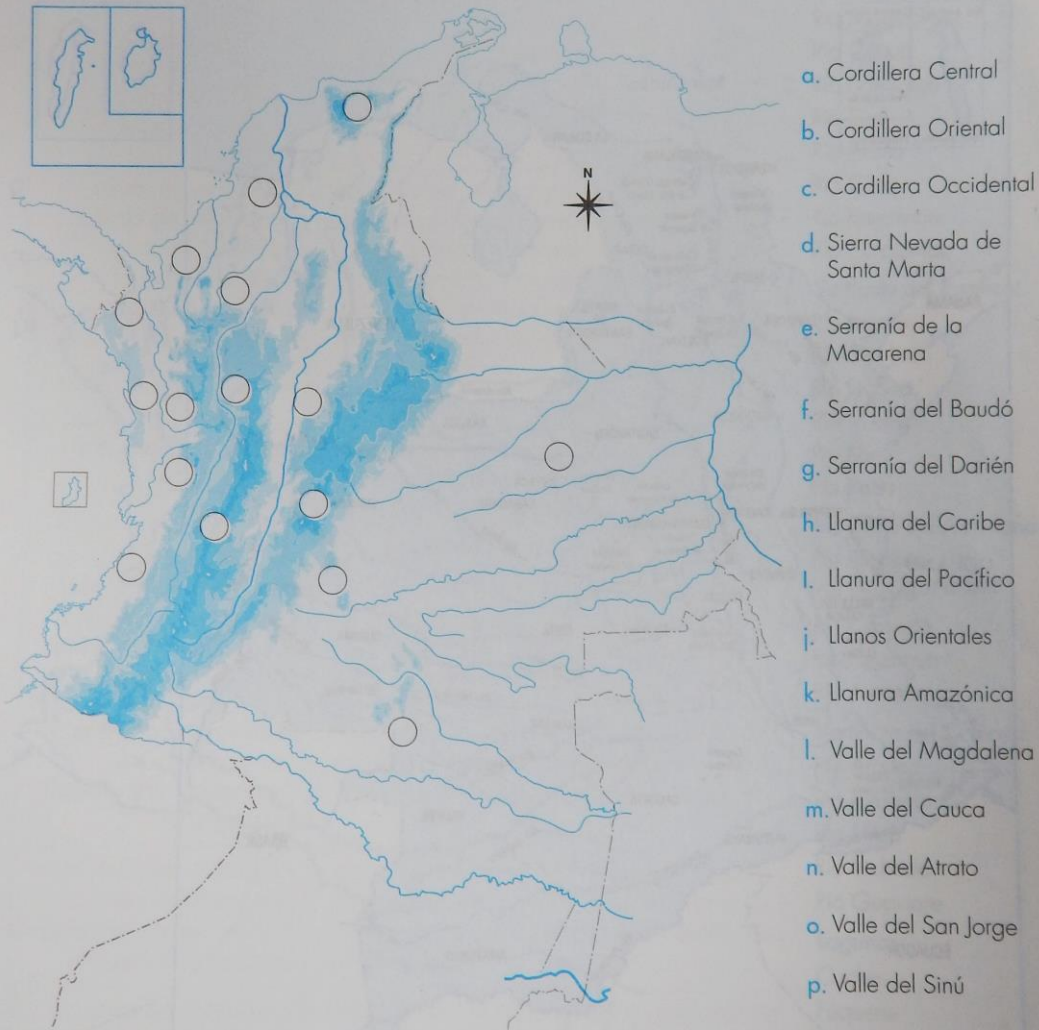
# El relieve de Colombia

El relieve de Colombia es muy variado. Está conformado por territorios montañosos y por territorios planos.



## Identifica las formas del relieve de Colombia

1. Colorea en el mapa con café las montañas y con verde las llanuras y los valles.
2. Escribe en cada círculo la letra correspondiente a la forma del relieve.



3. Subraya en la lista anterior, el relieve quebrado con café y el relieve plano con verde.

## La hidrografía de Colombia

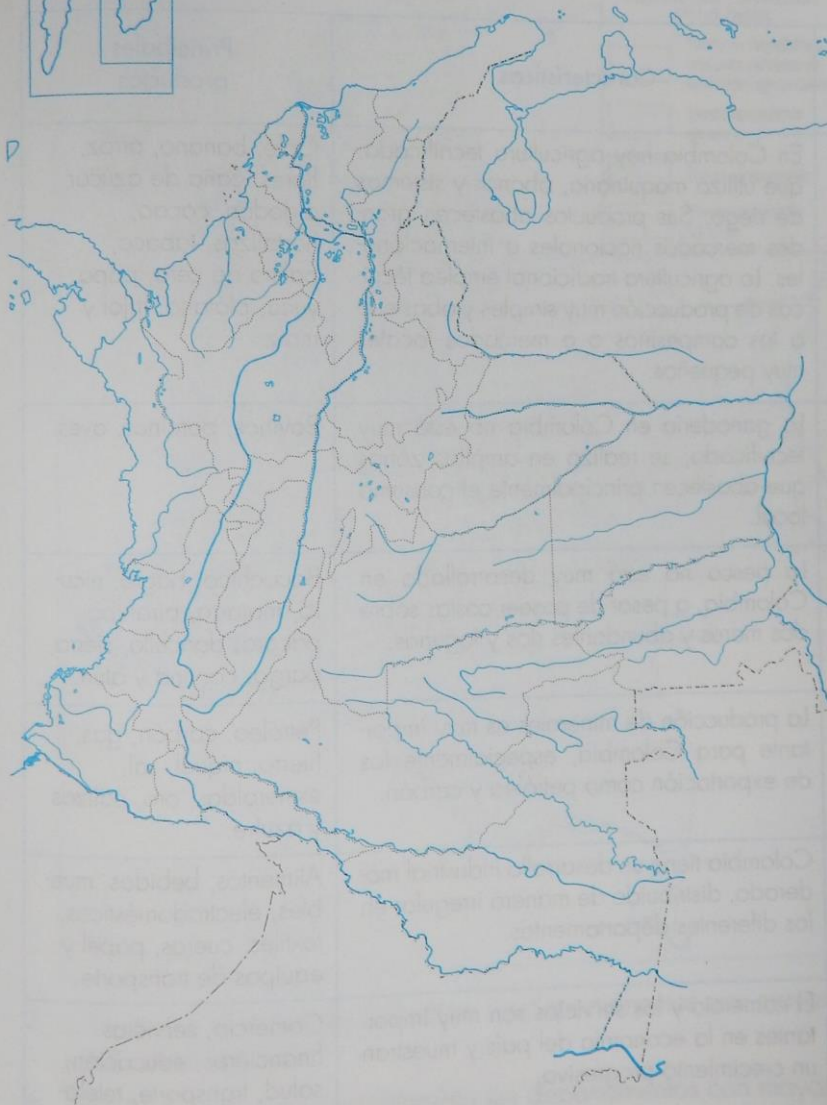
Colombia es uno de los países del mundo con mayor cantidad de ríos y lagunas. Los ríos del país conforman tres vertientes hidrográficas, que son amplios territorios recorridos por ríos que desembocan en el mismo lugar.





## ¿Cuáles son los ríos y las lagunas más importantes de Colombia?

1. Colorea de azul los ríos y las lagunas más importantes de Colombia.
2. Localiza en el mapa los siguientes ríos y lagunas del país.



### Vertiente del Caribe:

Río Magdalena  
Río Cauca  
Río San Jorge  
Río Sinú  
Río Atrato  
Río Cesar  
Río Ranchería  
Río Catatumbo

### Vertiente del Pacífico:

Río Baudó  
Río San Juan  
Río Dagua  
Río Telembí  
Río Mira  
Río Patía

### Vertiente del Amazonas:

Río Guainía  
Río Vaupés  
Río Caquetá  
Río Putumayo  
Río Amazonas

### Vertiente del Orinoco:

Río Arauca  
Río Casanare  
Río Meta  
Río Vichada  
Río Guaviare

### Lagunas:

Cocha  
Fúquene  
Tota  
Suesca  
Guatavita

## Economía de Colombia

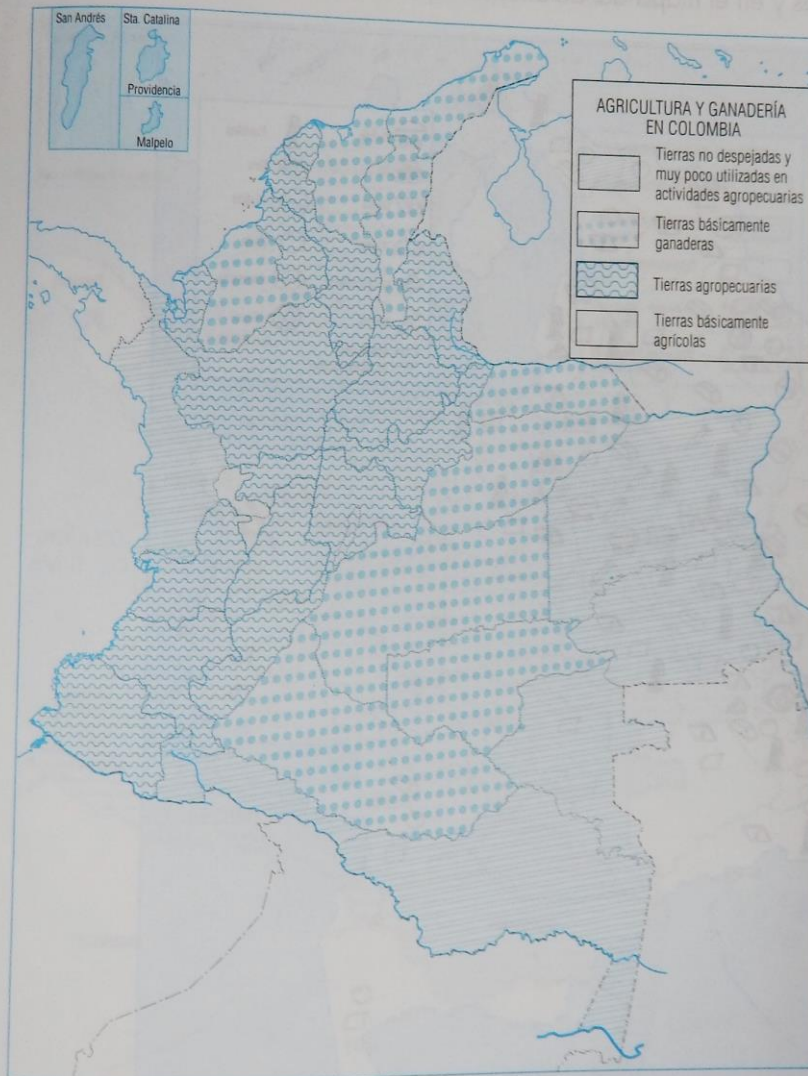
En Colombia se realizan varias actividades económicas cuya producción abastece las necesidades de la población nacional, y una menor proporción se destina a las exportaciones.

Hay muchos artículos que Colombia no produce y los tiene que importar, como maquinaria pesada, equipos electrónicos y automóviles, entre otros.

Actividades económicas de los colombianos	Características	Principales productos
Agricultura	En Colombia hay agricultura tecnificada, que utiliza maquinaria, abonos y sistemas de riego. Sus productos abastecen grandes mercados nacionales e internacionales. La agricultura tradicional emplea técnicas de producción muy simples y abastece a los campesinos o a mercados locales muy pequeños.	Café, banano, arroz, flores, caña de azúcar, algodón, cacao, hortalizas, tabaco, palma de cera, papa, yuca, plátano, frijol y maíz.
Ganadería	La ganadería en Colombia no está muy tecnificada; se realiza en amplias zonas que abastecen principalmente el consumo local.	Bovinos, porcinos, aves.
Pesca	La pesca no está muy desarrollada en Colombia, a pesar de poseer costas sobre dos mares y abundantes ríos y lagunas.	Bocachico, bagre, nicuro, mojarra, pirahiba, pácora, doncello, sierra, pargo, corvina y atún.
Minería	La producción de minerales es muy importante para Colombia, especialmente los de exportación como petróleo y carbón.	Petróleo, carbón, gas, hierro, níquel, sal, esmeraldas, oro, calizas y azufre.
Industria	Colombia tiene un desarrollo industrial moderado, distribuido de manera irregular en los diferentes departamentos.	Alimentos, bebidas, muebles, electrodomésticos, textiles, cueros, papel y equipos de transporte.
Comercio y servicios	El comercio y los servicios son muy importantes en la economía del país y muestran un crecimiento progresivo.	Comercio, servicios financieros, educación, salud, transporte, telefonía y servicios

## ¿Cuáles son los departamentos agrícolas y ganaderos de Colombia?

1. Identifica en el mapa los departamentos agrícolas y ganaderos de Colombia.



2. Colorea en el mapa de Colombia los departamentos con mayor producción agrícola.
3. Colorea en el mapa de Colombia los departamentos con mayor producción ganadera.

## ¿Cuáles son los departamentos mineros de Colombia?

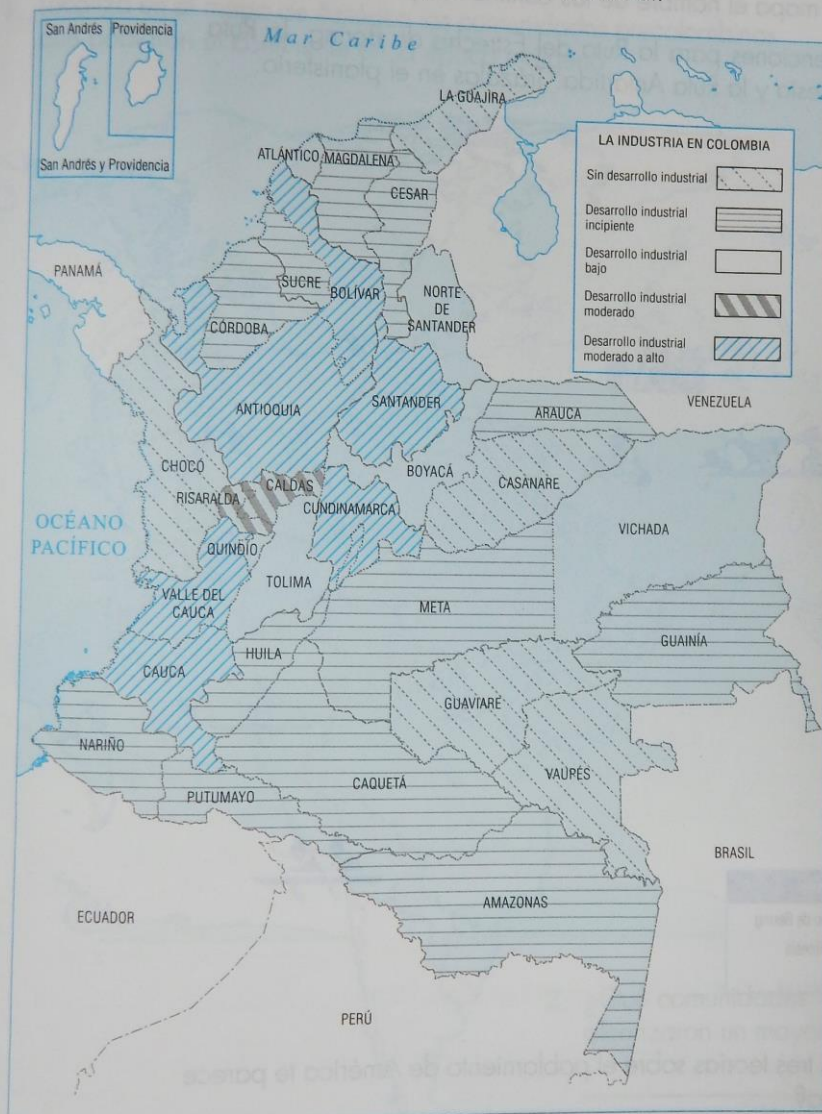
1. Asigna un color a cada producto mineral y coloréalo en la tabla de convenciones y en el mapa de Colombia.



2. Consulta sobre la producción minera de tu departamento y realiza una exposición.

## ¿Cuáles son los departamentos industriales de Colombia?

1. Asigna un color a cada convención y colorea en el mapa los departamentos que tienen mayor producción industrial.



2. ¿Qué región de Colombia presenta mayor producción industrial?

## El poblamiento de América

Consulta las páginas 146 y 147 de tu libro **Relaciones 4** y realiza las siguientes actividades:

1. Escribe en el mapa el nombre de los continentes y de los océanos.
2. Inventa convenciones para la Ruta del Estrecho de Bering, la Ruta Malayo Polinesia y la Ruta Antártida. Trázalas en el planisferio.



3. ¿Cuál de las tres teorías sobre el poblamiento de América te parece más acertada? \_\_\_\_\_

¿Por qué? \_\_\_\_\_

## Qué comunidades indígenas poblaron América?

Consulta las páginas 148 y 149 de tu libro **Relaciones 4** y realiza las siguientes actividades:  
*Ciencias sociales*

1. Localiza en el mapa de América las comunidades precolombinas que poblaron el continente en la época indígena.



2. ¿Qué comunidades indígenas alcanzaron un mayor desarrollo?

---

---

---

## El Descubrimiento de América

Consulta la página 194 de tu libro **Relaciones 4** Ciencias sociales y realiza las siguientes actividades:

1. En el planisferio:
  - a. Escribe el nombre de los continentes y los océanos.
  - b. Encierra con una línea roja el mundo conocido por los europeos en el siglo XV.
  - c. Traza la ruta que pensaba seguir Colón para llegar a las Indias Orientales.



2. Contesta V o F según el caso.
  - a. Colón pensaba que la Tierra era redonda. \_\_\_\_\_
  - b. Colón quería navegar por el Atlántico para llegar a América. \_\_\_\_\_
  - c. Durante la época de Colón la gente creía que la Tierra era plana. \_\_\_\_\_
  - d. Los europeos del siglo XV no sabían que existía América. \_\_\_\_\_



## ¿Qué viajes realizó Cristóbal Colón?

Consulta la página 195 de tu libro **Relaciones 4** Ciencias sociales y realiza las siguientes actividades:

1. ¿Cuántos viajes realizó Colón a América? \_\_\_\_\_
2. ¿Cuánto tiempo duró el primer viaje que hizo Colón a América?  
\_\_\_\_\_

3. Traza en el mapa las rutas de los viajes de Colón.



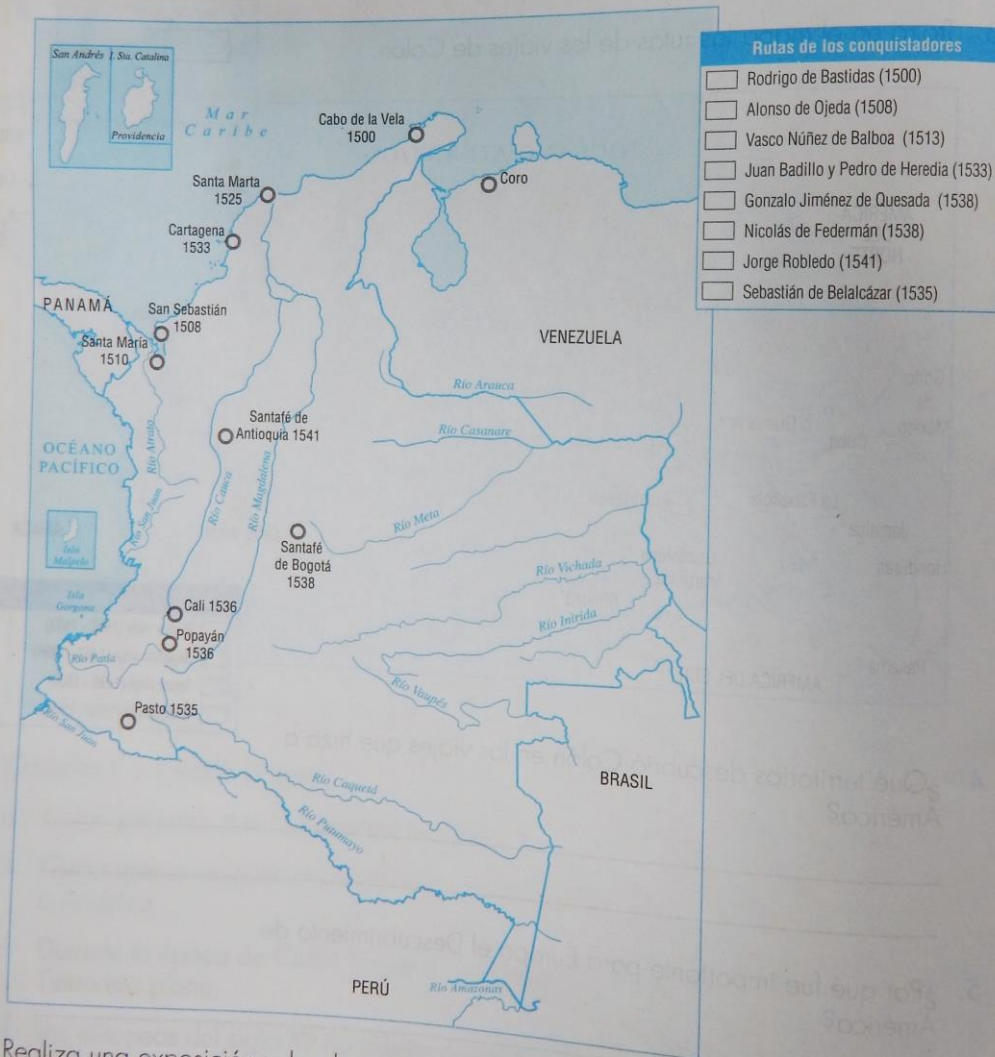
4. ¿Qué territorios descubrió Colón en los viajes que hizo a América?  
\_\_\_\_\_  
\_\_\_\_\_

5. ¿Por qué fue importante para Europa el Descubrimiento de América?  
\_\_\_\_\_  
\_\_\_\_\_

## ¿Quiénes conquistaron el territorio colombiano?

Consulta la página 201 de tu libro **Relaciones 4** y realiza las siguientes actividades:  
*Ciencias sociales*

1. Asigna un color a cada conquistador y traza en el mapa la ruta que siguió.



2. Realiza una exposición sobre las características de la conquista.



Los **PROYECTOS DE ÁREA** de la serie *Relaciones de Ciencias Sociales* se han diseñado para potenciar en los estudiantes aprendizajes significativos que contribuyen al desarrollo y consolidación de las competencias a partir de procesos que orientan:

- La observación y la comprensión de situaciones concretas de su entorno para validar conocimientos.
- El estudio de problemas a partir de situaciones que estimulan el análisis y el juicio crítico.
- La formulación de hipótesis y el desarrollo de tareas de investigación.  
La búsqueda, recolección y estudio de la información.
- La formulación de preguntas y la búsqueda de explicaciones.
- El estudio interdisciplinar y la transferencia de información, conceptos y conocimientos a nuevos contextos.

De esta manera, los **PROYECTOS DE ÁREA** de la serie *Relaciones de Ciencias Sociales* constituyen una magnífica estrategia de aprendizaje que favorece la comprensión de contenidos, su organización y transferencia.



Libros & Libros S.A.  
Actualidad Educativa

Calle 15 N° 68D-52 / Bogotá, D.C., Colombia

Tels: 4117527 - 4117659 / Fax 4112501

[www.librosylibros.com.co](http://www.librosylibros.com.co)

ISBN 958-8147-66-2



9 789588 147666