


INGRESO A LA UNIVERSIDAD

1040 EJERCICIOS
10 PRUEBAS DE ELECCION MULTIPLE

GEOGRAFIA DE COLOMBIA Y UNIVERSAL

PRUEBAS PARA
INGRESO A LA UNIVERSIDAD
CURSOS PREUNIVERSITARIOS
DISEÑAR EXAMENES
VALIDAR EL BACHILLERATO

 EDITORIAL HISPANOAMERICA



GEOGRAFIA

DE

COLOMBIA Y UNIVERSAL

EDITORIAL HISPANOAMERICA

Bogotá, Caracas, Quito, Lima, La Paz, Santiago, Buenos Aires, Sao Paulo,
México, Puerto Rico, Panamá.

Copyright 1984 por Editorial Hispanoamerica
Registrado en el ministerio de Gobierno de Colombia
Sección de Propiedad Intelectual y Publicaciones

EDITORIAL HISPANOAMERICA S. L.
Apartado Aéreo 15652 Bogotá, Colombia S. A.
IMPRESO EN COLOMBIA

Este libro no puede reproducirse, total o parcialmente, por ningún método gráfico, electrónico o mecánico, incluyendo los sistemas de fotocopia, registro magnetofónico o de alimentación de datos, sin autorización escrita del autor.

LA TIERRA COMO UN PLANETA

Existen tres hechos que explican el cambio de las estaciones, la variación de la longitud del día y la noche, y la diferencia horaria de un punto de la Tierra con relación a otro.

La Tierra es un satélite o planeta del Sol, que recorre su órbita en 365,5 días.
Es casi una esfera perfecta.

Gira sobre su eje que está inclinado $66,5^\circ$ con relación al plano de su órbita.

Una idea de estos conceptos es fundamental para entender la geografía universal. Ud. debe estar en capacidad de contestar las siguientes preguntas después de que haya leído el material que se da a continuación.

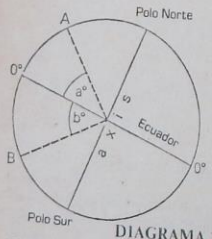
1. Para la ciudad de Sao Paulo ($23^\circ 30' S, 47^\circ W$) explique los siguientes hechos por medio de un diagrama:
 - (a) el tiempo local cuando es medio día en Londres (TMG)
 - (b) la elevación del sol de medio día el 21 de diciembre
 - (c) la longitud del día el 21 de marzo.
2. (a) ¿Cuándo es medio día en Manaos, Brasil ($60^\circ W$), qué hora es en Londres?
 - (b) Muestre por medio de un diagrama que el Trópico de Cáncer está a $23,5^\circ$ al norte del Ecuador
 - (c) ¿Con qué ángulo inciden los rayos solares al medio día el 21 de diciembre en Tomsk, USSR ($56^\circ 30' N$)?
3. (a) Explique por qué el Ecuador recibe la misma cantidad de luz que de oscuridad, mientras que los polos pueden recibir 24 horas de luz o 24 horas de oscuridad según la época del año.
 - (b) Por medio de un diagrama explique lo que entiende por longitud;
 - (c) Explique el significado de Línea del Tiempo Internacional para una persona que cruza el Océano Pacífico desde California ($120^\circ W$ de longitud) al Japón ($123^\circ E$ de longitud) y después regresa en la dirección opuesta.
4. De las siguientes frases subraye, la que describe la diferencia de tiempo local entre Nueva Orleans ($90^\circ W$) y el Cairo ($30^\circ E$):
El tiempo en Nueva Orleans está retrasado 4 horas con relación al tiempo del Cairo
El tiempo en Nueva Orleans está retrasado 8 horas con relación al tiempo en el Cairo
El tiempo en Nueva Orleans está adelantado 8 horas con relación al tiempo en el Cairo
El tiempo en Nueva Orleans está adelantado 4 horas con relación al tiempo en el Cairo
Nueva Orleans y el Cairo tienen el mismo tiempo local.

RESPUESTAS: 1 (a) Adapte el diagrama 8 para mostrar únicamente los meridianos 0° y $47^\circ W$. El tiempo local es:
(4 minutos x 4) = 188 minutos = 3 hr. 8 minutos más temprano que el TMG... tiempo local = 0852.

(b) Adapte el diagrama 7 (B) y muestre a Sao Paulo en el Trópico de Capricornio. Por esta razón el sol de medio día está sobre nuestra cabeza el 21 de diciembre.
(c) Dibuje el diagrama 6. El 21 de marzo (equinoccio de otoño en Sao Paulo), la luz solar allí y en el resto del planeta es de 12 horas.

- 2(a) Tenga cuidado- la mayor parte de las preguntas se basan en el meridiano de medio día de Greenwich. Dibuje un diagrama como el de 1 (a), y calcule el TMG con el tiempo de Manaus. Respuesta 1600 h (4 p.m)
- (b) Adapte el diagrama 7 (A). El trópico de Cáncer representa en el diagrama $90^\circ - 66,5^\circ = 23,5^\circ$.
- (c) Vea el diagrama 4 y su explicación.
- 3 (a) Dibuje un mapa mostrando Japón, USA, la LTI y dos flechas, una para cada viaje. El viaje hacia el Oeste implica perder un día, que se vuelve a ganar en el viaje de retorno.
- 4 La segunda respuesta es la correcta.
- (b) Diagrama 2 con sus indicaciones.

COMO SE CALCULA LA LATITUD



La latitud de un punto de la superficie de la Tierra es su distancia N ó S, con relación al Ecuador, medida como un ángulo central con vértice en el centro de la Tierra y que varía de 0° (en el Ecuador) a 90° (en el Polo Norte y Polo Sur).

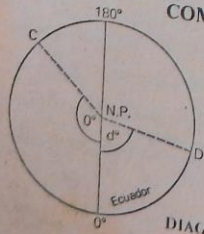
El Diagrama adjunto representa una sección de la Tierra que pasa por los polos. La latitud del punto A es a° N, y la del punto B es b° S.

DIAGRAMA 1

LATITUD. Los únicos dos puntos fijos de la Tierra al girar son los extremos de sus ejes - los Polos. Por el punto medio de la recta que une los Polos está la recta ecuatorial que separa el Hemisferio Norte del Hemisferio Sur y que sirve de base para medir la latitud. Cualquier recta que una los puntos de la misma latitud forma un círculo paralelo al Ecuador. A dichas rectas se les llama *paralelos* de latitud. Cuatro *paralelos* son de importancia especial:

1. El **Círculo Ártico** ($66,5^\circ$ N) marca el límite del área que rodea el Polo Norte y dentro de la cual, cada año, tiene lugar 24 horas continuas de oscuridad y 24 horas de día.
 2. El **Círculo Antártico** ($23,5^\circ$ S) marca el límite del área correspondiente en el Polo Sur.
 3. El **Trópico de Cáncer** ($23,5^\circ$ N) y
 4. El **trópico de Capricornio** ($23,5^\circ$ S) son respectivamente, la latitud más al norte y más al sur y en las cuales el sol de medio día está vertical por lo menos una vez al año.
- Entre los dos está comprendida el área llamada el "trópico".

COMO SE CALCULA LA LONGITUD



La longitud de un punto sobre la superficie terrestre es su distancia este u oeste del **Meridiano Fundamental** medida por un ángulo con relación al eje terrestre.

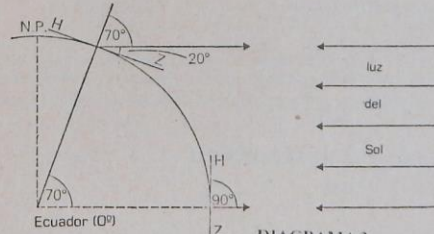
El diagrama adjunto representa la Tierra vista desde el Polo Norte. La longitud del punto C es c° W, y la del punto D es d° E.

DIAGRAMA 2

LONGITUD. La distancia angular de un punto sobre la superficie terrestre al este o al oeste de un meridiano central (vea el diagrama 2), se mide por medio del ángulo que forma el plano del meridiano que pasa por el punto y el del meridiano central. Por un acuerdo internacional en 1884 se decidió que las distancias se miden a partir del meridiano que pasa por Greenwich, que se considera situado a 0° este, oeste. Por cada 15 grados de longitud en el Ecuador hay una diferencia local de tiempo de una hora. Observe que la latitud se calcula de 0° a 90° , mientras que la longitud se calcula de 0° a 180° .

Consideradas en conjunto, las rectas de latitud y longitud forman un sistema de coordenadas que permiten localizar la posición de cualquier punto de la superficie terrestre. Cualquier recta que divida la Tierra en dos partes iguales (como el Ecuador o un círculo formado por los meridianos de 90° E y 90° W) se llama un **círculo máximo**. La distancia mínima entre dos puntos de la superficie terrestre está sobre un círculo máximo que pasa por los dos puntos.

A LA LATITUD Y LA ALTURA DEL SOL



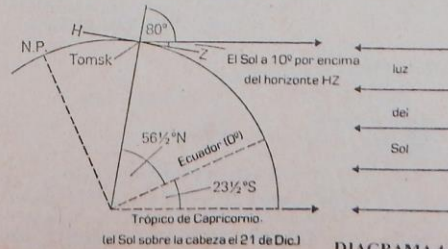
El ángulo de elevación del Sol de medio día por encima del horizonte (HZ) está relacionado con la latitud del observador. Cuando el Sol de medio día está sobre el Ecuador, su altitud en cualquier otro punto sobre el mismo meridiano es el ángulo complementario de la latitud:

la altura $90^\circ - \text{latitud}$.

DIAGRAMA 3

LA LATITUD Y EL SOL. El diagrama 7 muestra que en cualquier momento la mitad de la Tierra está iluminada y la otra mitad a oscuras. Debido a la rotación de la Tierra, la mayor parte de los puntos de su superficie reciben la luz solar cada 24 horas. En la mitad de este periodo solar está el medio día- en el cual el Sol aparece en su punto más alto- para ese día- en el cielo. Esto no significa que el Sol esté verticalmente sobre nuestra cabeza; esto puede suceder o no, depende del tiempo del año y la latitud del lugar en cuestión.

B LA LATITUD Y LA ALTURA DEL SOL

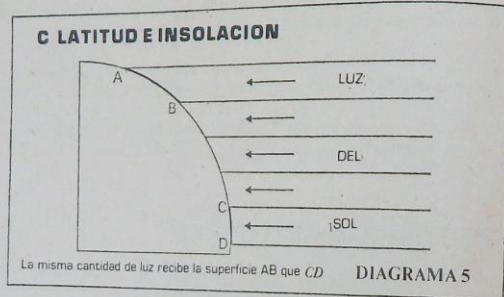


Estudie los diagramas 3 y 4 cuidadosamente para que construya un tercer diagrama que le de la altitud del Sol de medio día en la ciudad de Tomsk el 21 de junio, cuando está sobre el Trópico de Cáncer, $23,5^\circ$ N. El diagrama muestra que la respuesta es:

$90^\circ - (\text{diferencia de latitudes})$
 o sea $90^\circ - (56,5^\circ - 23,5^\circ) = 90^\circ - 33^\circ = 57^\circ$

DIAGRAMA 4

Las condiciones que se dan en el diagrama 3, solamente se presentan dos veces al año. En lo que resta del año el Sol está en algún punto al norte o al sur del Ecuador. El diagrama 4 ilustra P 2 (c) de la página 1 y muestra cuando el Sol está en un punto del Hemisferio Sur; su altitud en un punto del Hemisferio Norte es el complemento de la suma de las latitudes de los dos lugares. Así, la altitud del Sol al medio día en Tomsk es el 21 de diciembre $90^\circ - (56,5^\circ + 23,5^\circ) = 90^\circ - 80^\circ = 10^\circ$.



Este diagrama explica porqué la latitud es un factor vital para determinar el clima en cualquier lugar. En los sitios donde el Sol está perpendicular a la superficie, al medio día, su energía efectiva (insolación) se concentra más que en los sitios de mayor latitud (o sea en los Polos).

LA ORBITA DEL SOL Y LAS ESTACIONES



Observe que la inclinación del eje de la Tierra siempre sigue la misma dirección, por tanto el Polo Norte (Sur) está inclinado a veces hacia el Sol y otras alejándose del mismo, mientras que dos veces al año ningún Polo se inclina hacia el Sol.

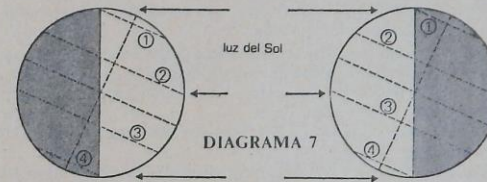
Para el diagrama adjunto, escriba las fechas de las cuatro posiciones que se dan. LAS ESTACIONES. En las proximidades del Ecuador el Sol del medio día está sobre nosotros, mes a mes las temperaturas varían muy poco, y los términos "verano" e "invierno" no tienen sentido. En los demás sitios los cambios estacionales son muy marcados, y el diagrama anterior resume las estaciones.

Desde abril a agosto el Hemisferio Norte se inclina hacia el Sol, por tanto recibe más energía solar y los días son más largos. Por estas razones la temperatura media es más alta y las condiciones agrícolas son mejores, que las de octubre a febrero. En el Hemisferio Sur las condiciones son opuestas.

En junio el Sol está en su punto norte más alejado ($23,5^\circ$) y después del cual aparece cada vez más al sur hasta diciembre que está a $23,5^\circ$ S. De diciembre a junio se mueve hacia el noroeste. Este desplazamiento anual se llama la migración aparente del sol.

VARIACION DEL DIA Y DE LA NOCHE

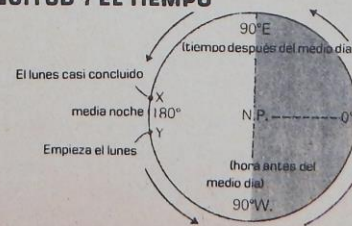
A Junio 21- El Sol es perpendicular en los $23,5^\circ$ N B Dic. 22- El sol es perpendicular en los $23,5^\circ$ S



- En el Ecuador: 12 horas de luz.
- En el Hemisferio Norte: más de 12 horas de luz.
- En los $66,5^\circ$ N, y hacia el norte: 24 horas de luz.
- En el Polo Norte: punto medio de 6 meses de luz continua.
- En el Ecuador: 12 horas de luz.
- En el Hemisferio Norte: menos de 12 horas de luz.
- En los $66,5^\circ$ N, y hacia el norte: 24 horas de oscuridad.
- En el Polo Norte: punto medio de 6 meses de oscuridad continua.

EL DIA Y LA NOCHE. En un país como E. U los días de verano y las noches de invierno en el norte son más largos que en la Florida. Los dos diagramas, ilustran los solsticios de verano e invierno, son aumentos del diagrama y muestran la latitud y el tiempo del año, afectan la duración del día y la noche. En los países alejados del Ecuador se aprecia el cambio de variación de días cortos a días largos. En el punto medio de cada solsticio, en marzo y septiembre, la Tierra llega a un punto de su órbita donde la inclinación de su eje ni se acerca ni se aleja del Sol (vea el diagrama 6). El Sol de medio día está sobre nuestra cabeza en el Ecuador, la frontera entre luz y oscuridad pasa por los Polos, y la Tierra total tiene periodos iguales de luz y oscuridad. Estas dos fechas son los equinoccios.

LONGITUD Y EL TIEMPO



El diagrama representa la Tierra vista desde arriba del Polo Norte. La fecha es marzo 21 o septiembre 23 y la recta divisoria del día/noche pasa por los Polos.

LA LONGITUD Y EL TIEMPO. La tierra gira 360° en 24 horas o sea 15° en 1 hora, o 1° en 4 minutos. Los cuatro meridianos de longitud que se muestran en el diagrama son curvas sobre una esfera y no rectas como sucede en un círculo. Cuando es medio día en Greenwich también es medio día en cualquier otro punto del meridiano 0° . En los lugares al este de Greenwich el tiempo es pasado el medio día - su tarde local es más temprana. En el mismo instante es media noche en todos los puntos del meridiano de 180° . En los lugares al oeste de Greenwich la tarde local de cualquier día es más tardía. Lugares al oeste de Greenwich la tarde local de cualquier día es más tardía. En P Así, si sabemos la longitud de dos lugares se puede calcular su diferencia en tiempo local. En P 4 de la página 1 el diagrama debe mostrar los lugares separados (90° W - 30° E) - 120° , por tanto la diferencia es 120 : 15 = 8 horas.

LA LINEA DEL TIEMPO INTERNACIONAL.

Observando el diagrama anterior en X es casi martes; en Y ha terminado el lunes. Hay un día de diferencia entre dos sitios próximos, y si no se hacen ajustes se presentaría un confusión mundial con relación a fechas, horarios, etc.

El meridiano de 180° se acepta como la recta de referencia del tiempo internacional, excepto las desviaciones locales para evitar áreas deshabitadas. Compruebe estas desviaciones en un atlas, y observe que afortunadamente la recta de 180° está situada completamente en mar abierto. El diagrama 8 muestra:

1- al cruzar la recta de este a oeste (Y a X) los viajeros pierden un día - o sea el calendario se adelanta en una fecha.

2- Al cruzar de oeste a este (X a Y) los viajeros ganan un día. En este ejemplo el lunes se repite.

TIEMPO NORMAL Y ZONAS DE TIEMPO. Por conveniencia se acepta el tiempo del meridiano de Greenwich como el tiempo normal para medir el tiempo en todo el planeta. Como 15° de longitud representan una hora de diferencia en tiempo local, los países grandes dividen su territorio en Zonas de Tiempo de 15° de ancho. Cada zona tiene un tiempo local normal con una hora de diferencia con relación a las zonas vecinas. ¿Cuántas horas de tiempo tiene el mapa de Colombia?

GEOGRAFIA UNIVERSAL

Ejercicio: *busque el par...*

- ___ 1. Trópicos
 - ___ 2. Meridiano de Greenwich
 - ___ 3. Meridianos
 - ___ 4. Círculos polares
 - ___ 5. Ecuador
 - ___ 6. Husos horarios
 - ___ 7. Polo magnético
 - ___ 8. Paralelos
 - ___ 9. Rosa de los vientos
 - ___ 10. Brújula
- a. Se usan para medir la longitud, distancias hacia el occidente o el oriente (grados, minutos, segundos)
 - b. Para medir la latitud, distancias en grados, minutos y segundos al sur o al norte del Ecuador
 - c. Son dos: el de Cáncer y el de Capricornio
 - d. Comprenden 15° de longitud y son el equivalente de 1 hora en el reloj
 - e. Situados en las zonas de latitudes altas
 - f. Divide la tierra en dos hemisferios: norte y sur
 - g. Divide la tierra en hemisferios: oriental y occidental; a partir de él se cuentan las horas
 - h. Aguja imantada que señala el Norte
 - i. Punto magnético de la tierra, hacia el polo norte
 - j. Símbolo para representar los puntos cardinales en un mapa
- a. Señala siempre el Norte
 - b. Constelación austral situada entre las constelaciones de El Navio y el Centauro.
 - c. Ocultación de la luz de un astro por interponerse otro
 - d. Son consecuencia del movimiento de rotación de la tierra sobre sí misma
 - e. A eso se debe la distinta duración de los días y las noches en el globo terrestre
 - f. Se hallan entre las órbitas de Marte y Júpiter
 - g. Un planeta más pequeño que la Tierra
 - h. Órbita en forma de elipse, descrita por los planetas en su movimiento alrededor del sol
 - i. Grupo de estrellas que forman una figura
 - j. Astros que constan de un centro luminoso y una ráfaga o cola luminosa
- ___ 11. Eclipse
 - ___ 12. Asteroides
 - ___ 13. Constelación
 - ___ 14. Estrella Polar
 - ___ 15. El día y la noche
 - ___ 16. Cruz del Sur
 - ___ 17. Inclinação de la tierra, sobre su eje, al rotar
 - ___ 18. Elíptica
 - ___ 19. Cometa
 - ___ 20. Mercurio
 - ___ 21. Africa
 - ___ 22. Asia
 - ___ 23. Europa

GEOGRAFIA DE COLOMBIA

- 24. América
- 25. Antártida
- 26. Oceanía
- 27. Sputnik I
- 28. John H. Glenn
- 29. Asteroides
- 30. Yuri A. Gagarin
- 31. Fuerza de atracción
- 32. Meteorito
- 33. Fenómenos relacionados con la atmósfera
- 34. Fenómenos relacionados con la temperatura interna de la tierra
- 35. Satélites
- 36. Biosfera
- a. Continente que se extiende en sentido de los meridianos.
- b. Continente que ocupa la zona próxima al Polo Sur.
- c. Continente separado de Asia por una cordillera.
- d. Continente separado por el meridiano 0° y el Ecuador.
- e. Continente que se extiende en sentido de los paralelos.
- f. Geográficamente dividido en: Malasia, Melanesia, Polinesia y Micronesia.
- a.- Son posiblemente restos de planetas que dan vueltas alrededor del sol en épocas determinadas y en órbitas muy irregulares
- b. Astros que giran alrededor de un planeta, como la luna
- c. Cuerpos que formaron parte de algún astro y que entraron en contacto con la atmósfera terrestre
- d. Debido a ella no se salen de sus órbitas los planetas. Es directa en razón de las masas e inversa en razón del cuadrado de las distancias
- e. Primer satélite hecho por el hombre (octubre 4 de 1957)
- f. Nombre del primer astronauta que se lanzó alrededor de la tierra, el 12 de abril de 1961
- g. Primer astronauta norteamericano (febrero 20 de 1962)
- h. Lluvia, vientos, rayos, arco iris, granizo, nubes
- i. Volcanes, aguas termales, geysers, rocas ígneas
- j. Zona de la tierra donde es posible el desarrollo de la vida
37. Meseta
38. Sabana de Bogotá
39. Selva del Carare
40. Los trópicos de Cáncer y de Capricornio
41. Elementos del paisaje natural
42. Elementos del paisaje cultural
43. Archipiélago
44. Traslación de la tierra alrededor del sol
45. Depresión
46. 90°
- a. Separan las zonas templadas de la zona ecuatorial
- b. La mayor distancia a que puede estar un punto del Ecuador terrestre
- c. 365 días y 1/4 aproximadamente
- d. Una reunión de islas
- e. Puentes, cultivos, carreteras, hidroeléctrica
- f. Río, bosque, cocodrilo, selva
- g. En esta zona predomina el paisaje natural
- h. En esta zona predomina el paisaje cultural
- i. Región que queda bajo el nivel del mar, como el norte del mar Caspio
- j. Llanura elevada sobre el nivel del mar
- 47. Sismo
- 48. Diastrofismo
- 49. Topografía
- 50. Macarena
- 51. Picos Colón y Bolívar
- 52. Orografía
- 53. Sotará
- 54. Eólica
- 55. Fluvial
- 56. Altitud

GEOGRAFIA DE COLOMBIA

-
- a. Estudio de un sitio, de un paisaje.
- b. Estudio de las montañas
- c. Movimiento interno de la tierra, que da origen a los continentes y montañas
- d. Temblor de tierra (movimiento tectónico)
- e. Relieve periférico de la Orinoquia
- f. Alturas máximas de Colombia
- g. Volcán en la Cordillera Central
- h. Erosión a largo plazo, causada por el viento
- i. Erosión causada por los ríos
- j. Cambia la temperatura: un grado por cada 187 m.
- 57. Brisas del mar
- 58. Monzón de verano
- 59. Vientos alisios
- 60. Monzón de invierno
- 61. Brisas de tierra
- 62. Elementos del clima
- 63. Factores modificadores del clima
- 64. Clima mediterráneo
- 65. Clima de montaña
- 66. Clima continental
- 67. Clima desértico
- 68. Clima de sabana
- a. Se originan en las calmas subtropicales y se dirigen al Ecuador
- b. Se originan en los valles y van hacia las montañas
- c. Van del Océano Índico hacia el sureste asiático
- d. Van del sureste asiático hacia el Océano Índico
- e. Durante el día van del mar a la tierra y por la noche al contrario
- f. Temperatura, presión, vientos, humedad y precipitaciones
- g. Latitud, altitud, vientos, masas de agua y vegetación
- h. Inviernos muy fríos y veranos cálidos, zonas productoras de trigo y maíz, son características de este clima
- i. Las temperaturas de este clima descienden con la altitud
- j. Temperaturas por encima de 18°, tienen una estación seca y una húmeda
- k. Inviernos suaves, veranos calientes, agricultura, vid, olivo y ciruelos
- l. Fuertes descensos de temperatura por las noches. Vegetación escasa o ninguna
- 69. Isotermas
- 70. Isóbaras
- 71. Pluviosidad
- 72. Valle de Aburrá
- 73. Barranquilla
- 74. Tunja
- 75. Corrientes
- 76. Marea
- 77. Oleaje
- 78. Marea viva
- 79. Marea muerta
- 80. Yopal
- a. Capital de Boyacá. Fría 13°
- b. Capital de Casanare. Cálida 26°
- c. Capital del Atlántico. Cálida 28°
- d. Donde está situado Medellín. Templado 20°
- e. Cantidad de agua
- f. De igual temperatura
- g. De igual presión atmosférica
- h. Movimiento de ascenso y descenso del agua del mar
- i. Movimiento ondulado de la superficie marina
- j. Movimiento de masas marinas tanto en la superficie como en las aguas profundas
- k. Cuando el sol y la luna, en línea recta, juntas sus atracciones: (sol: 25 cms. + luna: 56 cms.)
- l. Cuando el sol y la luna quedan en ángulo recto y se contrarrestan mutuamente en su atracción a las aguas del mar
- 81. Islas oceánicas
- 82. Islas continentales
- 83. Islas orogénicas
- 84. Mar Caspio
- 85. Grandes Lagos (Lagos del Canadá)

GEOGRAFIA DE COLOMBIA

- 86. Lago Salado (Salt L.)
- 87. Betanci
- 88. Zapatosa
- 89. La Cocha
- 90. Fúquene
- 91. Estalacitas
- 92. Estalacmitas
- 93. Ciénaga de Ayapel
- 94. Laguna de Tota
- 95. Laguna de Cumbal

- a. Lago (aunque le digan "mar") cuyo origen se debe a antiguos mares
- b. Islas dentro de la plataforma continental (200 metros)
- c. Islas fuera de la plataforma continental
- d. Islas que en realidad son cimas de montañas marinas (como el Japón)
- e. Lago cuyo origen es antiguo valle glaciario
- f. Lagos originados en cráteres de volcanes apagados
- g. Ciénaga importante del departamento del Cesar
- h. Laguna que se vierte en el río San Jorge (departamento de Córdoba y Sucre)
- i. Laguna del departamento de Nariño, a 2.740 metros
- j. Laguna también de Nariño, muy rica en truchas
- k. Laguna en la margen derecha del río Sinú (Córdoba)
- l. Laguna de Cundinamarca en la zona limítrofe con Boyacá
- m. Laguna de Boyacá cerca a Sogamoso
- n. Formadas en las grutas subterráneas por el carbonato de calcio y el gotear del agua. Pendientes del techo en las grutas
- o. El mismo proceso anterior en las grutas pero no penden sino que suben del suelo

- 96. Cuenca hidrográfica
- 97. Vertiente hidrográfica
- 98. Estrella hidrográfica

- 99. Causas que influyen en la desaparición de lagos
- 100. Aluvión
- 101. Delta
- 102. Estuario
- 103. Mulato
- 104. Mestizo
- 105. Etnico
- 106. Zambo
- 107. Nómada
- 108. Iglú
- 109. Palafito
- 110. Kibutz

- a. Parte alta del relieve, origen de ríos
- b. Zona bañada por un río importante y sus afluentes
- c. Región donde van a desembocar los ríos
- d. Isla triangular en la desembocadura de un río
- e. Depósito arcilloso o arenoso que queda al retirarse las aguas
- f. Desembocadura de un río.
- g. Mezcla de blanco e indio
- h. Mezcla de blanco y negro
- i. Adjetivo sinónimo de racial
- j. Que no tiene residencia fija
- k. Mezcla de negro e indio
- l. Casa construida sobre estacas
- m. Vivienda de los esquimales
- n. Granja colectiva en Israel
- o. La evaporación y la sedimentación

- 111. Contaminación
- 112. Demografía
- 113. Censo
- 114. Densidad de población
- 115. Migración
- 116. Natalidad
- 117. Mortalidad
- 118. Clan
- 119. Emigración
- 120. Inmigración

- a. Recuerdo periódico de la población y de la situación económica, social y cultural de un país

GEOGRAFIA DE COLOMBIA

- b. Índice anual de nacimientos por cada mil habitantes
- c. Índice anual de decesos por cada mil habitantes
- d. Desplazamiento de población de un lugar a otro
- e. Salida de un país para otro.
- f. Entrada en un país diferente al propio
- g. Número de habitantes por Km²
- h. Estudio de la población
- j. Envenenamiento del medio ambiente (aire, agua, etc.)
- j. Grupos de personas unidas por algún interés común

- 121. Déficit
- 122. Superávit
- 123. Federación Nal. de Cafeteros
- 124. Banano
- 125. Industria extractiva
- 126. Banco de la República
- 127. Grupo Andino
- 128. Refinería
- 129. Centros Ind. más importantes de Colombia
- 130. Arena silicea y potasa
- 131. Rocas calizas
- 132. INCORA
- 133. Industria
- 134. Comercio
- 135. Contaminación

- a. Controla la calidad y exportación del grano
- b. Cuando hay más importación que exportación
- c. Cuando la exportación es más que la importación
- d. Colombia, Perú, Venezuela, Ecuador, Bolivia (antes también Chile)
- e. Barranca, Cartagena, Tibú
- f. Explotación industrial del subsuelo
- g. Se encarga de la acuñación de moneda y emisión de billetes
- h. Bogotá, Medellín, Cali, Barranquilla
- i. Cultivo predominante en la región de Urabá
- j. Materia prima que se utiliza en la industria del vidrio

- k. Intercambio de productos
- l. Materia prima en la industria del cemento
- m. Efecto de los residuos industriales
- n. Transformación de materias primas en artículos
- o. Se propone una mejor distribución de las tierras en Colombia
- 136. Divisas
- 137. Concesiones
- 138. Oleoductos
- 139. Ganadería
- 140. Monocultivo
- 141. Coello y Saldaña
- 142. Café
- 143. Minifundio y Latifundio

- a. Tibú-Coveñas, Barranca-Santa Marta
- b. Agota las tierras y vuelve en extremo dependiente la economía del país
- c. Dinero que el país recibe por ventas de productos al extranjero
- d. Contratos del Gobierno con las compañías para la explotación del petróleo
- e. En Colombia es el segundo renglón agropecuario, después del café
- f. Se produce entre los 17 y 23^o C y en suelos permeables, ricos en fosfatos, hierro, nitrógeno y cal
- g. Zonas donde se cultiva el arroz de riego
- h. Causas que perjudican la agricultura en Colombia
- 144. Plankton
- 145. Inderena
- 146. Mar Territorial
- 147. Punta Gallinas
- 148. Plataforma continental
- 149. Regiones naturales de Colombia
- 150. División Política de Colombia

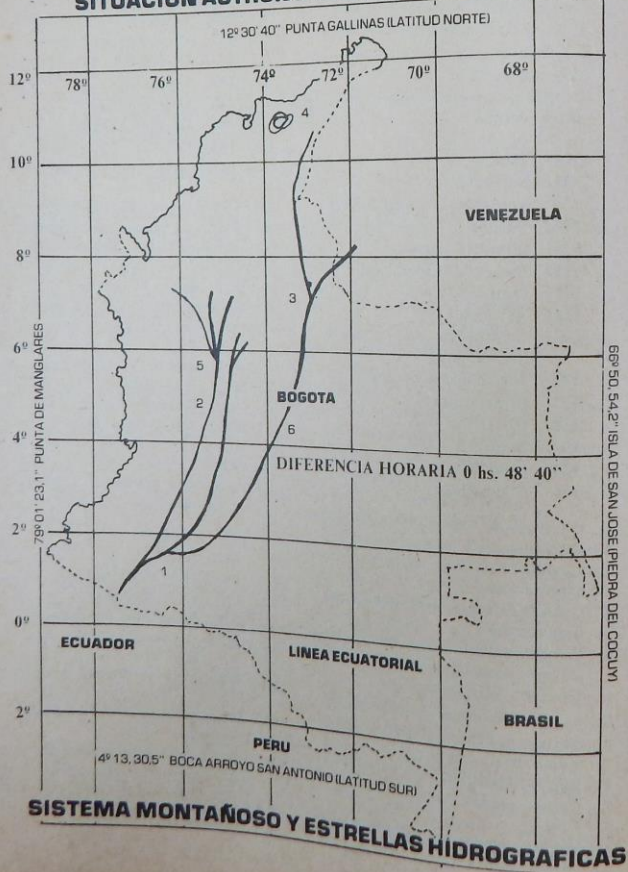
- a. 23 departamentos 4 intendencias y 4 comisarias.
- b. Elementos orgánicos errantes por el mar, que sirven de alimento a los peces y dan origen al petróleo, por acumulación durante miles de años, en el fon-

12

- do del océano
- c. Colabora con el Incora en programas de colonización y reforestación
- d. Caribe, Pacífico, Andina, Orinoquia y Amazonia
- e. Es el punto más septentrional de Suramérica

- f. Deja la posibilidad al país para que en un futuro explote recursos naturales como petróleo, pesca, flora y metales
- g. Parte del territorio continental que se extiende en el mar hasta una profundidad de 200 metros

SITUACION ASTRONOMICA DE COLOMBIA



13

1. Procure ampliar un poço la zona del sistema montañoso alrededor de las líneas trazadas.
 2. Señale sobre el mapa los principales volcanes
 3. Indique, de acuerdo con la numeración que hay en el mapa, las estrellas hidrográficas:
1. _____ 3. _____ 5. _____
 2. _____ 4. _____ 6. _____

RIOS Y HOYAS HIDROGRAFICAS

Ejercicio:

1. Escriba el nombre de los ríos, según el número que les corresponde en el mapa.
 2. Diga qué hoyas hidrográficas están señaladas por las letras:
- A. _____ C. _____ E. _____
 B. _____ D. _____

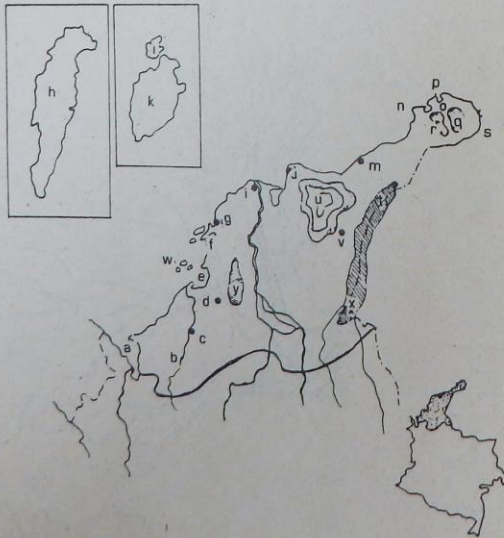
1. _____
2. _____
3. _____
4. _____
5. _____
6. _____
7. _____
8. _____
9. _____
10. _____
11. _____
12. _____
13. _____
14. _____
15. _____
16. _____
17. _____
18. _____
19. _____
20. _____
21. _____
22. _____
23. _____
24. _____
25. _____
26. _____
27. _____



GENERALIDADES DE LA REGION DEL CARIBE

Escriba frente a cada número la letra que corresponde en el mapa:

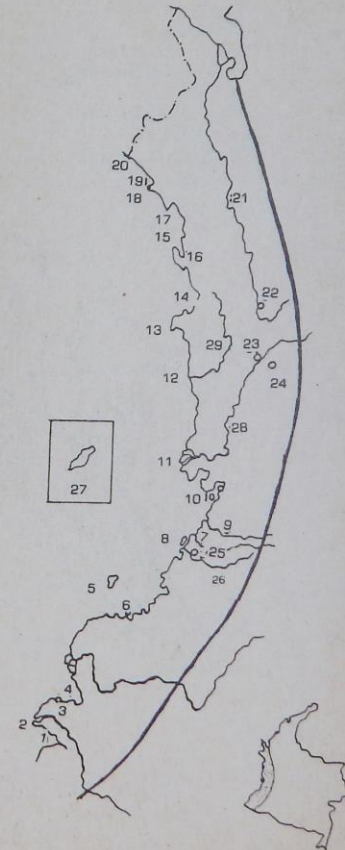
- | | |
|-------------------------|--------------------------------------|
| ___ 1. Santa Marta | ___ 2. Río Sinú |
| ___ 3. Bahía Honda | ___ 4. Providencia |
| ___ 5. Sincelajo | ___ 6. Golfo de Morrosquillo |
| ___ 7. Río Magdalena | ___ 8. Punta Gallinas |
| ___ 9. Barranquilla | ___ 10. Montañas de María |
| ___ 11. Valledupar | ___ 12. Santa Catalina |
| ___ 13. Montería | ___ 14. Serranía de Macuira |
| ___ 15. Castilletes | ___ 16. Serranía de Valledupar |
| ___ 17. San Andrés | ___ 18. Sierra Nevada de Santa Marta |
| ___ 19. Golfo de Urabá | ___ 20. Serranía Chimare |
| ___ 21. Cartagena | ___ 22. Serranía de los Motilones |
| ___ 23. Riohacha | ___ 24. Bahía Barbacoas |
| ___ 25. Cabo de la Vela | ___ 26. Islas del Rosario |



GENERALIDADES DE LA REGION DEL PACIFICO

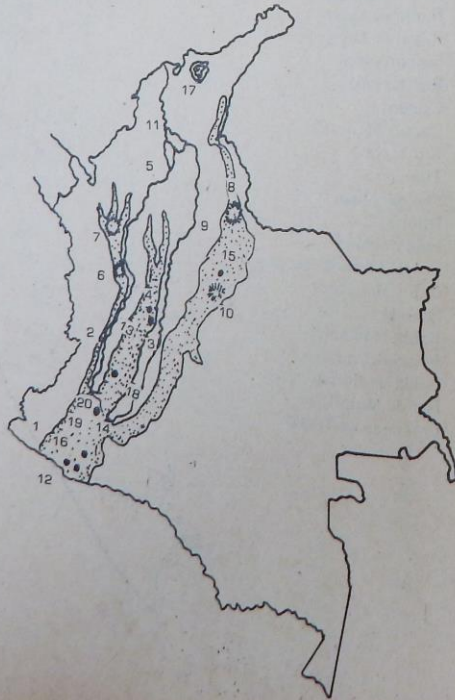
Escriba frente a cada letra el número que le corresponde en el mapa:

- | |
|---------------------------------|
| ___ a. Bocas del Baudó |
| ___ b. Cabo Marzo |
| ___ c. Río Atrato |
| ___ ch. Punta Solano |
| ___ d. Isla Gorgona |
| ___ e. Ancón de Sardinias |
| ___ f. Bahía Cupica |
| ___ g. Cabo Corrientes |
| ___ h. Río Cajambre |
| ___ i. Isla Cangrejal |
| ___ j. Bahía de Guapi |
| ___ k. Rada de Tumaco |
| ___ l. Punta Ardita |
| ___ ll. Río Baudó |
| ___ m. Condoto |
| ___ n. Puerto Merizalde |
| ___ ñ. Río Naya |
| ___ o. Tumaco |
| ___ p. Río San Juan |
| ___ q. Ismina |
| ___ r. Bahía Solano |
| ___ s. Bocas del río Yurumungui |
| ___ t. Cabo Manglares |
| ___ u. Quibdó |
| ___ v. Bahía Humboldt |
| ___ w. Bocas del río San Juan |
| ___ x. Bahía de Buenaventura |
| ___ y. Isla de Malpelo |
| ___ z. Ensenada de Tibugá |



GENERALIDADES DE LA REGION ANDINA (OROGRAFIA) LOS ANDES COLOMBIANOS

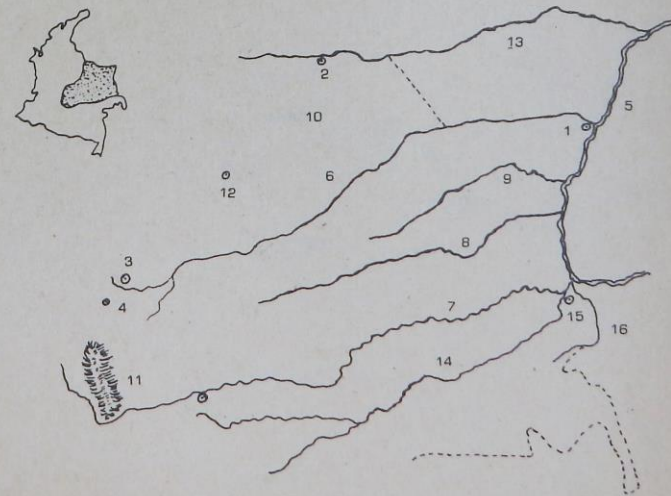
- | | |
|------------------------------|-------------------------|
| — a. Hoz de Minamá | — b. Farallones de Cali |
| — c. Llanos del Tolima | — d. Nevado del Tolima |
| — e. Río Magdalena | — f. Nudo de Santurbán |
| — g. Nudo de Caramanta | — h. Nudo de Paramillo |
| — i. Cañón del Chicamocha | — j. Sabana de Bogotá |
| — k. Río Cauca | — l. Volcán Galeras |
| — m. Nevado del Huila | — n. Volcán Azufral |
| — o. Páramo de Pisba | — p. Volcán Cumbal |
| — q. Sierra Nvda. Sta. Marta | — r. Nevado del Ruiz |
| — s. Volcán Puracé | — t. Volcán de Sotará |



GENERALIDADES DE LA ORINOQUIA

Ejercicio: *Hacer pares, colocando frente a cada letra el número correspondiente en el mapa:*

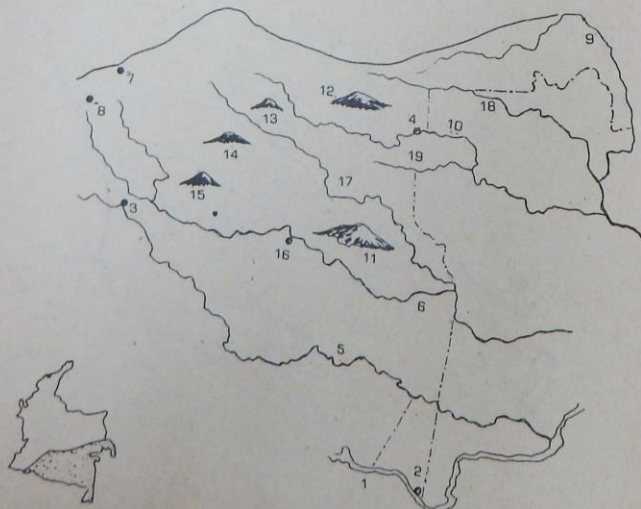
- | | |
|------------------|----------------------------|
| — a. Río Vichada | — b. Obando |
| — c. Río Meta | — d. Puerto Carreño |
| — e. Acacias | — f. Sierra de la Macarena |
| — g. Río Arauca | — h. Villavicencio |
| — i. Arauca | — j. Río Atabapo |
| — k. Yopal | — l. Río Orinoco |
| — m. Río Tomo | — n. Río Casanare |
| — o. Río Inírida | — p. Río Guaviare |



GENERALIDADES DE LA AMAZONIA COLOMBIANA

Ejercicio: *Hacer pares de números y letras. Frente a las letras, los números.*

- | | |
|-----------------------------|-----------------------|
| — a. Florencia | — b. Río Vaupés |
| — c. Río Isana | — d. Río Apoporis |
| — e. San Vicente del Caguán | — f. Cerro de Cumare |
| — g. Río Caquetá | — h. Mesa de Iguaje |
| — i. Puerto Leguizamo | — j. Mesa de Yambi |
| — k. Río Guainía | — l. Leticia |
| — m. Río Putumayo | — n. Araracuara |
| — o. Río Papurí | — p. Mesa de Sicayari |
| — q. Mitú | — r. Río Amazonas |
| — s. Sierra de Chiribiquete | |



DIVISION POLITICO-ADMINISTRATIVA DE COLOMBIA

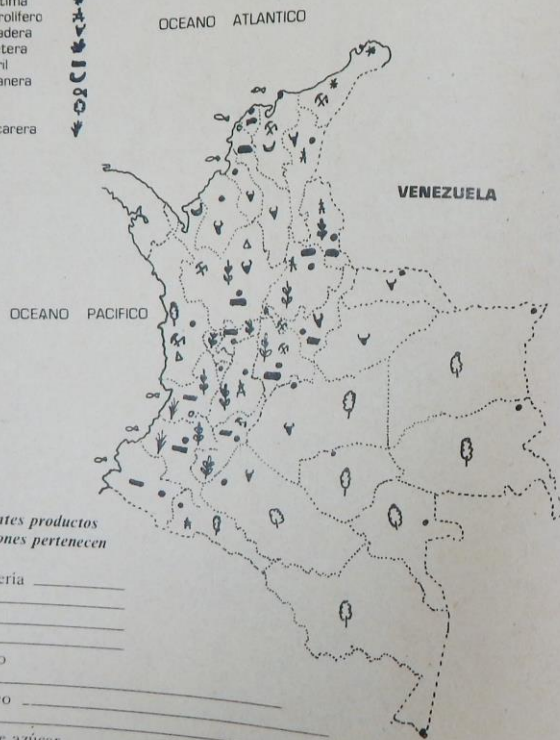
Escriba a continuacion los nombres de departamentos, Intendencias o Comisarias correspondientes a los 31 números del mapa:

- | | | |
|-----------|-----------|-----------|
| 1. _____ | 2. _____ | 3. _____ |
| 4. _____ | 5. _____ | 6. _____ |
| 7. _____ | 8. _____ | 9. _____ |
| 10. _____ | 11. _____ | 12. _____ |
| 13. _____ | 14. _____ | 15. _____ |
| 16. _____ | 17. _____ | 18. _____ |
| 19. _____ | 20. _____ | 21. _____ |
| 22. _____ | 23. _____ | 24. _____ |
| 25. _____ | 26. _____ | 27. _____ |
| 28. _____ | 29. _____ | 30. _____ |
| 31. _____ | | |



MAPA ECONOMICO DE COLOMBIA

región aurífera
centro minero
salina marítima
campo petrolífero
región ganadera
región cafetera
centro fabril
región bananera
pesca
selva
región azucarera



Los siguientes productos
a qué regiones pertenecen

1. ganadería _____
2. café _____
3. banano _____
4. petróleo _____
5. caña de azúcar _____
6. selva (maderas) _____
7. minería _____
8. pesca _____
9. industria fabril _____
10. salinas marítimas _____
11. oro _____

CONFORMACION DEL TERRITORIO COLOMBIANO

El territorio colombiano está formado por la plataforma continental, el mar territorial, el espacio aéreo y los territorios insulares.

En el estudio de la situación del país se tienen en cuenta: La posición astronómica con relación al meridiano de Greenwich y el Ecuador; y la situación geográfica, estudiando sus fronteras físicas: marítimas y terrestres, y sus fronteras legales.

Las fronteras legales han sido fijadas pacíficamente con los países limítrofes: Venezuela, Brasil, Perú, Ecuador y Panamá, por medio de Tratados y Convenios internacionales. Además con Nicaragua y Estados Unidos se firmaron convenios internacionales sobre el archipiélago de San Andrés y Providencia, y un acuerdo con los Estados Unidos para arreglar las diferencias por la separación de Panamá.

Con relación a la longitud y la latitud, es ventajosa la situación astronómica de Colombia, porque permite: la igualdad del día y de la noche, de la hora nacional y por la variedad de climas.

Geográficamente es ventajosa por: sus costas, facilidad para canales interoceánicos, transportes marítimos y aéreos, pesca y turismo, facilita la inmigración y la situación céntrica permite llevar a cabo reuniones de carácter internacional.

Las aguas territoriales son las aguas marinas que bañan las costas colombianas. Colombia mantiene jurisdicción sobre doce millas, pero busca extenderla hasta las doscientas millas marinas inglesas, como lo han hecho otros países.

La plataforma continental es el relieve emergido de la superficie terrestre que forma los continentes y se prolonga, en el lecho marino, hasta doscientos metros de profundidad. Esta plataforma y la submarina, que continúa la plataforma continental, son también parte integrante del territorio nacional.

GEOGRAFIA COLOMBIANA

El relieve colombiano está constituido por: las tierras planas cercanas a las costas; la zona andina formada por tres cordilleras; y los llanos y selvas del oriente. Además cuenta con otros sistemas montañosos no andinos como la Sierra nevada de Santa María, la cordillera del Baudó, la Serranía del Darien y otras.

La cordillera de los Andes forma junto al Pacífico el reborde orográfico de América del Sur. Su extensión desde la tierra de Fuego hasta el norte de Colombia y Venezuela es de unos 9000 km.

Al entrar en territorio colombiano, los Andes forman los grandes macizos del Sur: Macizo de Huaca o Nudo de los Pastos de donde se desprenden las cordilleras Central y Occidental, las que en un principio formaban un solo relieve como lo demuestra la similar constitución geológica. Luego se formó en esta mole una depresión longitudinal que dio origen a la losa de 600 kilómetros por donde corren en sentido opuesto los ríos Cauca y Patía.

Más hacia el norte, en el departamento del Cauca, se encuentra el Gran Macizo Colombiano, de donde parte otro ramal: la Cordillera Oriental.

CORDILLERA OCCIDENTAL. Es la más baja de las tres cordilleras. Su altitud promedio es de 2.000 metros, aunque se encuentran algunas alturas mayores como los Farallones de Cali con 4.280 m. y sitios bajos como la Hoz de Minamá de sólo 380 m por donde pasa el río Patía para caer al Pacífico.

Al norte se encuentra el Nudo de Paramillo donde la cordillera se trifurca dando origen a las serranías de Abibe al occidente, San Jerónimo al centro y Ayapel al oriente. Esta cordillera con una extensión de 1.095 km. abarca los departamentos de Nariño, Cauca, Valle, Caldas, Antioquia, Chocó y Córdoba.

CORDILLERA CENTRAL. Constituye el eje central de los Andes Colombianos. Tiene una longitud de 1.000 km. y una altura media por encima de los 3.000 m. y su suelo volcánico es muy apto para el cultivo del café.

Sus principales alturas son, de sur a norte: el grupo volcánico de Bordoncillo, Galeras, Cumbal, Chiles; en el Cauca cabe destacar tres volcanes: Sotará (4.580 m), Puracé (4.756 m), y Pan de Azúcar (4.670 m.). También está el Nevado del Tolima (5.214 m.); y los nevados del Ruiz y Santa Isabel. Su principal altura es el Nevado del Huila (5759 m).

Cordillera Oriental. La mayoría de los geógrafos marcan su iniciación en el Macizo Colombiano. De las tres cordilleras es la de mayor longitud 1.200 km. con una altura media superior a los 3.000 m. A partir de Neiva la cordillera se ensancha y en toda la parte media presenta gran anchura. Allí tenemos el Páramo de Sumapaz y más al norte tenemos la altiplanicie cundi-boyacense. También podemos distinguir el Páramo de Cruz Verde (3.683 m.); el Páramo de Chingaza; la Sierra Nevada del Cocuy (5.493 m.) y el Páramo del Almorzadero.

En el Norte de Santander se forma el Macizo de Saturbán y allí se divide en dos ramales: el oriental que se dirige a Venezuela, y el occidental que tuerce hacia el noroeste, forma la mesa de Ocaña, luego sigue hacia el norte con los nombres de Serranía de los Motilones, Sierra de Valledupar, Serranía del Perijá, pierde altura en los montes de Oca para luego hundirse en la península de la Guajira.

RELIEVE PERIFERICO. Además de las cordilleras andinas, existen en el país los siguientes accidentes orográficos sin aparente relación con el sistema andino.

SIERRA NEVADA DE SANTA MARTA. Localizada al nordeste del departamento del Magdalena, abarca una longitud de 30 kilómetros y una superficie aproximada de 17.000 km². Parece que hizo parte de la Cordillera Central a juzgar por similares formaciones geológicas con rocas de la era mesozoica. Posiblemente la separación ocurrió cuando el Magdalena despojó al Cauca de su cauce para apropiárselo.

En la Sierra Nevada se hallan los picos más elevados del territorio colombiano: el Colón y el Bolívar, con 5.780 m. y los picos Simons, con 5.560 m.

SERRANIAS DEL BAUDO Y DEL DARIEN. Se hallan situadas en territorio chocoano. La del Baudó se inicia junto a las bocas del río San Juan y se dirige al norte. La Serranía del Darién se extiende junto al Pacífico. Su mayor altura es el Tacarcuna con 2.200 m.

MONTES DE MARIA Y PIOJO. Estas montañas aisladas se levantan paralelas a la costa atlántica. Los montes de María situados en los departamentos de Bolívar y Sucre; y los montes de Piojó en el Atlántico. Son continuación de la Cordillera Central.

MONTANA DE LA GUAJIRA. Son cerros aislados de poca elevación. Se destacan las serranías de Chumare y de Macuira por su riqueza carbonífera.

SIERRA DE LA MACARENA. Situada en el departamento del Meta, forma una meseta que se eleva por encima de los 2000 mts; muy interesante desde los puntos de vista zoológico y botánico.

SISTEMAS AMAZONICOS. Se encuentran en el Caquetá y el Vichada. Los más importantes son las Mesas de Iguaje y Yambi y el cerro de Socayari.

HIDROGRAFIA COLOMBIANA

La hidrografía colombiana es supremamente variada y rica. se forma en el sur una gran estrella oro-hidrográfica de excepcional importancia para el país, en el macizo colombiano.

Toda la hidrografía del país se distribuye en siete grandes centros hidrográficos, que dan origen a multitud de ríos, todos ellos, ante todo los más importantes, con su correspondiente cuenca u hoya.

Los centros hidrográficos envían sus aguas a tres vertientes: del Atlántico, del Pacífico y la Oriental.

El río más importante de Colombia es el Magdalena con su afluente principal, el Cauca, Al Magdalena se lo ha llamado "el río de la Patria", pues ha sido un factor decisivo en el desarrollo económico e industrial del país.

Los demás ríos juegan un papel decisivo también en el progreso del país: riegan zonas ganaderas, fomentan la agricultura, son abundantes en pesca y algunos son navegables y comunican zonas en donde otros medios de transporte se hacen difíciles. En los llanos Orientales, el Meta es considerado como el principal.

En el sur, Colombia se favorece con 116 km. del río Amazonas. El progreso de esa zona se deberá al adelanto de los proyectos que el Gobierno tiene para la restructuración del puerto de Leticia.

Las lagunas, represas y ciénagas prestan servicios como centros de turismo y fomento de la pesca. Algunas facilitan los deportes acuáticos. Y las zonas lacustres en parte perjudican el adelanto agropecuario e impiden la construcción y mantenimiento de las vías de comunicación.

Prácticamente la zona istmica desde Tehuantepec hasta el Atrato, es propicia para la construcción de canales interoceánicos. En Colombia, entre otros proyectos, parece tener más acogida el 25 Atrato-Iruandó. También el que une al Atrato con el San Juan. Los beneficios para el país y, desde luego, para el mundo, serían inmensos.

REGIONES NATURALES

—Una región natural presenta factores de clima, relieve, tipo de vegetación y fauna características.

—Con estas bases se divide el territorio nacional en cinco grandes regiones naturales, todas ellas con sus correspondientes subregiones, que son: del Caribe, del Pacífico, la Orinoquia, la Amazonia y la Andina.

—En cada una de ellas se realizan los fenómenos meteorológicos, geológicos y de asociaciones vegetales que caracterizan una región natural.

LA REGION DEL CARIBE

* La Región del Caribe abarca toda la zona situada en la costa Atlántica en una extensión de unos 130.000 km². Comprende las subregiones de la Guajira, Sierra Nevada, llanuras del Magdalena, Depresión Monposina y Valle del Sinú, cada una de ellas con sus características propias.

* Su clima no es completamente igual, pero hay predominio del clima cálido, por su piso térmico. Su hidrografía la forman el Sinú, San Jorge, Magdalena y Riohacha y numerosas lagunas y ciénagas; todo este conjunto presta gran servicio a la economía de la región.

* Los recursos naturales son variados, pero principalmente son de tipo agropecuario. La ganadería forma la economía de casi todos estos departamentos costeros, y hace de el Cesar el primer departamento ganadero del país. La agricultura también ocupa puesto de preferencia, pero se destaca en el Magdalena la producción bananera, la primera del país. Los recursos minerales cuentan con magníficas posibilidades petrolíferas y de carbón; este último sobre todo en el Cerrejón, cuya explotación a gran escala se iniciará en breve.

* Cada departamento tiene su manera peculiar de explotar sus riquezas, y ello se debe a su modo original de ser y a los recursos de que dispone. Pero en general se ocupan de aspectos agropecuarios. Las zonas industriales de la costa suelen ser Barranquilla y Cartagena, dada su posición geográfica y su calidad de puertos sobre el Caribe.

* Cartagena es la primera ciudad turística del país, por sus monumentos históricos y sus bellezas naturales, además, el Gobierno le ha puesto especial atención. Barranquilla es ciudad industrial y Santa Marta se ha convertido últimamente en una ciudad de enorme progreso urbano por la hermosa bahía que la alberga y el empuje que le ha impreso el ferrocarril del Atlántico.

* La densidad absoluta de esta sección es muy desigual. La población se compone del grupo triétnico más caracterizado, 'el costeño', con predominio de mulato. Los guajiros forman un grupo étnico especial. Se encuentran algunos indígenas todavía en la Sierra Nevada y al pie de la Cordillera Oriental.

* La región se distribuye entre los departamentos de Córdoba, Sucre, Bolívar, Atlántico, Magdalena, El Cesar y La Guajira con una población de unos 4'600.000 habitantes de los cuales 1'700.000 se aglomera en los mayores núcleos urbanos que hacen de capitales.

* Todos estos departamentos están dentro de un progreso creciente que les ha impreso el Gobierno Nacional para su mejoramiento.

LA REGION DEL PACIFICO

La región del Pacífico comprende toda la zona enmarcada por el litoral desde Panamá hasta la desembocadura del río Mataje, y la cordillera occidental. Es una faja estrecha, un poco ensanchada en la hoya hidrográfica del río Patía en el Departamento de Nariño.

* El clima es generalmente cálido con temperatura promedio de 28° y un régimen de lluvias de los más altos del mundo: 4.000 mm. anuales. En general la región es insalubre, pero el hombre puede resistir a base de aclimatación y por necesidad natural de vivir allí.

* Su hidrografía es abundantísima y se forma de ríos tales como: el Atrato, el Baudó y el San Juan. Y hacia el sur de la zona, el Patía y el Mira. El Atrato y el San Juan entran en el estudio, conjuntamente con algunas bahías, para hallar el medio más seguro y económico de construir un nuevo canal interoceánico por esta región.

* Los recursos naturales son ante todo mineros: platino, oro y plata. Casi todos los ríos del Pacífico son de arenas auríferas. Buena parte de la población se dedica a actividades de tipo minero. Los recursos vegetales son más escasos, apenas si abastecen parte de la población. La ganadería, que se inicia, tiene su centro principal en el municipio de El Carmen.

* La población se compone de negros, mulatos e indígenas en escaso número. La población blanca es más bien poca. Los nativos conservan sus costumbres y creencias ancestrales, y su folclore típico, en algunos aspectos parecido al costeño del Caribe.

LA REGION ORINOQUIA

* La región Orinoquia debe su nombre al Orinoco en donde van a desembocar la mayor parte de los ríos colombianos que la riegan. Por la sección sur de la región pasa el Ecuador climático, diferente del Ecuador terrestre.

* Los terrenos en su inmensa mayoría son planos, menos en las estribaciones de la cordillera Oriental y en la Sierra de la Macarena, considerada como una reserva nacional y que presenta aspectos zoológicos y botánicos interesantes científica y económicamente.

* El clima es semi-húmedo y hay zonas áridas y semi-áridas. Cuenta con ríos caudalosos que forman una importante hoya hidrográfica y desembocan en la vertiente oriental del Orinoco.

* Los recursos naturales se reducen más que todo a la ganadería, algunas explotaciones petrolíferas y aspectos agrícolas no suficientemente desarrollados. La escasez de vías de comunicación adaptadas al medio, impide el desarrollo de la agricultura y la ganadería. La principal vía fluvial es el río Meta. El INCORA contribuye al desarrollo de la región por medio de programas técnicamente llevados.

* La población llanera y los indígenas se distribuyen entre el departamento del Meta, la intendencia de Arauca, la intendencia del Casanare, las comisarías de Vichada, Vaupés y Guainía.

LA REGION AMAZONICA

* La región Amazónica es parte importante del país, situada al sur y formada por las cuencas de los ríos Caquetá, Putumayo y Amazonas. Es una gran selva húmeda en su mayor extensión con territorios aptos para la ganadería y la agricultura en el Caquetá y el Putumayo.

* Cuenta con importantes ríos, todos ellos de gran caudal y que sirven para la navegación facilitando así un poco el transporte en estas zonas tan aisladas. La flotilla militar presta servicio de correo y transporte en el río Putumayo, principalmente. La carretera marginal de la selva traerá una era de progreso en un futuro que parece cercano.

* La industria es incipiente y la población vive de la agricultura, la ganadería y la pesca, pero no se explotan aún convenientemente.

* La población está formada por los nativos indígenas y los blancos que inmigran de los departamentos vecinos. Existen numerosas tribus diseminadas por todo el territorio amazónico, que conservan sus costumbres, creencias y dialectos.

LA REGION ANDINA—GENERALIDADES

* La Región Andina es la más importante de todas y cubre una tercera parte del territorio nacional. En ella vive la mayoría del pueblo colombiano. Abarca 13 departamentos y un sector de la Intendencia del Putumayo.

* La Región se forma de los tres ramales de la cordillera andina y comprende unas 17 subregiones. Tiene todos los climas, predominando el de montaña tropical. En los valles cálidos y húmedos se encuentra el de selva tropical ecuatorial. La temperatura va desde 28° C hasta las bajas temperaturas de las regiones nevadas. En los valles suele ser ardiente.

* La hidrografía se compone de la enorme cantidad de ríos que nacen en siete centros oro-hidrográficos del país, siendo sus ríos principales el Magdalena, el Cauca y el Patía.

GEOGRAFIA DE COLOMBIA

26

* Sus tierras explotadas están distribuidas entre la ganadería, la agricultura y la minería. Sus recursos animales son abundantes, inferiores desde luego a los de la costa del Caribe. La agricultura es variadísima, pero sobresalen el café, la caña de azúcar, el arroz y el algodón.

* En producción minera sobresalen el oro, la plata, el platino, el hierro, el carbón, la sal y el petróleo, y en Aranzazu, el mercurio.

* La tecnificación de los cultivos se hace a base de la selección de semillas, empleo de maquinaria agrícola, el uso de los abonos más indicados y la asistencia técnica que se recibe de granjas como la de Tibaitatá en Bogotá, la Granja Agrícola de Palmira y la Granja Experimental de Chinchiná para cultivos de café. Además, se intensifica el regadío en zonas del Huila y del Tolima.

ECONOMIA DE LA REGION ANDINA

Como la riqueza de esta región Andina es extraordinaria permite una variedad grande en los productos y necesariamente su industrialización da ocupación a millones de colombianos.

En cada departamento existen zonas y centros industriales que recogen la producción de un sector y la distribuyen a los sectores de su influencia. Las principales zonas industriales se encuentran en Bogotá, Medellín y Cali; Manizales, Pereira y Armenia; Bucaramanga y Cúcuta; Neiva e Ibagué; Popayán, Pasto y Tunja.

Otros centros especiales por su categoría productiva son: Zipaquirá, Ambalema, Sogamoso, Paz del Rio y Barrancabermeja.

En esta región la población es más o menos de unos 17'600.000 habitantes, distribuidos dentro de una densidad que va de 198 a 18. Los grupos humanos que viven aquí son: nariñenses, caucanos, antioqueños, tolimenses, cundi-boyacenses y santanderianos. Además algunas agrupaciones indígenas como los catios, cuna-cunas, chamíes, motilones, paezes y guambianos.

En el Huila encontramos los restos de la civilización agustiniana. Hay allí un parque nacional y un Instituto de Investigaciones Antropológicas situados en la población de San Agustín.

Los sitios de interés de esta región en el aspecto económico son sus fábricas, industrias, haciendas, minas de sal, explotaciones petrolíferas y de hierro y carbón.

DEPARTAMENTOS	EXTENSION Km ²	POBLACION Aprox./	CAPITAL	CIUDADES
Antioquia	63.512		Medellín	Sonsón Envigado
Atlántico	3.338		Barranquilla	Bello Puerto Berrío
Bolívar	25.978		Cartagena	Soledad Sabanalarga
Boyacá	23.189		Tunja	Mompós Magangué Carmen de Bolívar Sogamoso Duitama Chiquinquirá

GEOGRAFIA DE COLOMBIA

27

Caldas	7.889	Manizales	La Dorada Pensilvania Riosucio
Cauca	29.308	Popayán	Bolívar Santander de Quilichao Puerto Tejada
Córdoba	25.020	Montería	Cereté Lorica Sahagún Ayapel
Cesar	22.905	Valledupar	Codazzi Aguachica Gamarra
Cundinamarca	24.210	Bogotá D.E.	Girardot Zipaquirá Facatativá
Chocó	46.530	Quibdó	Istmina Tadó Condoto Bajo Baudó
Huila	19.980	Neiva	Garzón Pitalito San Agustín
La Guajira	20.848	Riohacha	Uribia Maicao Villanueva
Magdalena	23.188	Santa Marta	Ciénaga Fundación El Banco
Meta	86.000	Villavicencio	Acacias Puerto López San Martín
Nariño	33.268	Pasto	Ipiales Tumaco Túquerres
Norte de Santander	21.658	Cúcuta	Pamplona Ocaña Chinácota Villa del Rosario
Quindío	1.845	Armenia	Quimbaya Calarcá Circasia
Risaralda	4.140	Pereira	Sra. Rosa de Cabal Marsella Belén de Umbria
Santander	30.537	Bucaramanga	Socorro San Gil Barranca Bermeja Vélez
Sucre	10.917	Sincelejo	Cyrozal Sucre Sincé

Tolima	23.562	Ibagué	Libano Espinal Chaparral
Valle del Cauca	22.140	Cali	Palmira Bugá Cartago
Caquetá	88.965	Florencia	S. Vicente del Caguán Montañitas Puerto Rico
INTENDENCIAS			
Arauca	23.818	Arauca	Tame Arauquita Puerto Rondón
Casanare	44.640	Yopal	Támara Orocúe Maní
Putumayo	24.885	Mocoa	Puerto Asís Puerto Leguizamo
San Andrés y Providencia	44	San Andrés	San Luis Santa Isabel
COMISARIAS			
Amazonas	109.665	Leticia	Araracuara Tarapacá La Pradera
Guainía	72.238	Puerto Obando	
Vaupés	65.268	Mitú	
Vichada	100.242	Puerto Carreño	
<hr/>			
1.141.748			

GEOGRAFIA DE COLOMBIA - TEST 1

- Desde el punto de vista astronómico, la tierra puede considerarse como:
 - un planeta
 - un cometa
 - un satélite
 - una estrella
 - una galaxia
- Si en Colombia no se dan estaciones, esto es debido a:
 - su elevación sobre el nivel del mar
 - a la configuración montañosa de su territorio
 - a que se halla situada en la zona tórrida
 - al movimiento de rotación alrededor del sol
 - al movimiento de traslación alrededor del sol
- Cuando en Colombia tenemos una hora, por ejemplo, las 9 a.m., en Europa tienen otra hora diferente. Esto se debe:
 - a la diferencia de longitudes
 - a la diferencia de climas
 - a la diferencia de latitudes
 - al movimiento de rotación
 - al movimiento de traslación
- La palabra "Geografía", significa etimológicamente:
 - tratado de los astros
 - tratado de la tierra
 - descripción de la tierra
 - estudio del universo
 - estudio de las razas
- La República de Colombia está situada:
 - al oriente de América del Sur
 - al occidente de América del Sur
 - al noroeste de América del Sur
 - al noreste de América del Sur
 - no está situada en América del Sur
- El que primero intentó elaborar un mapa del continente americano fue:
 - Agustín Codazzi
 - Alejandro de Humboldt
 - Alonso de Ojeda
 - Américo Vesputcio
 - Cristóbal Colón
- El que un 83% del territorio colombiano tenga clima cálido se debe a:
 - la latitud
 - la altitud
 - la cercanía de grandes masas de aguas
 - las corrientes marinas
 - las condiciones locales en relación con las cordilleras
- Las aguas, en el planeta tierra, cubren alrededor de:
 - una cuarta parte del globo
 - menos de una cuarta parte
 - aproximadamente la mitad de la superficie terrestre
 - las tres cuartas partes de dicha superficie
 - nada de lo anterior
- La península más importante de Colombia está situada:
 - al norte
 - al sur
 - al sureste
 - al noroeste
 - al noreste
- El nacimiento de los ríos Cauca y Magdalena está en el:
 - nudo de San Turbán
 - Páramo de Sumapaz
 - Macizo Colombiano
 - nudo de Huaca o de los Pastos
 - nudo de Paramillo
- En el Nudo de Paramillo nace el río:
 - Zulia
 - Caquetá
 - Meta
 - Sinú
 - Arauca

12. El archipiélago más importante de Colombia está formado por:

- A. las islas de los Monjes B. las islas de Fuerte y Tortuguilla C. las islas Trinidad D. las islas de San Andrés y Providencia E. la isla de la Gorgona y otras que la rodean

13. La región volcánica más importante de nuestro país colombiano, se halla en el departamento de:

- A. Valle del Cauca B. Tolima C. Magdalena D. Nariño E. Boyacá

14. El sistema montañoso de Colombia es una derivación:

- A. De las montañas rocosas B. de la cordillera del Himalaya C. de los Montes Urales D. de la cordillera de los Andes E. del sistema Carpático

15. La ramificación que da origen a las tres cordilleras en Colombia empieza en:

- A. el Macizo Andino Colombiano B. el Nudo de Huaca o de los Pastos C. La Sierra D. el nudo de Paramillo E. la Sierra de la Macarena

16. La cordillera occidental se caracteriza por ser la:

- A. más alta B. menos accidentada C. más corta D. más accidentada E. que tiene más nevados

17. La cordillera central se caracteriza por:

- A. ser la más extensa y alta B. ser la más alta C. ser la más volcánica D. estar situada en ella la sabana de Bogotá E. ser la menos extensa

18. La cordillera oriental se caracteriza por:

- A. es la más larga B. es la más accidentada C. en ella están situadas las mayores altitudes de Colombia D. es la más volcánica E. es la de mejores climas

19. El río Patía desemboca en:

- A. Océano Pacífico B. Océano Atlántico C. Río Magdalena D. Río Meta E. Río Cauca

20. El río Meta desemboca en:

- A. el Océano Atlántico B. el Océano Pacífico C. el río Putumayo D. el río Amazonas E. el río Orinoco

21. El principal afluente del río Cauca es el río:

- A. Patía B. Guaviare C. San Jorge D. San Juan E. Sinú

22. Los picos Colón y Bolívar se hallan situados en la:

- A. Sierra de la Macarena B. Sierra Nevada de Santa Marta C. Cordillera Oriental D. Cordillera Central E. Cordillera Occidental

23. La sierra de la Macarena se encuentra situada en la:

- A. Región Amazónica B. Región Andina C. costa Pacífica D. costa Atlántica E. región Orinoquía (de los llanos)

24. El río Atrato desemboca en el:

- A. Océano Atlántico, golfo de Morrosquillo B. Océano Atlántico, golfo de Urabá C. Océano Pacífico, Bahía Solano D. Océano Pacífico, Bahía de Cupica E. Océano Atlántico, Bahía de Santa Marta

Atlántico, Bahía de Santa Marta

25. El principal accidente orográfico que se encuentra en la Orinoquía colombiana es:

- A. La Sierra de los Motilones B. la Sierra de la Macarena C. la Serranía del Baudó D. la Sierra nevada de Chita E. La Serranía de Perijá

26. Las bahías más importantes en la costa norte del Pacífico son:

- A. Cupica, Tolú y Solano B. Buenaventura, Tumaco y Solano C. Cupica, Solano y Utría D. Cupica, Gorgona y Utría E. Cupica, Utría y Tumaco

27. El Océano Pacífico forma el límite occidental de:

- A. dos departamentos colombianos B. tres departamentos colombianos C. cuatro departamentos colombianos D. cinco departamentos colombianos E. más de cinco departamentos colombianos

28. Las cumbres nevadas del Ruiz, Tolima y Huila están situadas en:

- A. la Sierra Nevada de Santa Marta B. la Cordillera Central C. la Cordillera Occidental D. la Cordillera Oriental E. la Serranía del Baudó

29. Las planicies de Chiquinquirá y Ubaté son una prolongación de:

- A. la Meseta Andina Colombiana B. el Macizo Andino Colombiano C. el Nudo de Huaca o de los Pastos D. el valle del Cauca E. el valle del Magdalena

30. El río Magdalena inicia su curso en:

- A. el páramo de las Letras B. el páramo de las Papas C. el páramo de Pisba D. el volcán de Chiles E. el volcán de Cumbal

31. Las montañas de Antioquia, Caldas, Quindío y Risaralda forman parte:

- A. de la cordillera Central B. de la cordillera Oriental C. de la cordillera Occidental D. de la Serranía de los Motilones E. de la serranía del Baudó

32. El Salto del Tequendama está formado por las aguas del río:

- A. Bogotá B. Magdalena C. Patía D. Cauca E. Sinú

33. La ciénaga de Zapatoza, muy abundante en pesca, está situada en el departamento de:

- A. Magdalena B. Bolívar C. Córdoba E. Cesar E. Atlántico

34. Entre los departamentos que se nombran a continuación, hay uno que no tiene acceso al mar, indíquelo:

- A. Córdoba B. Chocó C. Cauca D. Sucre E. Tolima

35. La capital del departamento del Cesar es:

- A. Montería B. Valledupar C. Magangué D. El Banco E. Riohacha

36. La capital de Sucre es:

- A. Sincelejo B. Montería C. Barranquilla D. Valledupar E. Santa Marta

37. La famosa población turística de San Agustín está situada en:

- A. Huila B. Tolima C. Valle del Cauca D. Cauca E. Nariño

38. La capital de la comisaría de Guainía es:
A. Mitú B. Puerto Carreño C. Obando D. Mocoa E. Leticia

SOBRE COMERCIO Y ECONOMIA

39. El cultivo más importante en la región norte de la costa Atlántica, es:
A. el tabaco B. el caucho C. la caña de azúcar D. el café E. el banano
40. Los minerales más abundantes en el norte de la costa pacífica son:
A. el oro y la plata B. la plata y el platino C. el cobre y el oro D. el cobre y el platino E. el platino y el oro
41. El principal cultivo agrícola a lo largo del Valle del Cauca es:
A. el café B. el banano C. la caña de azúcar D. el tabaco E. el ajonjolí
42. Un sitio turístico de gran importancia ubicado al sur del valle del Magdalena es:
A. el salto del Tequendama B. el puente de Icononzo C. la población de San Agustín D. el santuario de las Lajas E. el puente de Boyacá
43. En el Valle del Magdalena, el principal centro minero está representado por:
A. las minas de esmeraldas de Boyacá B. la refinería de Barrancabermeja C. las minas de sal de Zipaquirá D. las minas de platino de Istmina y Condoto E. las minas de carbón de Amagá y Titiribí
44. El producto elaborado en la antigua concesión de Mares, hoy Barrancabermeja, es:
A. el oro B. la plata C. el platino D. el caucho E. el petróleo

45. La principal actividad agrícola en las montañas antioqueñas y caldenses se canaliza hacia el cultivo de:
A. arroz B. café C. plátano D. tabaco E. trigo

46. La industria más desarrollada en Antioquia es la:
A. minera B. pecuaria C. textil D. pesquera E. artesanal

47. El principal centro industrial del Caribe es:
A. Medellín B. Barranquilla C. Santa Marta D. Riohacha E. Buenaventura

48. Los principales cultivos agrícolas en la región del Caribe son:
A. la caña de azúcar y el tabaco B. el banano y la caña de azúcar y el algodón C. el banano D. el banano y el arroz E. el algodón y el arroz

49. En el aspecto étnico, la población colombiana está integrada en su mayoría por:
A. indios B. negros C. mulatos y zambos D. mestizos E. blancos

50. Los principales núcleos de raza negra existentes en Colombia se encuentran en:
A. la costa Atlántica B. la costa Pacífica C. las montañas antioqueñas y caldenses D. la sabana de Bogotá E. los llanos Orientales

51. Según la Constitución Colombiana la creación de un nuevo departamento exige como mínimo de habitantes:
A. 150.000 B. 200.000 C. 500.000 D. 300.000 E. 400.000

52. La renta mínima que constitucionalmente debe tener una región para ser constituida como departamento es de:
A. \$50.000 B. \$200.000 C. \$500.000 D. \$10'000.000 E. \$50'000.000

53. Actualmente en Colombia hay tres departamentos que sobrepasan los dos millones de habitantes; estos departamentos son:
A. Cundinamarca, Antioquia y Valle B. Boyacá, Tolima y Antioquia C. Antioquia, Valle y Bolívar D. Tolima, Valle y Nariño E. Cundinamarca, Boyacá y Valle del Cauca

54. El mayor atractivo turístico del departamento del Cesar es:
A. el Túnel de la Quebra B. la Laguna de la Tota C. la Laguna de la Zapatoza D. el Panteón de los Próceres E. la Laguna de Cocha

EJERCICIOS DE REPASO GEOGRAFIA COLOMBIANA

I. Diga lo correcto:

- Se dice que Colombia tiene una posición geográfica muy ventajosa, porque _____
- Para dar la posición astronómica de Colombia nos servimos:
A. de sus dos océanos B. de sus países vecinos C. de las coordenadas
- Los colombianos en el desarrollo de sus actividades, se rigen por:
A. la hora astronómica B. la hora internacional C. la hora oficial
- Colombia tiene mayor superficie que:
A. Bolivia, Chile y Brasil B. Ecuador C. Paraguay, Bolivia y Ecuador

II. Complete las siguientes oraciones:

- La población total de Colombia es actualmente, según cálculos aproximados, y en cifras globales de _____
Dicha población se localiza principalmente en: _____
- Hablando de "mar territorial", podemos afirmar que a las grandes potencias no les conviene que los países suramericanos como Colombia aumenten el área de su mar territorial, porque: _____
- El actual problema Colombo-Venezolano juega un papel económico importante, porque _____
- Los puntos extremos del litoral Atlántico son: _____

- Los puntos extremos del litoral Pacífico son: _____
- Las islas continentales son aquellas que: _____
- Dos ejemplos de islas continentales serían: _____
- La principal isla oceánica en el Pacífico, de Colombia es: _____
- Roncador y Quitasueño pertenecen al Archipiélago de: _____
- La serranía de Baudó está situada en el Departamento de _____
- El río Cauca corre entre las cordilleras _____
- La mesa antioqueña se halla en la cordillera _____
- El Páramo de Pisba en la Cordillera Oriental tiene gran importancia histórica, porque _____
- La llanura del Caribe comprende los siguientes departamentos: _____
- La llanura del Pacífico comprende estos departamentos (parcialmente): _____
- La llanura del Orinoco comprende estas regiones (divisiones político-administrativas): _____
- La llanura Amazónica comprende las divisiones político-administrativas siguientes (algunas sólo parcialmente): _____
- Los departamentos de la zona Andina son: _____

III. ¿Verdadero o falso?

- La región de los Llanos Orientales y de la Selva Amazónica está en su totalidad compuesta de rocas de origen reciente.
- Los picos de Colón y Bolívar pertenecen a la Cordillera Occidental.
- El Páramo de Guantiva pertenece a la Cordillera Oriental.
- En el Cerro de Caramanta tiene sus fuentes el río Atrato.
- La Serranía de Perijá es parte de la Cordillera Central.

IV. ¿Qué clima tienen las siguientes ciudades o poblaciones?

- | | |
|-----------------------|--------------------|
| 1. Chiquinquirá _____ | 2. Monquirá _____ |
| 3. Manizales _____ | 4. Cartagena _____ |
| 5. San Agustín _____ | 6. Pasto _____ |
| 7. Maicao _____ | 8. Quibdó _____ |
| 9. Tunja _____ | 10. Pereira _____ |

V. Algo sobre el aspecto humano:

1. Anote tribus de cada una de las familias en que estaba dividida la población aborigen:

a. Familia Chibcha

b. Familia Caribe

c. Familia Arawac

2. Marque según sea verdadero o falso:

- _____ 1. mulato es el producto de negro y blanco
- _____ 2. el elemento indígena representa entre el 1 y 2% de población en Colombia
- _____ 3. los chibchas se mezclaron fácilmente con los españoles
- _____ 4. los núcleos blancos predominan en Boyacá, Chocó y Valle del Magdalena
- _____ 5. el término "étnico" se refiere a aspectos relacionados con la raza
- _____ 6. el ritmo de población ha disminuido a partir de 1938
- _____ 7. el 90% de la población colombiana se halla en la región Andina
- _____ 8. la mayoría del pueblo colombiano está constituido por mestizos
- _____ 9. el negro fue traído del África en calidad de esclavo y concretamente para el trabajo en la agricultura
- _____ 10. la tendencia de los últimos 25 años ha sido el aumento de la población urbana en detrimento de la rural

VI. Subraye la respuesta correcta:

1. El cerro de Gualcalá pertenece a la cordillera:
A. central B. oriental C. occidental
2. El clima de la costa del Pacífico es:
A. de montaña tropical B. de sabana tropical C. de selva ecuatorial
3. La bahía de Cupica está situada al:
A. sur del cabo Corrientes B. frente a la costa Guajira C. norte de la Costa Pacífica
4. Las altiplanicies de Túquerres e Ipiales están localizadas en:
A. cordillera oriental B. cordillera central C. cordillera de los Pastos

5. Malpelo es una isla:

A. continental B. oceánica C. no es isla

VII. Sobre el aspecto económico del país

Defina brevemente los términos que se dan a continuación:

1. ECONOMIA _____
2. ARTESANIA _____
3. MATERIA PRIMA _____
4. DIVISA _____
5. BALANZA DE PAGOS _____
6. BALANZA COMERCIAL _____
7. PRESUPUESTO _____
8. BONOS DE DESARROLLO ECONOMICO _____
9. CERTIFICADOS DE CAMBIO _____

Escriba *F* o *V* según sean falsas o verdaderas las afirmaciones que se dan a continuación:

- _____ 1. Las tierras frías y secas son las más aptas para el cultivo del café
- _____ 2. El café representa sólo una mínima parte de las exportaciones de Colombia
- _____ 3. La principal zona cafetera se encuentra en las cordilleras central y occidental.
- _____ 4. Las tierras dedicadas al cultivo del café han disminuido en los últimos años
- _____ 5. El café caturra requiere mucho de sombrío
- _____ 6. Colombia exporta grandes cantidades de trigo
- _____ 7. El porcentaje mayor de las explotaciones de trigo en Colombia se hace en pequeñas áreas, no en grandes extensiones
- _____ 8. El cultivo del fique se hace en las tierras secas y quebradas
- _____ 9. El tabaco rubio se exporta
- _____ 10. En la región de la Amazonia no hay ganadería
- _____ 11. El 50% del ganado de carnes está en la zona Andina
- _____ 12. Colombia es gran exportador de carne de conejo
- _____ 13. El ganado caprino es propio de las tierras secas
- _____ 14. El ICA contribuye al mejoramiento de las razas ganaderas
- _____ 15. La riqueza ictiológica de Colombia (la pesca) se ha distinguido por su buena explotación técnica, que la hace altamente rentable
- _____ 16. El INDERENA se esfuerza por proteger los recursos naturales del país
- _____ 17. El INCORA combate el latifundio con el propósito declarado de establecer el sistema de minifundio en el país
- _____ 18. Los recursos mineros del país están investigados en un 85%
- _____ 19. Colombia exporta minerales por un valor mayor de los que importa
- _____ 20. La bauxita se encuentra siempre, o generalmente, asociada con el aluminio

VIII. Sobre fuentes de energía:

Frente a cada una de las siguientes centrales escriba *H* o *T*, según se trate de una hidroeléctrica (*H*) o de una termoeléctrica (*T*):

1. Guadalupe (Antioquia) _____ 2. Anchicayá (Valle del Cauca) _____
3. Paipa (Boyacá) _____ 4. Lebrija (Santander) _____

5. Cartagena (Bolívar) _____ 6. Barranca (Santander) _____
 7. Río Bogotá (Cundinamarca) _____ 8. Yumbo (cerca a Cali) _____

Escriba al frente, la letra correspondiente, que más se relacione con el enunciado:

- A. mármol B. agua C. ICEL D. orito E. kerosene F. siderúrgica
 G. de mares H. Cerrejón

- _____ 1. se encarga de la electrificación en el país
 _____ 2. campo petrolífero del cual parte un oleoducto
 _____ 3. antigua concesión petrolera
 _____ 4. produce energía hidroeléctrica
 _____ 5. tiene su mayor producción en Paz del Río
 _____ 6. ricas minas de carbón en el norte del país
 _____ 7. uno de los derivados del petróleo
 _____ 8. mineral no metálico abundante en Antioquia

Escriba la letra que mejor corresponde a cada una de las definiciones dadas:

- A. área cultural B. agricultura industrial C. ganadería equina D. producción de lana
 E. sub-empleo F. vagones refrigerados G. minería H. cerromatoso
 I. área forestal J. IDEMA

- _____ 1. ha tenido un crecimiento lento por problemas zootécnicos
 _____ 2. su carencia dificulta el transporte del banano
 _____ 3. se presenta especialmente en las zonas cafeteras
 _____ 4. produce materias primas para la industria
 _____ 5. es totalmente absorbida por la industria textil
 _____ 6. importante por las minas de níquel
 _____ 7. desempeña un papel importante en la economía del país
 _____ 8. comprende parques, reservas biológicas, y no se permite su aprovechamiento comercial
 _____ 9. la costa pacífica, principalmente hacia el sur de Buenaventura
 _____ 10. Instituto de Mercadeo Agropecuario

Subraye la respuesta correcta:

1. La mayor actividad comercial marítima se hace por:
 A. Barranquilla B. Tumaco C. Santa Marta D. Riohacha E. Buenaventura
2. Los productos que generalmente traen más divisas al país son:
 A. los de tipo agrícola B. los de tipo industrial C. los de tipo intelectual
 D. los de tipo turístico E. los de tipo minero
3. La mayor exportación del país está constituida por:
 A. el banano B. el algodón C. el café D. los automotores E. las flores
4. Existe un cable aéreo que presta servicio de carga entre:
 A. Bogotá-Monserrate B. Pamplona-Chitagá C. Ibagué-Honda D. Manizales-Maniquita
 E. Medellín-Rionegro
5. El país que más acciones tiene en la Flota Mercante Grancolombiana es:
 A. Venezuela B. Colombia C. Ecuador D. Bolivia E. Perú

IX. Sobre presupuesto:

1. A continuación aparecen en forma desordenada los pasos que sigue el proyecto de presupuesto hasta su aprobación; escriba a la derecha los números indicativos del orden correcto de este proceso:

- A. El Congreso Nacional aprueba el proyecto de presupuesto _____
 B. El Gobierno Nacional elabora el proyecto de presupuesto según el cálculo aproximado de posibles ingresos y egresos durante el año fiscal correspondiente a ese período _____
 C. El Ministro de Hacienda somete a la consideración del Congreso Nacional el proyecto de presupuesto para el año fiscal _____

2. Escriba en la línea de la izquierda, al frente, el número que corresponde según las siguientes opciones:

1. inflación 2. emisión 3. acuñación 4. moneda

- _____ A. instrumento que sirve de medida común para el precio de las cosas y para facilitar el intercambio
 _____ B. imprimir monedas por medio del troquel
 _____ C. hacer papel moneda para ponerlo en circulación
 _____ D. exceso de medio circulante sobre la renta de la riqueza nacional

3. Señale la respuesta correcta:

- A. Una comunidad se enriquece:
 1. al aumentar la producción de bienes y servicios
 2. al aumentar la circulación de billetes
 3. al aumentar juntamente la circulación de billetes y monedas
- B. Colombia puede obtener divisas:
 1. exportando banano
 2. comprando maquinaria
 3. importando drogas

C. El régimen monetario del país tiene que ver con:

1. el respaldo, la acuñación y la circulación de la moneda
 2. la acuñación de la moneda
 3. el respaldo de la moneda

D. El patrón monetario es:

1. la moneda que sirve para comparar el valor de la nuestra
 2. el respaldo en oro de la unidad monetaria
 3. el valor intrínseco de los metales preciosos

4. Califique las siguientes cuestiones con un nombre de los que se dan a continuación:

- A. impuesto B. bien raíz C. monopolio D. servicio público E. multa

- _____ 1. producción de licores a nivel departamental
 _____ 2. parque de recreación popular
 _____ 3. transporte de cartas y encomiendas
 _____ 4. sobreprecio de todo artículo que se venda
 _____ 5. dinero que se paga al Estado por poseer una casa
 _____ 6. dinero que recibe de nosotros el Gobierno, por violación de una ley

- _____ 7. parte del dinero que se paga por asistir a un espectáculo público
 _____ 8. energía, acueducto y alcantarillado
 _____ 9. dinero que recibe el gobierno por la venta de loterías
 _____ 10. dinero que percibe el gobierno por el sacrificio de animales
 _____ 11. dinero que se paga por percibir sueldos en el país (rentas de trabajo)

X. Sobre comercio en el país:

1. Las operaciones comerciales y financieras de toda clase, efectuadas entre un país y todos los demás, se llama:

- A. sistema bancario B. balanza de comercio C. balanza de pagos

2. La mejor forma de ahorrar sería:

- A. guardando dinero en una alcancía B. depositando dinero en los bancos, en las secciones de ahorro C. invirtiendo en un lote de terreno en la ciudad

3. Los ahorros y préstamos se reajustan periódicamente, para conservar su valor constante, en una institución que se llama:

- A. sociedad anónima B. Banco de la República C. Upac

4. La Biblioteca "Luis Angel Arango" y el "Museo del Oro" están bajo la responsabilidad de:

- A. Instituto de Crédito Territorial B. Banco de la República C. Caja de Crédito Agrario

XI. Sobre problemas colombianos:

1. A nivel mundial, la UNESCO ha denunciado los diversos aspectos del problema educativo. Considera, esta afirmación de "El Correo" (junio de 1972):

"El problema es perfectamente claro: lograr que las oportunidades de acceso a la escuela sean iguales para todos y que una enseñanza que tenga los adelantos de nuestra época despierte la curiosidad y los intereses de los alumnos".

Ahora bien, en Colombia el problema educacional tiene como causa:

- A. la falta de interés de los padres de familia B. la falta de recursos fiscales para abrir y sostener escuelas C. la mala pedagogía empleada en el proceso de la enseñanza D. todas las anteriores E. ninguna de las anteriores

2. Los departamentos que más alfabetos (que saben leer y escribir) tienen en nuestro país, son estos tres:

- A. Cundinamarca, Antioquia y Valle del Cauca B. Tolima, Cundinamarca y Quindío
 C. Antioquia, Risaralda y Huila D. Valle del Cauca, Chocó y Nariño E. Santander, Boyacá y Meta

3. Acción Cultural Popular (ACPO) que se difunde por Radio Sutatenza, es una institución dirigida por:

- A. el gobierno nacional B. el departamento de Cundinamarca C. la Iglesia Católica D. el Distrito Especial de Bogotá E. la Alianza Cristiana

XII. Sobre enfermedades:

Diga si es verdadero o falso, cada uno de los siguientes enunciados:

- _____ 1. las tasas de enfermedad están en relación directa con los ingresos
 _____ 2. la tasa de mortalidad en Colombia aumenta constantemente
 _____ 3. las enfermedades cobijan con gran extensión las áreas urbanas y son menos frecuentes en los campos
 _____ 4. la fuga de personal médico al exterior se debe especialmente al deseo de actualizar sus conocimientos y de especializarse
 _____ 5. en Colombia, según el último censo confiable, solamente hay un médico para cada 2.300 personas, y una enfermera graduada por cada 12.000 personas
 _____ 6. El SEM (servicio de erradicación de la malaria) ha logrado desterrar por completo el Colombia el paludismo, acabando con el "anófeles", zancudo que trasmite el microbio llamado "Plasmodio"
 _____ 7. la sal de Guaca, que se produce en Heliconia (Antioquia) es un excelente remedio contra el Coto o Bocio
 _____ 8. en Colombia se produce y se exporta a otros países la vacuna contra la terrible "fiebre amarilla" producida por el "Estegomia"
 _____ 9. podemos afirmar en base a datos estadísticos que el pueblo colombiano está bien alimentado. No hay déficit de calorías en su alimentación
 _____ 10. la famosa profecía de Malthus sobre el crecimiento desproporcionado de la población (en proporción geométrica) sobre la producción de alimentos (en proporción aritmética) no se ha cumplido ni se cumplirá en Colombia; no hay aquí problemas de explosión demográfica

GEOGRAFIA DE COLOMBIA TEST 2

- Cinco capitales colombianas con clima frío, inferior a 20° centígrados:

- Cinco capitales colombianas con clima caliente, superior a los 28° centígrados:

- Los tres departamentos más extensos de Colombia son actualmente:

- Los tres departamentos que más habitantes tienen en Colombia son:

- Los tres departamentos colombianos más densos en población(más habitantes por kilómetro cuadrado) son:

- La región del país menos poblada (menos habitantes por kilómetro cuadrado) es:

- Entre las ciudades mencionadas a continuación, señale subrayando, todas aquellas que no sean capitales de Comisaría, Intendencia ni de Departamento:

Cúcuta	Pamplona	Ocaña	Tunja	Bogotá
Chinquinquirá	Duitama	Sogamoso	Leiva	Girardot
Chaparral	Facatativá	Ibagué	Honda	Espinal
Yarumal	Medellín	Sonsón	Envigado	Pereira
La Virginia	Calarcá	Armenia	Palmira	Cali
Buga	Popayán	Puerto Tejada	Pasto	Ipiales
Tumaco	Mitú	Carurú	Letícia	Mocoa
Puerto Carreño	Puerto López	San Felipe	Florencia	Yopal
Tame	Támara	Arauca	Quibdó	Tadó
Istmina	Manizales	La Dorada	Salamina	Maicao
Riochacha	Valledupar	Arjona	Santa Marta	Ciénaga
Sabanalarga	Barranquilla	Simití	Cartagena	Sincelejo
Tolú	Montería	Cereté	Bucaramanga	Socorro
San Gil	Barrancabermeja			
- Análogamente a la división político-administrativa del país, en departamentos, intendencias, comisarías, municipios, la iglesia Católica tiene su división religiosa-administrativa del país, que consta de:

- De las siguientes razas de ganado que hay actualmente en la país, señale, encerrando en un círculo, todas aquéllas que no pueden considerarse como razas criollas colombianas sino como razas extranjeras:
A. Romosinuano B. Blanco orejinegro C. Holstein D. Santamartiniano
E. Chino-santandereano F. Ayshire G. Cebú H. Pardo Suizo I. Red-poll
J. Santa Gertrudis K. Llanero L. Charolaise LL Rojo-caucano
M. Guernsey N. Normando Ñ. Indio O. Negro-nariñense
- Las tres refineries de petróleo más importantes de Colombia son:

- Las principales concesiones petroleras (compañías concesionarias) de Colombia, son (escriba la sigla):
a. _____
a. _____
c. _____
d. _____
- Las tres zonas algodoneras del país, más importantes, son:

- El primer departamento en la producción de azúcar (un 80% del total) es:

- El departamento que más tabaco produce (un 42% del total del país) es:

- Los tres departamentos colombianos que más trigo producen son:

- De la "yuca brava" fabrican los indios del Vaupés una harina que llaman:

- Los cinco departamentos de mayor producción arrocerera en el país son:

- Los tres departamentos más importantes en cuanto a la producción de papa son:

- El departamento que más se ha distinguido en la producción de maíz es:

- Ordene según su grado de calidad, de más o menos, los siguientes tipos de café:
_____ maragogipe _____ *supremo* _____ pasilla
_____ consumo _____ *excelso* _____ caracol
- Los cuatro departamentos más ganaderos (entiéndase ganado vacuno) son:

GEOGRAFIA DE COLOMBIA

44

22. Diga al menos cinco ciudades de Colombia en que periódicamente se celebran fiestas ganaderas:

23. El departamento que más oro y plata produce es:

24. Ordene según su importancia (de más a menos) las siguientes industrias del país:
- Industrias de cuero y productos de cuero (menos calzado)
 - Industria de alimentos, bebidas y tabaco
 - Fabricación de productos de caucho
 - Industrias metalúrgicas y metalmecánicas
 - Fabricación de papel, imprentas, editoriales e industrias conexas
 - Fabricación de textiles, calzado y prendas de vestir
 - Fabricación de sustancias y productos químicos
 - Fabricación de productos derivados del petróleo y el carbón
 - Fabricación de productos minerales no metálicos, excepto derivados del petróleo y carbón
 - Industrias de la madera y fabricación de muebles

25. Los principales productos que forman la exportación de Colombia son:

26. De los siguientes productos agrícolas, señale, encerrando en un círculo, aquéllos que sean originarios del país (es decir, no fueron traídos por los colonizadores):

- A. café B. cebada C. algodón D. caña de azúcar E. yuca F. frijol
G. maíz H. papa

27. En las poblaciones boyacenses de Muzo, Cosquez y Chivor, se explotan y venden:

- A. perlas B. diamantes C. esmeraldas D. carbón E. zinc
28. Las "Acerías Paz del Río" están en el departamento de:

A. Antioquia B. Cundinamarca C. Huila D. Boyacá E. Santander

29. Las minas de Zipaquirá, Nemocón y Sesquilé en Cundinamarca, lo mismo que las de Galerazamba en Bolívar y Manuare en Guajira, se dedican a la explotación de:

A. cobre B. sal C. carbón D. oro E. mercurio

30. El principal productor de platino en Colombia es el departamento de:

A. Chocó B. Antioquia C. Nariño D. Huila E. Quindío

31. Las minas de "El Cerrejón" en la Guajira, producen:

A. mercurio B. oro C. zinc D. carbón E. sal

32. Los cuatro ríos navegables más importantes de Colombia son:

- a. _____ b. _____
c. _____ d. _____

GEOGRAFIA DE COLOMBIA

45

33. Los siguientes son puertos fluviales de alguna importancia sobre el río Magdalena. Usted debe agregar después del nombre de cada puerto el nombre del departamento a que pertenece:

- | | |
|--------------------------|-------------------------|
| a. Neiva _____ | b. Girardot _____ |
| c. Honda _____ | d. La Dorada _____ |
| e. Puerto Salgar _____ | f. Puerto Berrio _____ |
| g. Barrancabermeja _____ | h. Puerto Wilches _____ |
| i. Barranquilla _____ | |

34. Señale después del nombre de cada ciudad o población el departamento correspondiente. Estamos siguiendo la ruta IPIALES a CUCUTA:

- | | |
|---------------------------------|----------------------|
| 1. Ipiales _____ | 2. Pasto _____ |
| 3. La Unión _____ | 4. Mercaderes _____ |
| 5. Timbio _____ | 6. Popayán _____ |
| 7. Santander de Quilichao _____ | |
| 8. Cali _____ | 9. Palmira _____ |
| 10. Cerrito _____ | 11. Guacarí _____ |
| 12. Buga _____ | 13. San Pedro _____ |
| 14. Tuluá _____ | 15. Andalucía _____ |
| 16. Bugalagrande _____ | 17. Uribe _____ |
| 18. Sevilla _____ | 19. Caicedonia _____ |
| 20. Barcelona _____ | 21. Calarcá _____ |
| 22. Cajamarca _____ | 23. Ibagué _____ |
| 24. Espinal _____ | 25. Girardot _____ |
| 26. Tocaima _____ | 27. Soacha _____ |
| 28. Bogotá _____ | 29. Chocontá _____ |
| 30. Villapinzón _____ | |

En Villapinzón podemos escoger dos caminos o rutas, que nos llevarán hasta Cúcuta; veamos cuáles son:

- | | |
|------------------------|---------------------------|
| a. 31. Tunja _____ | 32. Paipa _____ |
| 33. Soatá _____ | 34. Málaga _____ |
| 35. Chitagá _____ | 36. Pamplona _____ |
| 37. Cúcuta _____ | |
| b. 31. Zipaquirá _____ | 32. Ubaté _____ |
| 33. Chiquinquirá _____ | 34. Puente Nacional _____ |
| 35. Socorro _____ | 36. San Gil _____ |
| 37. Bucaramanga _____ | 38. Pamplona _____ |
| 39. Cúcuta _____ | |

35. ¡Póngalas en orden!
Vamos de sur a norte, por carretera, desde Cali hasta Santa Marta; pasamos por las siguientes ciudades o poblaciones: (usted debe enumerarlas en orden de aparición)

- | | | |
|-----------------------------|--------------------------|-----------------------------|
| 1. Cali _____ | Cerrito _____ | 3. Guacarí _____ |
| 4. Tuluá _____ | 5. Palmira _____ | 6. Buga _____ |
| 7. Uribe _____ | 8. Bugalagrande _____ | 9. Zarzal _____ |
| 10. Andalucía _____ | 11. Cartago _____ | 12. La Virginia _____ |
| 13. Riosucio _____ | 14. Supia _____ | 15. Anserma _____ |
| 16. La Pintada _____ | 17. Caldas _____ | 18. Medellín _____ |
| 19. Envigado _____ | 20. Santa Bárbara _____ | 21. Bello _____ |
| 22. Yarumal _____ | 23. Don Matías _____ | 24. Sta. Rosa de Osos _____ |
| 25. Valdivia _____ | 26. Caucasia _____ | 27. Puerto Valdivia _____ |
| 28. Montería _____ | 29. Ciénaga de Oro _____ | 30. Planeta Rica _____ |
| 31. Cereté _____ | 32. Chinú _____ | 33. Sahagún _____ |
| 34. Quejas _____ | 35. Sampués _____ | 36. Sincelejo _____ |
| 37. Carmen de Bolívar _____ | 38. Turbaco _____ | 39. Arjona _____ |
| 40. Cartagena _____ | 41. Barranquilla _____ | 42. Ciénaga _____ |
| 43. Gaira _____ | 44. Pueblo Viejo _____ | 45. Santa Marta _____ |

36. Qué departamento corresponde a cada una de las estaciones del ferrocarril, anotadas a continuación, para una carga que va desde Buenaventura en el Pacífico, hasta Santa Marta en el Atlántico:

hasta Santa Marta en el Atlántico:

- | | |
|-------------------------|---------------------------|
| 1. Buenaventura _____ | 2. Dagua _____ |
| 3. La Cumbre _____ | 4. Yumbo _____ |
| 5. Cali _____ | 6. Palmira _____ |
| 7. Buga _____ | 8. Zarzal _____ |
| 9. Cartago _____ | 10. La Pintada _____ |
| 11. Bolombolo _____ | 12. Medellín _____ |
| 13. Puerto Berrío _____ | 14. Barrancabermeja _____ |
| 15. Chiriguaná _____ | 16. Fundación _____ |
| 17. Ciénaga _____ | 18. Gaira _____ |
| 19. Santa Marta _____ | |

37. Los ingresos del PRESUPUESTO NACIONAL se recaudan generalmente por tres conceptos principales, que son:

- a. _____
- b. _____
- c. _____

38. Los siguientes son algunos renglones más importantes de egreso del presupuesto nacional. Usted debe organizarlos en orden de importancia decreciente, según lo que ha venido sucediendo ordinariamente en los presupuestos de los últimos años:

- | | |
|-------------------------------------|-------------------------------------|
| 1. Salud Pública _____ | 2. Educación Nacional _____ |
| 3. Hacienda y Crédito Público _____ | 4. Deuda Pública Nacional _____ |
| 5. Policía Nacional _____ | 6. Desarrollo Económico _____ |
| 7. Obras Públicas _____ | 8. Trabajo y Seguridad Social _____ |
| 9. Defensa _____ | 10. Agricultura _____ |
| 11. Rama jurisdiccional _____ | |

39. El organismo encargado de la vigilancia y control de los bancos en el país, es:
 A. Banco Central Hipotecario B. Caja de Crédito Agrario C. Banco de la República
 D. Superintendencia Bancaria E. Fondo Monetario

40. La reunión y mezcla de las tres razas: blanca, negra e indioamericana ha dado origen en Colombia a una serie de tipos regionales, que podemos reducir a los ocho siguientes.

RESPUESTAS

EJERCICIO 1

1.c	2.g	3.a	4.e	5.f	6.d	7.i	8.b	9.j	10.h
11.c	12.f	13.b	14.a	15.d	16.i	17.e	18.h	19.j	20.g
21.d	22.e	23.c	24.a	25.b	26.f	27.e	28.g	29.a	30.f
31.d	32.c	33.h	34.i	35.b	36.j	37.j	38.h	39.g	40.a
41.f	42.e	43.d	44.c	45.i	46.b	47.d	48.c	49.a	50.e
51.f	52.b	53.g	54.h	55.i	56.j	57.e	58.c	59.a	60.d
61.b	62.f	63.g	64.k	65.i	66.h	67.l	68.j	69.f	70.g
71.e	72.d	73.c	74.a	75.j	76.h	77.i	78.k	79.l	80.b
81.c	82.b	83.d	84.a	85.e	86.f	87.h	88.g	89.i	90.l
91.n	92.o	93.k	94.m	95.j	96.b	97.c	98.a	99.o	100.e
101.d	102.f	103.h	104.g	105.i	106.k	107.j	108.m	109.l	110.n
111.i	112.h	113.a	114.g	115.d	116.b	117.c	118.j	119.e	120.f
121.b	122.c	123.a	124.i	125.f	126.g	127.d	128.e	129.h	130.l
131.j	132.o	133.n	134.k	135.m	136.c	137.d	138.a	139.e	140.b
141.g	142.f	143.h	144.b	145.c	146.f	147.e	148.g	149.d	150.a

SISTEMA MONTAÑOSO Y ESTRELLAS HIDROGRAFICAS

- | | | | | |
|----------------------|-----------------|--------------|------------------|----------------|
| 1. Macizo Colombiano | 2. N. Caramanta | 3. Santurban | 4. Sierra Nevada | 5. Guachaneque |
| 6. Paramillo | | | | |

RIOS Y HOYAS HIDROGRAFICAS

a. Pacífico	b. Atlántico	c. Orinoquia	d. Amazónica	e. Catatumbo
1. Magdalena	2. Cauca	3. Sinú	4. Atrato	5. Ariguani
Juan	9. Patía	10. Mira	11. Putumayo	12. Caquetá
15. Guainía	16. Inirida	17. Guaviare	18. Tuparro	19. Vichada
22. Arauca	23. Orinoco	24. Amazonas	25. Zulia	26. Catatumbo
				27. Isana
				6. Rancherías
				7. Baudó
				13. Apaporis
				14. Vaupés
				20. Meta
				21. Casanare

REGION DEL PACIFICO

a. 20	b. 10	c. 21	d. 15	e. 1	f. 17	g. 13	h. 25	i. 7	j. E	k. 4	l. 20
ll. A	m. 24	n. L	ñ. 7	o. 14	p. 20	q. 23	r. k	s. o	t. F	u. 22	v. G
w. 11	x. 10	y. C	z. 14								

REGION DEL CARIBE

1. j	2. b	3. O	4. k	5. c	6. e	7. t	8. P	9. i	10. y	11. V	12. ll	13. d
14. r	15. s	16. z	17. h	18. u	19. a	20. q	21. g.	22. x	23. m	24. f	25. n	

REGION DE LA ORINOQUIA

a. 9	b. 15	c. 6	d. 1	e. 4	f. 11	g. 13	h. 3	i. 2	j. 16	k. 12	l. 5
m. 9	n. 10	o. 14	p. 7								

REGION DE LA AMAZONIA COLOMBIANA

a. 8	b. 4	c. 18	d. 12	e. 7	f. 14	g. 6	h. 15	i. 3	j. 12	k. 16	l. 2
m. 3	n. 16	o. 8	p. 11	q. 10	r. 1	s. 17					

REGION ANDINA

a. 1	b. 2	c. 3	d. 13	e. 11	f. 8
g. 6	h. 7	i. 9	j. 10	k. 5	l. 16
m. 18	n. 16	o. 15	p. 12	q. 17	r. 4
s. 14	t. 20				

MAPA POLITICO DE COLOMBIA

1. Chocó	2. Valle	3. Cauca
4. Nariño	5. Antioquia	6. Córdoba
7. Caldas	8. Risaralda	9. Quindío
10. Tolima	11. Huila	12. Casanare
13. Caquetá	14. Amazonas	15. Vaupés
16. Meta	17. Vichada	18. Cundinamarca
19. Putumayo	20. Guainía	21. Santander
22. Bolívar	23. Cesar	24. Norte de Santander
25. Cesar	26. Magdalena	27. Atlántico
28. Guajira	29. Boyacá	30. Arauca
31. San Andrés y Providencia		

MAPA ECONOMICO DE COLOMBIA

1. Llanos. Costa	2. Región Andina	3. Región Atlántica
4. Región Andina	5. Región Andina	6. Región Amazónica
7. Región Andina	8. Región Pacífica	9. Región Andina
10. Región Atlántica	11. Región Andina	

DEPARTAMENTOS

Antioquia
Atlántico
Bolívar
Boyacá
Caldas
Cauca
Córdoba
Cesar
Cundinamarca
Chocó
Huila
Guajira

EXTENSION

POBLACION

3.935.083
1.426.000
812.000
1.215.700
766.426
883.581
1.006.850
588.184
4.248.117
278.879
588.562
308.052

RESPUESTAS

DEPARTAMENTOS	EXTENSIO	POBLACION
Magdalena		736.250
Meta		397.300
Nariño		1.129.433
N.de Santander		986.730

Quindío	370.609
Risaralda	515.334
Santander	1.410.162
Sucre	534.999
Tolima	1.082.168
Valle del Cauca	3.166.458
Caquetá	285.000

San Vicente del Caguán, Montañitas, Pto. Rico.

INTENDENCIAS

Arauca
Casanare
Putumayo
San Andrés y Providencia

COMISARIAS

Amazonas
Guainía
Vaupés
Vichada

CUESTIONARIO DE GEOGRAFIA

1.a	2.c	3.c	4.c	5.c	6.d	7.b	8.d
9.a	10.c	11.d	12.d	13.d	14.d	15.b	16.b
17.e	18.a	19.a	20.e	21.c	22.b	23.c	24.b
25.b	26.c	27.c	28.b	29.a	30.b	31.a	32.a
33.d	34.c	35.b	36.a	37.a	38.c	39.c	40.c
41.c	42.c	43.b	44.e	45.b	46.c	47.b	48.c
49.d	50.b	51.c	52.e	53.a	54.c		

EJERCICIO DE REPASO

1. Tiene costas en los dos océanos, Atlántico y Pacífico.

2.c 3.c 4.b

11. Complete las siguientes oraciones:

- 27.326 La región andina.
- Les limitan áreas económicas.
- Se están delimitando zonas ricas en petróleo.
- Cabo Tiburón, Punta Espadas.
- Punta Ardita, Cabo Manglares.
- Están próximas al litoral.
- Salamanca, Gorgona.
- Malpelo
- San Andrés
- Chocó.
- Occidental y Central
- Central.
- Constituyó uno de los puntos de la ruta libertadora.
- Atlántico, Bolívar, Magdalena, Sucre, Cesar, Córdoba.
- Chocó, Nariño.
- Vichada, Guainía.
- Amazonas, Caquetá, Vaupés.
- Cauca, Huila, Valle, Tolima, Risaralda, Quindío, Cundinamarca, Antioquia, Santanderes, Boyacá.

III. Verdadero o falso

1.F 2.F 3.V 4.V 5.F

IV. Qué clima tienen las siguientes poblaciones

1.Frío 2.Templado 3.Frío 4.Cálido
5.Medio 6.Frío 7.Cálido 8.Cálido
9.Frío 10.Templado

V. Algo sobre el aspecto humano.

1. a. Familia Chibcha b. Familia Caribe
Guanes Pijaos
Paeces Muzos
Tunebos Calimas
Chimilas Panches Carios
Guambianos Motilones Sinúes

c. Familia Arawac
Guajiros

2. Marque según sea verdadero o falso:

1.V 2.V 3.V 4.F 5.V 6.F 7.V 8.V
9.F 10.V

VI. Subraye la respuesta correcta:

1.c 2.c 3.c 4.c 5.b

VII. Sobre el aspecto económico del país.

- Aprovechamiento de las riquezas del país.
- Pequeña industria a base de trabajo manual.
- Elementos transformables para la industria.
- Monedas fuertes extranjeras para comercio exterior.
- Registro operacional económico entre dos países.
- Comparación mensual entre importaciones y exportaciones.
- Dineros para atender gastos del Estado.
- Papeles con respaldo del Estado.
- Papeles para cambio de moneda.

Escriba F o V según sean falsas o verdaderas las afirmaciones que se dan a continuación:

1.V 2.F 3.V 4.V 5.F 6.F 7.V 8.V
9.V 10.V 11.F 12.F 13.V 14.V 15.F 16.V
17.V 18.F 19.V 20.V

VIII. Sobre fuentes de energía:

1.c 1.H 2.H 3.T 4.H 5.T 6.T 7.H 8.T
2.d 2.d 3.g 4.b 5.f 6.h 7.c 8.a
1.c 2.f 3.e 4.b 5.d 6.h 7.c 8.a
9.i 10.j

1.a 2.a 3.c 4.d 5.b

IX. Sobre el presupuesto.

a.3 b.1 c.2

2. Escriba en la línea de la izquierda, al frente.

a.4 b.3 c.2 d.1

3. Señale la respuesta correcta.

a.1 b.1 c.1 d.2

4. Califique las siguientes cuestiones.

1.c 2.d 3.d
9.a 10.a 11.a 4.a
5.a 6.e 7.a 8.d

X. Sobre comercio en el país:

1.c 2.c 3.c 4.b

XI. Sobre problemas colombianos:

1.b 2.a 3.c

XII. Sobre enfermedades:

1.V 2.F 3.F 4.F 5.V 6.F 7.F 8.F
9.F 10.F

- Tunja, Bogotá, Manizales, Pasto, Popayán.
- Neiva, Montería, Cartagena, Santa María, Sincelejo.
- Caquetá, Meta, Chocó.
- Cundinamarca, Antioquia, Valle del Cauca
- Atlántico, Caldas, Risaralda.
- Amazonia
- Entre las ciudades mencionadas a continuación:
Chinquirá, Chaparral, Yarumal, La Virginia, Buga, Tumaco, Tame, Itzmina, Sabanalarga, Tolú, San Gil, Pamplona, Duitama, Facatativá, Calarcá, Puerto López, Támara, Barrancabermeja, Sogamoso, Garzón, Sonsón, Puerto Tejada, Carurú, San Felipe, La Dorada, Arjona, Simití, Cereté, Neiva, Algeciras, Envigado, Palmira, Salamina, Girardot, Espinal, La Plata, Ipiales, Tado, Maicao, Ciénaga, Socorro.

8. Arquidiócesis Diócesis Vicariatos Prefecturas

9. c i g i j l m n

10. Barrancabermeja, Cartagena, La Dorada.

11. a. Texas Petroleum Company.

- b. Shell.
c. Texas Gulf.
d. Intecor Sinclair.

12. Atlántico Central Llanos.

13. Valle del Cauca.

14. Santander

15. Boyacá, Cundinamarca, Nariño.

16. Mandioca

17. Tolima, Bolívar, Córdoba, Meta, Valle

18. Cundinamarca, Nariño, Boyacá.

19. Valle del Cauca.

20. 5, 2, 6, 4, 1, 3.

21. Antioquia, Córdoba, Santander, Cundinamarca.

22. Villavicencio, Montería, Sogamoso, Ibagué, Bucaramanga.

23. Antioquia

24. a.9 b.1 c.8 d.4 e.10 f.2 g.6 h.5 i.7 j.3

25. Café, cemento, textiles, banano, flores, algodón, bovinos.

26. e g h

27. c.

28. d.

29. b.

30. a.

31. d.

32. a. El Magdalena b. El Atrato c. El Cauca d. El Meta.

33. a. Huila b. Cundinamarca c. Tolima d. Caldas e. Cundinamarca f. Antioquia g. San-

tander h. Santander i. Atlántico

34.

1.Nariño 2.Nariño 3.Valle 4.Cauca
5.Cauca 6.Cauca 7.Cauca 8.Valle
9.Valle 10.Valle 11.Valle 12.Valle
13.Valle 14.Valle 15.Valle 16.Valle
17.Valle 18.Valle 19.Valle 20.Valle

21. Quindío
25. Cundinamarca
29. Cundinamarca
- a.
31. Boyacá
35. N. Santander
- b.
31. Cundinamarca
35. Santander
39. N. de Santander
35. *Póngalas en orden.*
- | | | | | | | | |
|-------|-------|-------|-------|-------|-------|-------|-------|
| 1.1 | 2.4 | 3.3 | 4.6 | 5.2 | 6.5 | 7.8 | 8.9 |
| 9.11 | 10.7 | 11.10 | 12.12 | 13.14 | 14.15 | 15.13 | 16.16 |
| 17.18 | 18.20 | 19.19 | 20.17 | 21.22 | 22.24 | 23.21 | 24.23 |
| 25.25 | 26.27 | 27.26 | 28.29 | 29.31 | 30.28 | 31.30 | 32.33 |
| 33.32 | 34.21 | 35.34 | 36.37 | 37.36 | 38.38 | 39.37 | 40.39 |
| 41.40 | 42.42 | 43.43 | 44.41 | 45.44 | | | |
- 36.
- | | | | |
|---------------|---------------|---------------|---------------|
| 1. Valle | 2. Valle | 3. Valle | 4. Valle |
| 5. Valle | 6. Valle | 7. Valle | 8. Valle |
| 9. Valle | 10. Antioquia | 11. Antioquia | 12. Antioquia |
| 13. Antioquia | 14. Santander | 15. Cesar | 16. Magdalena |
| 17. Magdalena | 18. Magdalena | 19. Magdalena | |
- 37.
- | | | |
|-----------|-----------------------|-------------------------|
| a. Rentas | b. Impuestos directos | c. Impuestos indirectos |
|-----------|-----------------------|-------------------------|
- 38.
- | | | | | | | | |
|-----|-------|------|-----|------|-----|-----|-----|
| 1.6 | 2.1 | 3.4 | 4.5 | 5.11 | 6.8 | 7.3 | 8.7 |
| 9.2 | 10.10 | 11.9 | | | | | |
39. d
40. 1. Antioqueño, Cundi-boyacense, santanderiano, costeño, llanero, tolima-huilense, nariñense, indio.

23. Tolima
27. Cundinamarca
33. Boyacá
37. N. Santander
34. Boyacá
34. Santander
38. N. de Santander

GEOGRAFIA MUNDIAL

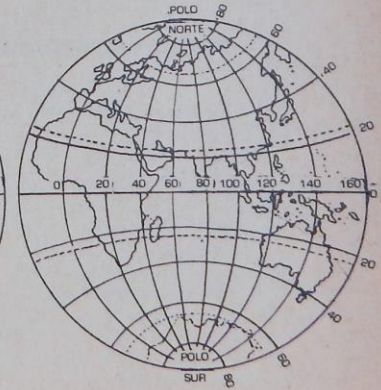
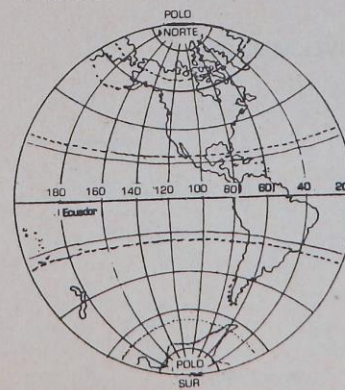
EJERCICIOS DE REPASO

Ejercicios de repaso:

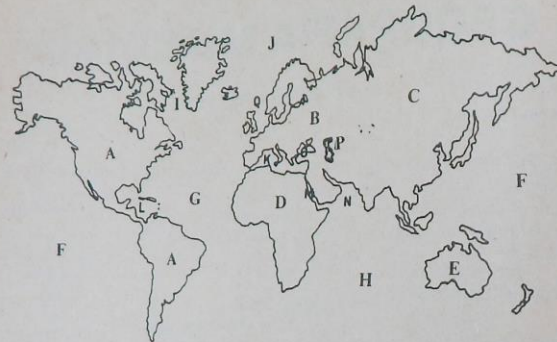
Complete las frases, empleando adecuadamente el vocabulario que a continuación se da:

- La Zona _____ o de latitudes bajas está situada entre el Trópico de Cáncer y el trópico de _____, atravesada en su línea media por el Ecuador.
- La Zona _____ del Norte o de latitudes medias está situada entre el Trópico de _____ y el círculo polar ártico.
- La zona _____ del sur está situada entre el Trópico de Capricornio y el círculo polar _____.
- La Zona Glacial _____ está situada entre el círculo polar Ártico y el polo _____.
- La Zona Glacial _____ está situada entre el círculo polar Antártico y el polo _____.

- Vocabulario:**
- Capricornio
 - Templada
 - Cáncer
 - Sur
 - Norte
 - Antártica
 - Templada
 - Tórrida
 - Ártica

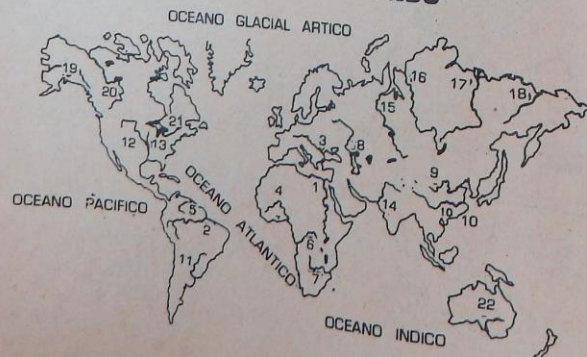


CONTINENTES - OCEANOS - MARES



- | | |
|-----------------------------|------------------------|
| — 1. África | — 2. Océano Pacífico |
| — 3. Mar Mediterráneo | — 4. Mar Caspio |
| — 5. América | — 6. Mar del Norte |
| — 7. Mar Rojo | — 8. Océano Indico |
| — 9. Australia | — 10. Mar Árábigo |
| — 11. Europa | — 12. Mar Caribe |
| — 13. Asia | — 14. Mar Negro |
| — 15. Mar de Baffin | — 16. Océano Atlántico |
| — 17. Océano Glacial Artico | |

PRINCIPALES RIOS DEL MUNDO



- Níger (nace en Sierra Leona. Desemboca en Nigeria al Atlántico)
- Amazonas (nace en Perú. Desemboca al Atlántico en el Brasil)
- Volga (nace en Rusia y desemboca al Mar Caspio en Rusia mismo)
- Paraná (nace en Brasil y desemboca al Atlántico entre Uruguay y Argentina)
- Nilo (nace en Uganda y desemboca en Egipto al Mediterráneo)
- Zambeze (nace en Rhodesia y desemboca en Mozambique al O. Indico)
- Kolima (nace en Siberia y desemboca al O. Glacial Artico)
- Indo (nace en el Tibet y desemboca en Paquistán al mar Árábigo)
- Mackenzie (nace y desemboca en Canadá al O. Glacial Artico)
- Obi (nace y desemboca en Siberia en el golfo de Obi)
- Yangtze (nace en el Tibet y desemboca al mar de la China)
- Orinoco (nace en Venezuela y desemboca al Atlántico en Venezuela)
- Lena (nace en Siberia y desemboca en el Océano Glacial Artico)
- Mississippi (nace en Minnesota, E.U. y desemboca en el Golfo de Méjico)
- Congo o Zaire (nace en Zaire y desemboca en Angola al Atlántico)
- San Lorenzo (nace en Minnesota y desemboca en Canadá al Golfo S. Lorenzo)
- Danubio. (nace en Alemania y desemboca en Rumania al Mar Negro)
- Amarillo (nace en la China y desemboca al golfo de Chili en China)
- Missouri (nace en las Montañas Rocosas y se une al Mississippi)
- Yenisei (nace en Mongolia y cae al O. Artico en Siberia)
- Murray (rio de Australia que desemboca al Océano Indico)
- Yucon (nace en Canadá y va a Alaska al mar de Bering)

MAPA FISICO DE SUR AMERICA

- | | |
|----------------------|---------------------------------|
| — a. Lago Titicaca | — b. Archipiélago de los Chonos |
| — c. Islas Malvinas | — d. Macizo de las Guayanas |
| — e. Islas Galápagos | — f. Estrecho de Magallanes |
| — g. Río Magdalena | — h. Volcán Chimborazo |
| — i. Río Colorado | — j. Península de la Guajira |
| — k. Río Meta | — l. Sierra del Espinhaco |
| — m. Río Orinoco | — n. Meseta Brasileña |
| — o. Río Madeira | — p. Cabo de Hornos |
| — q. Río Paraná | — r. Río de la Plata |
| — s. Río Amazonas | — t. Cordillera de los Andes |
| — u. Golfo de Panamá | — v. Lago de Maracaibo |



MAPA POLITICO DE SUR AMERICA

Letra	Pais	Capital:	Capitales:
—	Argentina	_____	1. Caracas
—	Colombia	_____	2. Asunción
—	Ecuador	_____	3. Santiago
—	Chile	_____	4. Bogotá
—	Brasil	_____	5. Georgetown
—	Venezuela	_____	6. Montevideo
—	Perú	_____	7. La Paz
—	Guyana	_____	8. Sucre
—	Paraguay	_____	9. Cayena
—	Guayana Holandesa	_____	10. Brasilia
—	Uruguay	_____	11. Buenos Aires
—	Guayana Francesa	_____	12. Paramaribó
—	Bolivia	_____	13. Lima
		_____	14. Quito



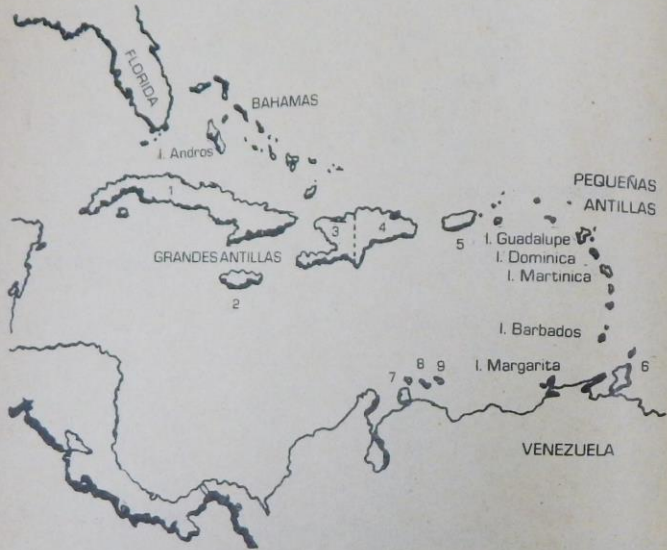
Observe que hay 14 capitales para 13 países. ¿Cuál es el país que tiene dos capitales?

AMERICA INSULAR

Identifique las islas con la numeración del mapa:

- _____ a. Haití (Puerto Príncipe)
- _____ b. Trinidad y Tobago (Pto.España)
- _____ c. República Dominicana (Santo Domingo)
- _____ d. Cuba (La Habana)
- _____ e. Puerto Rico (San Juan)
- _____ f. Jamaica (Kingstown)
- _____ g. Aruba (Orangestad)
- _____ h. Bonaire (Kralendijk)
- _____ i. Curacao (Willemstad)

Nota: Los nombres escritos entre paréntesis después de cada isla, corresponden a su capital.



MAPA FISICO DE NORTEAMERICA

- a. Lago Superior
- b. Golfo de California
- c. Rio San Lorenzo
- d. Montañas Rocosas
- e. Península de Florida
- g. Estrecho de Hudson
- i. Bahía de Ballín
- k. Península del Labrador
- m. Península de Yucatán
- o. Sierra Madre
- q. Península de California
- s. Bahía de Hudson
- u. Estrecho de Bering
- f. Rio Yucón
- h. Istmo de Tehuantepec
- j. Rio Mississippi
- l. Canal de Panamá
- n. Lago Michigan
- p. Golfo de Alaska
- r. Golfo de Méjico
- t. Rio Colorado
- v. Estrecho de La Florida



DIVISION POLITICA DE NORTE Y CENTROAMERICA

- | | | |
|--------------------------|---|-----------------|
| — Méjico, capital | — | 1. Ottawa |
| — Honduras, " | — | 2. Guatemala |
| — <i>Canadá</i> , " | — | 3. Belice |
| — Panamá, " | — | 4. Washington |
| — El Salvador, " | — | 5. Managua |
| — Estados Unidos, .. | — | 6. Panamá |
| — Guatemala, " | — | 7. Méjico |
| — Costa Rica, " | — | 8. San Salvador |
| — Nicaragua, " | — | 9. Tegucigalpa |
| — Belice, " | — | 10. San José |
| — Alaska (Estado de USA) | — | |

Colóquele a cada país la letra que le corresponde en el mapa y el número correspondiente a su capital de la lista de ciudades.



MAPA FISICO DE ASIA

- a. Río Lena
- b. Canal de Suez
- c. Golfo de Bengala
- d. Río Obi
- e. Península de Malaca
- f. Golfo Pérsico

- g. Archipiélago del Japón
- h. Montes del Himalaya
- i. Río Yang Tse (Azul)
- j. Río Indo
- k. Lago Baikal
- m. Meseta del Tibet
- ñ. Península de Indochina
- p. Monte Everest (8.848 m.)
- r. Mar Caspio
- r. Monte Kinchinjunga (8.578 m.)
- v. Mar de Aral
- x. Montes Celestes
- z. Meseta de Pamir
- l. Península del Indostán
- n. Península de Arabia
- o. Río Amarillo o Hoang-Ho
- q. Península de Corea
- s. Golfo de Siam
- u. Lago Bajash
- w. Península de Anatolia
- y. Mar de Ojotsk



MAPA POLITICO DE ASIA



- a. AFGANISTAN-Kabul
- b. U.R.S.S.-Mosú
- c. VIETNAM SUR-Saigón
- d. PAKISTAN-Islamabad
- e. FILIPINAS-Ciudad Quezón y Manila
- f. LAOS-Vientiane y Luang Prabang
- g. IRAK-Bagdad
- h. CHINA-Pekín
- i. COREA SUR-Seul
- j. SIRIA-Damasco
- k. BIRMANIA-Rangún
- l. ARABIA-Riyadh
- m. JAPON-Tokyo
- n. INDIA-Nueva Delhi
- o. THAILANDIA-Bangkok
- p. TURQUIA-Ankara
- q. CAMBOYA-Pnom-Penh
- r. COREA NORTE-Pyongyang
- s. IRAN-(PERSIA)-Teherán
- t. VIETNAM NORTE-Hanoi
- u. MONGOLIA-Ulan Bator
- v. NEPAL-Katmandú

GEOGRAFIA UNIVERSAL
ASIA

CUADRO GENERAL DE PAISES

Estados	Superficie en Km ²	Población Ap.ox.	Capital	Ciudades Principales
Turquía	780.576		Ankara	Estambul, Esmirna, Adana, Bursa
Chipre	9.251		Nicosia	Limasol, Famagusta, Larnaca
Irán	1'648.000		Teherán	Isfahán, Tábriz, Meshed, Chiraz
Afganistán	647.497		Cabul	Kandahar, Herat, Mazar-i-Charif
Irak	434.924		Bagdad	Mosul, Basora, Kirkuk, Najaf
Siria	185.180		Damasco	Alepo, Homs, Hama, Latakia
Libano	10.400		Beirut	Tripoli, Sidón (Saida) Zahie
Israel	20.700		Jerusalem	Tel Aviv-Jaffa, Haifa, Ramat Gan
Jordania	97.740		Ammán	Zarga, Belén, Jericó, Irbid
Arabia Saudita	2'149.690		La Meca-Riyad	Yidda, Hufuf, Medina, Buraida
Yemen	195.000		Sana	Taiz, Hodeida
Yemen Democ.	287.682		As-Shaab	Adén, Sheik Othmán, Mukalla
Kuwait	16.000		Al-Koweit	Al-Ahmadi
Omán	212.457		Mascate	Matrah Sur
Omán de la Tregua	83.600		Abu-Dhadi	Dubai
El Qatar	22.014		Doha	Dukhan, Umm Said
Bahrein	598		Manama	Muharrag Rifa'a

DIVISION POLITICA DEL ASIA MERIDIONAL

Países	Extensión	Población	Capital	Ciudades Importantes
Unión India	3'268.880		Nueva Delhi	Calcuta, Bombay, Delhi, Madrás, Kampur
Pakistán	803.850		Islamabad	Lahore, Karachi
Bangladesh	142.760		Dacca	Chittagong
Nepal	140.797		Katmandú	Patan, Bhadgaón
Ceilan (Srilanka)	65.610		Colombo	Yafna, Kandy, Galle
Bután	47.000		Punaka	Punaka, Thimbu
Islas Maldivas	298		Malé	Malé
Sikkim	7.107		Gangtok	Tunnong

DIVISION POLITICA DEL ASIA SEPTENTRIONAL

Países	Extensión	Población	Capital
Kazajistán	2.753.000		Alma Atos
Kirgistán	198.000		Frunze
Uzbekistán	399.000		Tashkent
Turkemenistán	488.000		Achkhabad
Tadykistán	142.000		Duchambe

DIVISION POLITICA DEL ASIA INSULAR NORTE

Japón	369.661	Tokio	Yokohama, Nagoya, Osaka, Kiota, Kobe
Islas Kuriles y Sakalin	80.952		

DIVISION POLITICA — ASIA ORIENTAL

Países	Extensión	Población	Capital	Ciudades importantes
China	9'561.000		Pekín	Shangai, Tientsin, Mukden, Shunking, Cantón
Formosa o Taiwan	36.000		Taipei	Kaohsiung, Keelung
Corea del Norte	120.538		Pyongyang	Chongyin, Wonsan
Corea del Sur	98.417		Seul	Pusán, Taegú
Birmania	678.033		Rangún	Mandalay
Tailandia o Siam	513.519		Bangkok	Thon Buri, Songkla
Laos	236.800		Vientiane	Paksé, Thakek
Camboya	181.035		Pnom Penh	Battambang, Kompong-Cham
0 República Khmer				
Vietnam del Norte	158.750		Hanoi	Haifang, Vinh
Vietnam del Sur	173.809		Saigón (Ho-Chi-Ming)	Dalat, Longxuyen, Hué
Federación de Malasia	332.633		Kuala-Lumpur	Georgetown, Ipoh, Málaca
Singapur	581,5		Singapur	Singapur
Hong-Kong	1.013		Victoria	Hong-Kong
Brunei	5.765		Brunei	Kusala-Belat

Ejercicio: Conteste Verdadero (V) o falso (F)

- En el Asia Oriental, el país de mayor población es China, con 827 millones de habitantes.
- Uno de los países de menor densidad de población en el mundo es el Japón.
- La península de Malaca se encuentra en el Asia Occidental.
- El Golfo Pérsico está situado entre Irán y la Península Arábiga.
- Tokyo, la ciudad más poblada del mundo, es la capital del Japón.
- La Unión de Repúblicas Socialistas Soviéticas ocupa toda la parte septentrional del continente asiático.
- La isla de Chipre se encuentra situada en el Mar de la China.
- Las islas Kuriles y Sakalin hacen parte del Asia Insular del Norte.
- Calcuta, Bombay, Delhi, Madrás y Kampur son las ciudades más importantes del Pakistán.
- La Península de Arabia es importante en el mundo actual por su inmensa producción de petróleo.
- Israel, Líbano y Siria tienen costas en el Mar Mediterráneo.
- Los deltas de los ríos Ganges y Brahmaputra hacen parte de la República Bangladesh.
- Hanoi es la capital de Vietnam del Sur, y Saigón es la de Vietnam del Norte.
- La isla de Ceilán forma parte del Asia Insular del Norte.
- Unión India, Pakistán, Bangladesh y Nepal, entre otros países, conforman el Asia Meridional.

MAPA FISICO DE EUROPA

- | | |
|--------------------------------|--------------------------------|
| _____ a. Montes Apeninos | _____ b. Mar Caspio |
| _____ c. Península Balcánica | _____ d. Alpes |
| _____ e. Canal de la Mancha | _____ f. Península Escandinava |
| _____ g. Estrecho de Gibraltar | _____ h. Islas Británicas |
| _____ i. Península de Kola | _____ j. Río Rhin |
| _____ k. Isla de Chipre | _____ l. Montes Cárpatos |
| _____ m. Río Don | _____ n. Montes Escandinavos |
| _____ o. Isla de Cerdeña | _____ p. Montes Urales |
| _____ q. Península Ibérica | _____ r. Montes Balcanes |
| _____ s. Río Volga | _____ t. Isla de Córcega |
| _____ u. Islandia | _____ v. Montes Pirineos |
| _____ w. Península de Bretaña | _____ x. Mar Negro |
| _____ y. Mar Blanco | _____ z. Mar Báltico |



DIVISION POLITICA DE EUROPA

— Noruega	Capital	— Grecia	
— Suecia		— Bulgaria	
— Finlandia		— Rumania	
— Portugal		— U.R.S.S.	
— España		— Yugoslavia ..	
— Francia		— Dinamarca ..	
— Inglaterra			
— Irlanda		21. Bonn	
— Islandia		22. Estocolmo	
— Bélgica		23. La Haya	
— Holanda		24. Varsovia	
— Alemania Oriental		25. Belgrado	
— Alemania Occidental		26. Copenhague	
— Suiza			
— Italia			
— Polonia			
— Checoslovaquia			
— Austria			
— Hungría			
— Albania			

Coloque delante de cada país la letra que le corresponda en el mapa, y al frente el número de su capital que aparece en la lista de ciudades.



CUADRO SINOPTICO DEL CLIMA VEGETACION Y FAUNA

Zonas climáticas	Regiones	Características	Vegetación	Fauna
OCEANIA	Atlántica desde Portugal hasta Noruega	Clima marítimo influencia del océano y los vientos del oeste. Temperaturas moderadas. Lluvias moderadas todo el año.	Bosque de hojas caducas; macizos antiguos de la región Atlántica Landas: Islas Británicas, N.de Alemania, Noruega Islandia. Praderas: Inglaterra, Francia, Irlanda, Finlandia.	Ciervo Bisonte Zorra Ganado: vacuno, ovino, Caballar Peces
CONTINENTAL	Centro Península Ibérica Gran Llanura Europea, Llanura Rusa, Este de Suecia y Finlandia.	Moderado en el centro. Excesivo al este. Verano muy cálido. Lluvias menos abundantes.	Taiga de los Urales a los Alpes Escandinavos. En las alturas centrales a partir de 1.800 mts. Estepa: Ucrania, Llanura húngara y de Valaquia.	Animales de pieles preciosas: reno, lobo, oso, liebre, puercos y ovejas.
MEDITERRANEA	Región costera del Mediterráneo.	Verano seco. Invierno. Primavera y otoño con lluvias y temperaturas moderadas.	Maquis y garrigas bosques aislados (vid, olivos, higueras).	Hienas Chacal Zorros Liebres Lobos Peces
POLAR	Islandia, montañas del N. de Escandinavia y tierras que bordean el Ártico.	Frío y seco en extremo.	Tundra (musgos y líquenes).	Oso blanco, zorro ártico, reno.
DE MONTAÑA O ALTURA	Alpes, Cárpatos y Alpes Escandinavos.	Varía con la altura cada 180 mts. baja 1°C la temperatura.	Según la altura.	Osos: grises y pardos. Lirón, Ardilla, Jabali.

EUROPA ATLANTICA

Países	Extensión	Población	Capital	Ciudades importantes
Reino Unido	245.813		Londres	Birmingham, Glasgow, Liverpool, Manchester, Leeds, Sheffield, Edimburgo, Belfast.
Irlanda o Eire	70.282		Dublin	Cork, Limerick, Waterford.
Francia	547.026		París	Marsella, Tolosa, Lyon, Niza, Burdeos, Nantes, Estrasburgo, St. Etienne, Lila, Le Havre.
Bélgica	30.513		Bruselas	Ámberes, Lieja, Lovaina, Charleroi, Brujas, Gante.

Luxemburgo	2.586	Luxemburgo	Esch-Alzette, Differdange, Dudange.
Mónaco	152Ha.	Mónaco	Condamine, Montecarlo.
Países Bajos	33.612	Amsterdan	Rotterdam, Utrecht, Haarlem, La Haya, Eindhoven, Groninga.

EUROPA ATLANTICA SEPTENTRIONAL

Noruega	324.219	Oslo	Bergen, Trodheim, Stavanger.
Suecia	449.793	Estocolmo	Goteborg, Malmo, Uppsala.
Dinamarca	43.069	Copenhague	Odense, Aarhus, Aslborg.
Finlandia	337.009	Helsinki	Tampere, Turku, Tahti.
Islandia	103.000	Reikiavik	Akureyri, Kopavogur, Hafnarhordur.

EUROPA CENTRAL

Alemania Occidental	248.454	Bonn	Berlin Occ., Hamburgo, Munich, Colonia, Frankfurt, Essen, Bremen
Alemania Oriental	108.174	Berlin Oriental	Leipzig, Dresde, Karl-Marxdat, Halle, Magdeburgo, Erlurt
Austria	83.849	Viena	Graz, Linz, Salzburgo, Innsbruck
Suiza	41.288	Berna	Zurich, Basilea, Ginebra, Lausana, Lucerna, St.Gallen.
Liechtenstein	157	Vaduz	Vaduz

EUROPA MEDITERRANEA

España	504.750	Madrid	Barcelona, Valencia, Sevilla, Zaragoza, Bilbao, Málaga.
Portugal	92.082	Lisboa	Oporto, Coimbra, Setúbal, Funchal, Braga.
Italia	301.224	Roma	Milán, Nápoles, Turin, Génova, Palermo, Bolonia, Florencia.
Grecia	131.444	Atenas	Salónica, Patrás, Corfú, Nea-Nokkinia, Persisterion, Volos.
Albania	28.748	Tirana	Escutari, Durazzo, Valona, Koritritza, Elbassan, Berati.
Turquía Europea	23.623	Estambul	Estambul
Andorra	453	Andorra la Vieja	Saint Julia de Loira, Encamp.
San Marino	61	San Marino	Camilo.
Ciudad del Vaticano	0,44	San Marino	San Marino
Malta	316	Ciudad del Vaticano	
Monte Athos	339	La Valetta	Cittá Vechia, Victoria
		Kryai	Kryai

EUROPA ORIENTAL

Rusia	22.402.200	Moscú	Leningrado.
Ucrania	601.000	Kiev	Kiev, Donetsk, Bakú, Tiflis
Bielorrusia	207.600	Minsk	Gorki, Kazan, Kartov.

GEOGRAFIA UNIVERSAL

GEOGRAFIA UNIVERSAL

Georgia	69.700	Tiflis	Rostov.
Azerbaijan	85.700	Bakú	Tashkent, Novosivirsk.
Armenia	30.948	Eriván	Novosivirsk, Kuibyshev
Moldavia	34.000	Kichmev	Sverdlovsk, Dniepropetrovck.
Lituania	63.149	Vilna	Volgograd, Omsk.
Letonia (Latvia)	66.465	Riga	Cheliabynsk.
Estonia	47.980	Tallin	Saratov, Minsk.
Polonia	312.730	Varsovia	Lodz, Cracovia, Wroclaw, Pozhán, Danzing, Stettin.
Checoslovaquia	128.000	Praga	Borno, Ostrava, Bratislava, Pilsen, Kosice.
Hungria	93.130	Budapest	Miskole, Debrecen, Szeged.
Bulgaria	110.928	Sofia	Plovdiv, Varna, Filopópolis.
Rumania	237.500	Bucarest	Cluj, Timisoara, Brasov.
Yugoslavia	255.804	Belgrado	Zagreb, Zarájevo, Skopije.

Ejercicio: *Conteste Verdadero (V) o falso (F):*

- El país de mayor extensión en Europa Oriental es Rusia.
- Italia está comprendida dentro de la Europa Atlántica.
- La capital de Alemania Oriental es Bonn.
- Holanda y Bélgica constituyen el grupo denominado Países Bajos.
- España y Francia forman la llamada Península Ibérica.
- La isla de Córcega pertenece a Francia, y la de Cerdeña a Italia.
- La península del Peloponeso pertenece a Grecia y está unida al continente por el Istmo de Corinto.
- La península de Jutlandia está situada en la Europa Mediterránea.
- Noruega y Suecia hacen parte de la Europa Atlántica Septentrional y conforman la península Escandinava.

MAPA POLITICO DE AFRICA

1. Identifique el país:

- | | |
|---------------------------|-----------------------------|
| _____ a. Argelia | _____ o. Kenia |
| _____ b. Niger | _____ p. Nigeria |
| _____ c. Madagascar | _____ 1. Senegal |
| _____ d. RAU. Egipto | _____ s. Rep. Centrafricana |
| _____ e. Túnez | _____ u. Zaire (Congo) |
| _____ f. Chad | _____ r. Camerun |
| _____ g. Angola | _____ t. Mozambique |
| _____ h. Etiopia | _____ v. Costa de Marfil |
| _____ i. Rep. Sudafricana | |
| _____ j. Malí | |
| _____ k. Marruecos | |
| _____ l. Sudán | |
| _____ m. Libia | |
| _____ n. Mauritania | |



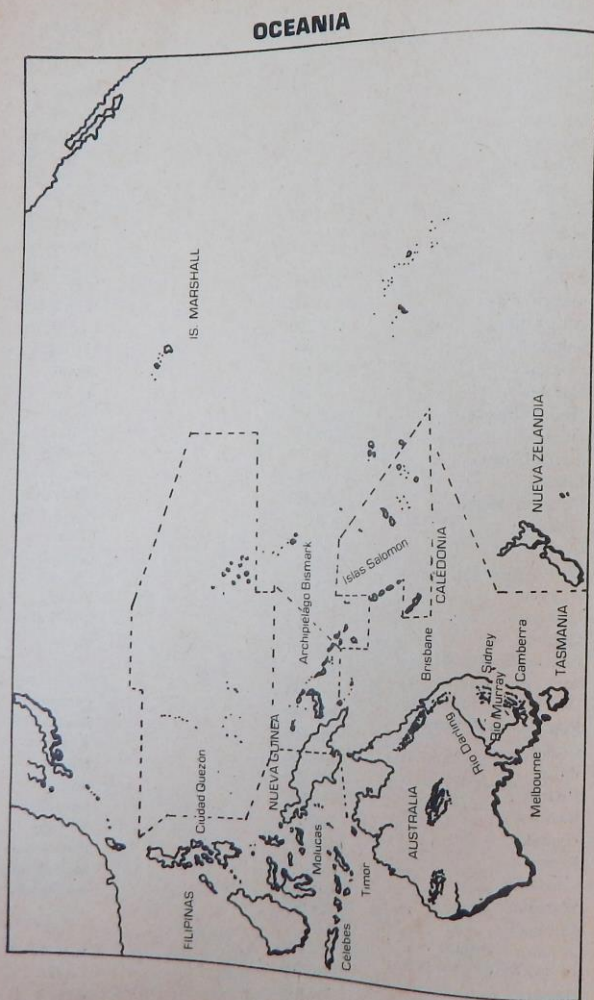
11. Utilizando el número correspondiente a los países del ejercicio anterior, identifique su capital y haga el par:

- | | |
|----------------------|---|
| _____ A. Bamako | _____ B. Fort Lamy |
| _____ C. Tananarive | _____ D. Argel |
| _____ E. Rabat | _____ F. Jartún |
| _____ G. Trípoli | _____ H. El Cairo |
| _____ I. Nairobi | _____ J. Lagos |
| _____ K. Luanda | _____ L. Niamey |
| _____ M. Addis Abeba | _____ N. Johannesburg y Ciudad del Cabo |
| _____ O. Túnez | _____ P. Kinshasa (Leopoldville) |
| _____ Q. Nuakchott | _____ R. Luorencio Márquez |
| _____ S. Dakar | _____ T. Yaundé |
| _____ U. Abidjan | _____ V. Bangui |

AFRICA

Pais	Extensión	Población	Capital
Egipto	1'001.449		El Cairo
Sudán	2'505.813		Jartum
Marruecos	445.050		Rabat
Argelia	2'381.741		Argel

Sudáfrica	1'221.037	Pretoria
Namibia	824.295	Windhoek
Botswana	600.372	Gaberone
Ngwane	17.363	Mbabane
Lesotho	30.343	Maseru
Madagascar	587.041	Tananarive
Mauricio	1.865	Port-Louis
Rhodesia	389.361	Salisbury
Túnez	164.150	Túnez
Libia	1'759.540	Trípoli
Mali		Bamako
Niger		Niamey
Chad	1'284.000	N'Djamena
Mauritania	1'030.700	Nuakchott
Alto Volta	274.200	Uagadugu
Sahara Esp.	266.000	El Aajún
Senegal	196.192	Dakar
Gambia	11.295	Banjul
Guinea-Bissau	36.125	Bissau
Guinea	245.857	Conakry
Sierra Leona	71.740	Freetown
Liberia	111.369	Monrovia
Costa de Marfil	322.463	Abidjan
Ghana	238.537	Accra
Togo	56.000	Lomé
Dahomey	112.626	Porto Novo
Nigeria	923.768	Lagos
Camerún	445.442	Yaundé
Gabon	267.667	Libreville
Guinea Ecuatorial	28.051	Malabo
Islas Portuguesas de Sao Tome y Principe	964	Sao Tomé
Rep. Centro Africana	622.984	Bangui
Congo	342.000	Brazzaville
Zaire	2'345.000	Kinshosa
Ruanda	26.338	Kigali
Burundi	27.837	Bujumbura
Uganda	236.036	Kampala
Kenya	582.644	Nairobi
Tanzania	939.703	Dar-es-Salaam
Somalia	637.657	Mogadiscio
Etiopía	1'221.900	Addis-Abeba
Territorio francés de los Afars y los Issa	22.000	Yitubi
Angola	1'246.700	Luanda
Zambia	752.614	Lusaka
Malawi	119.311	Zomba
Mozambique	783.030	Luorencio Marques



OCEANIA

Nombre con que se designa el conjunto de las islas que se extiende, en el Océano Pacífico, entre Asia Oriental, Indonesia y América.

De este conjunto suelen excluirse las islas de Australia y de Tasmania y está constituido por las islas de Nueva Zelanda, Nueva Guinea y millares de islas, en su mayor parte volcánicas, y atolones coralíferos.

Se distinguen tres partes etnológicamente distintas: Melanesia, Micronesia y Polinesia, formando grupo aparte las dos islas de Nueva Zelanda, que ocupan la zona más meridional del amplio conjunto insular.

La Melanesia, más próxima al continente australiano, está integrada por los archipiélagos de Nueva Guinea, Bismarck e islas de Salomón, Nuevas Hébridas, Nueva Caledonia, Fidji, Santa Cruz, Luisiadas, Guadalcanal y otras menores.

La Micronesia se extiende al norte del conjunto anterior y la componen las islas Marianas, Palau, Carolinas, Marshall, Gilbert y Ellice.

La Polinesia incluye las islas y archipiélagos más orientales y dispersos. De norte a sur se suceden entre las más importantes, la de Hawái, Espóradas Ecuatoriales, Phoenix; Tokelau, Marquesas, Samoa, Tonga, Taumotu, de la Sociedad, Cook y Tubuai.

El clima es tropical-húmedo, con lluvias abundantes. La población es de unos 6'792.000 habitantes y entre el elemento indígena (melanesios, micronesios y polinesios) se aprecian diferencias muy acusadas, tanto en el orden étnico como en el lingüístico y cultural.

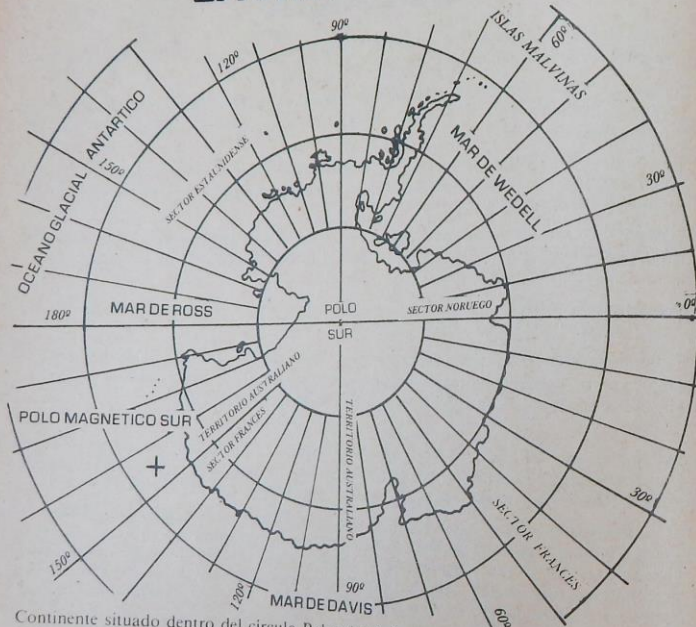
Los principales recursos económicos se basan en la agricultura: coco, caña de azúcar, ananás, bananas, palmera aceitera, especias, árbol del pan, papayas, café, cacao, tabaco, algodón, etc. Otro factor importante es la pesca, así como la obtención del *guano* en determinadas islas deshabitadas. El subsuelo es en general pobre, destacando tan sólo los yacimientos petrolíferos de Nueva Guinea y los de oro y carbón de Nueva Zelanda.

Políticamente, comprende, excluyendo Australia, los estados independientes de Nueva Zelanda y Samoa Occidental.

- De Australia dependen las islas Norfolk y Macquarie, los territorios de Papúa y Nueva Guinea y los Atolones de Nauru, Cocos y Christmas;
 - De Nueva Zelanda, las islas Cook, Tokelau y Niue;
 - Del Reino Unido, las islas Gilbert, Ellice, Phoenix, Fidji, Pitcairn y Espóradas Ecuatoriales,
 - De Francia, Nueva Caledonia, Wallis y Futuna, de la Sociedad, Marquesas, Tabuai, Tuamotu, Cliperton; y en condominio con el Reino Unido las de Nuevas Hébridas;
 - De E. U. dependen las islas de Guam, Hawai, Midway, Samoa Oriental, Marianas, Carolinas,
 - De Chile, las de Sala y Gómez y Pascua.
- * La Nueva Guinea Occidental o Irian Occidental, forma parte de Indonesia.

Guano: abono formado por el excremento de aves marinas que se encuentra acumulado en gran cantidad en las costas y en varias islas del Perú y del norte de Chile.

LA ANTARTIDA



Continente situado dentro del círculo Polar Antártico, cubierto por una gruesa capa de hielo que en ocasiones rebasa la superficie continental confundiendo los contornos de la misma.

A pesar de haber sido objeto de varias exploraciones, permanece aún en gran parte ignorado. Su extensión aproximada se calcula en gran parte entre los 13'500.000 y los 14'107.600 km² y está prácticamente deshabitado.

El océano Glacial Antártico lo rodea y forma los mares de Weddell, Amundsen, Ross y otros menores, gran parte de los cuales permanecen cerrados por enormes barreras de hielo con alturas de hasta 50 mts.

Existen varios Archipiélagos que geográficamente forman parte de la Antártida, como los de Sandwich, Palmer, Georgia, Orcadas y Shetland, y también las islas de Antipodas, Kerguelen, Elefante, Clarence, Ross, Nueva Amsterdam, Príncipe Eduardo, etc.

Por su estructura y morfología pueden distinguirse dos regiones distintas: Antártida oriental del meridiano de Greenwich, incluye la mayor parte de la superficie continental y en ella predomina el suelo mesetario con una altura media de 2.100 mts. que llega a los 3.000 en las proximidades del Polo.

En la isla de Ross se levantan conos volcánicos (Erebus 4.023 mts. y Terror 3.317 mts), más hacia el sur se hallan los montes Markham, máxima altura del continente, con 4.602 mts.

La Antártida Occidental es menos extensa y posiblemente de naturaleza insular, dándose en ella también grandes alturas. Las temperaturas se mantienen siempre bajo cero, con una mínima de -67°C, con vientos fuertes y constantes.

A causa de este clima, la vida vegetal es casi nula, representada únicamente por musgos y líquenes en algunos lugares. La fauna se localiza en el mar y en los territorios próximos a él, y está representada por cetáceos y pingüinos. La caza de la ballena atrae una importante flota ballenera.

Existen centros científicos y de exploración en Framheim y Little América.

Las principales tierras descubiertas hasta ahora son:

- Tierra Victoria y de Jorge V (reivindicadas por Australia);
- Tierra Adelaida (Francia);
- Tierra de Wilkes, de Christensen y de Enderby (Australia);
- Tierra de la Reina Maud y de la Princesa Martha (Noruega);

Chile, por Decreto Supremo N°1747 de 1940, precisó los límites de su territorio chileno Antártico comprendido entre los 53° y 90° O. de Greenwich.

EJERCICIOS DE GEOGRAFIA UNIVERSAL

1. Las tres partes que forman el antiguo continente son:

- a. Europa, África y Oceanía b. Asia, Europa y Oceanía c. Europa, África y Australia
- d. Europa, Asia y África e. Europa, Australia y Gran Bretaña.

2. Los continentes de Asia y África están unidos por:

- a. el estrecho de Bósforo b. el Istmo de Suez c. el estrecho de Gibraltar

3. Los principales accidentes geográficos que separan a Europa de Asia son:

- a. el estrecho de Gibraltar y el Mar Mediterráneo b. el Canal de la Mancha y los Montes Pirineos
- c. el Istmo de Suez y el Mar Rojo d. los Montes Urales y el Mar Caspio
- e. los Montes Pirineos y el Mar Báltico.

4. El Mar Mediterráneo se comunica con el Océano Atlántico por medio del:

- a. Estrecho del Bósforo b. Canal de la Mancha c. Estrecho de Gibraltar
- d. Estrecho de los Dardanelos e. Océano Pacífico.

5. El Canal de Suez comunica el Mar Mediterráneo con el:

- a. Océano Atlántico b. Mar Negro c. Mar Caspio d. Mar Rojo
- e. Océano Pacífico.

6. *Para el antiguo continente tiene gran importancia el Mar Mediterráneo:*
 a. por ser el más profundo b. por ser el más extenso c. porque en su cuenca nacieron las más grandes civilizaciones de la era antigua d. porque sus playas son las más hermosas e. porque sus costas son las más accidentadas.
7. *El primer filósofo griego que expuso la teoría de que la tierra es esférica fue:*
 a. Platón b. Aristóteles c. Tucídides d. Jenofonte e. Epicuro.
8. *Estrabón, autor latino llamado "El Geógrafo", se hizo famoso en su tiempo:*
 a. porque probó que la tierra gira alrededor del sol b. porque formuló las leyes de la gravedad c. porque escribió una geografía, la más completa de su tiempo d. porque afirmó que el mundo está compuesto de átomos e. porque estableció que el origen del mundo es el aire.
9. *El científico que probó, recordando las antiguas teorías de los pitagóricos, que la tierra como los demás planetas gira alrededor del sol, fue:*
 a. Nicolás Copérnico b. Isaac Newton c. Galileo Galilei d. William Herschel e. Carlos Darwin.
10. *Entre los cinco continentes, el de mayor extensión es:*
 a. América b. Asia c. África d. Europa e. Oceanía.
11. *El más extenso y también el más profundo de los océanos es:*
 a. el Atlántico b. el Pacífico c. el Indico d. el Glacial Artico e. el Glacial Antártico.
12. *En su mayor parte, el continente europeo se halla situado en la zona:*
 a. Glacial Artica b. Templada del Norte c. Tórrida d. Templada del Sur e. Glacial Antártica.
13. *El litoral occidental europeo se halla bañado por el:*
 a. Océano Atlántico b. Océano Pacífico c. Océano Indico d. Mar Negro e. Mar Mediterráneo.
14. *De los mares que rodean a Europa, el más importante por su comercio internacional es:*
 a. el Báltico b. el Negro c. el Caspio d. el Mediterráneo e. el Cantábrico.
15. *Los estrechos de Skager Rak, Kattegat y Sonda comunican el océano Atlántico con el mar:*
 a. Blanco b. Báltico c. Negro d. del Norte e. De Barents.
16. *El mar de la Mancha está separando:*
 a. a España de Inglaterra b. a Francia de Inglaterra c. a España de Francia d. a Francia de Alemania e. a Alemania de Suecia y Noruega.
17. *Los mares Tirreno, Jónico, Adriático y Egeo, forman subdivisiones del:*
 a. Océano Atlántico b. Océano Pacífico c. Océano Glacial Artico d. Mar Negro e. Mar Mediterráneo.

18. *La isla europea más importante en el océano Atlántico es:*
 a. Islandia b. Irlanda c. Gran Bretaña d. Sicilia e. Cerdeña.
19. *Los países de Noruega y Suecia están situados en la península llamada:*
 a. Balcánica b. Escandinava c. Jutlandia d. Ibérica e. Itálica.
20. *La península de Jutlandia pertenece a:*
 a. Polonia b. Alemania c. Yugoslavia d. Francia e. Dinamarca.
21. *Las penínsulas Balcánica e Itálica dan hacia el mar:*
 a. Mediterráneo b. Del Norte c. Báltico d. De la Mancha e. Cantábrico.
22. *Mar Cantábrico es lo mismo que:*
 a. Golfo de Bristol b. Golfo de Viscaya c. Mar de Mármara d. Golfo de León e. Golfo de Finlandia.
23. *El Golfo de Venecia está situado en:*
 a. el mar Adriático b. el mar Tirreno c. el mar Egeo d. el mar Jónico e. ninguno de los anteriores.
24. *El extremo occidental del continente europeo es el Cabo:*
 a. de Finisterre b. De Land's End c. de San Vicente d. De Tarifa e. De Roca.
25. *Además de España hay en la península Ibérica otro país, que es:*
 a. Francia b. Dinamarca c. Portugal d. Italia e. Finlandia.
26. *La civilización griega antigua tuvo como asiento la península:*
 a. Ibérica b. de Jutlandia c. Balcánica d. Escandivana e. De Morea.
27. *El estrecho de Messina separa a la península Itálica de la isla de:*
 a. Córcega b. Cerdeña c. Sicilia d. Creta e. La Gran Bretaña.
28. *El Mar Egeo y el mar de Mármara se comunican por el:*
 a. estrecho de los Dardanelos b. estrecho del Bósforo c. Canal de Suez d. Canal de la Mancha e. Estrecho de Gibraltar.
29. *La actual ciudad de Estambul, que antes era Constantinopla, se halla situada:*
 a. sobre el estrecho de Dardanelos b. sobre el Canal de Suez c. en la península de Crimea d. sobre el Canal de la Mancha e. sobre el estrecho del Bósforo.
30. *Los montes Apeninos forman parte del sistema orográfico de:*
 a. Italia b. Francia c. España d. Bulgaria e. Inglaterra.
31. *Los Montes Pirineos separan Francia de:*

- a. Alemania b. España c. Inglaterra d. Italia e. Rumania.
32. *El Monte Blanco es la principal altura europea, y está situado en:*
a. los montes Pirineos b. los Andes c. los montes Escandinavos d. los Apeninos e. los Alpes Franceses.
33. *La depresión del mar Caspio, en Europa se caracteriza:*
a. por su vegetación casi selvática b. por la configuración pantanosa del terreno
c. por ser la máxima depresión europea d. por tener un clima demasiado insalubre
e. por abundantes lluvias.
34. *Los tres ríos más importantes en razón de su longitud, en Europa son:*
a. el Volga, el Danubio y el Dniéper b. el Rin, el Dniéper y el Don c. el Don, el Rin y el Volga d. el Tajo, el Don y el Kama e. el Duero, el Tajo y el Guadalquivir
35. *Desde el punto de vista comercial, el río más importante de Europa es:*
a. Volga b. Danubio c. Rin d. Vistula e. Loira
36. *El Rin atraviesa tres países, a saber:*
a. Francia, Austria y Suiza b. Francia, Alemania y Holanda c. Italia, Francia y Alemania d. Suiza, Austria y Alemania e. España, Italia y Francia
37. *De los ríos siguientes hay uno que pertenece a la vertiente del Atlántico, tal es:*
a. Loira b. Wesser c. Vistula d. Rin e. Danubio
38. *El Canal de Lenin une el río Volga con el:*
a. Ródano b. Don c. Dniéper d. Elba e. Dniéster
39. *El río que pasa por París es:*
a. el Loira b. el Sena c. el Duero d. el Tajo e. el Mesa
40. *El río que pasa por Londres es:*
a. el Vistula b. el Don c. el Támesis d. el Dniéper e. el Loira
41. *Los lagos más hermosos e importantes de Europa están situados en:*
a. Polonia b. Austria c. Suiza d. Francia e. Italia
42. *El país mediterráneo cuya población es más densa es:*
a. Italia b. Francia c. Portugal d. Grecia e. Yugoslavia
43. *Entre las poblaciones que se dan a continuación, hay una que no es puerto sobre el mar Mediterráneo. Indíquela:*
a. Valencia (España) b. Barcelona (España) c. Marsella (Francia) d. Nápoles (Italia) e. Roma (Italia)

44. *El Estado de Mónaco está situado entre:*
a. Francia e Italia b. Italia y Yugoslavia c. Austria y Alemania d. Austria y Suiza e. Alemania e Italia
45. *De los países siguientes, hay uno que no tiene acceso al océano Atlántico, tal es:*
a. Portugal b. Francia c. Bélgica d. Holanda e. Suiza
46. *El primer centro textil de Inglaterra es:*
a. Mánchester b. Bristol c. Glasgow d. Liverpool e. Belfast
47. *La capital de Irlanda es:*
a. Belfast b. Dublin c. Hull d. Edimburgo e. Newcastle
48. *La actual capital de la República Federal Alemana es:*
a. Estambul b. Bonn c. Hamburgo d. Franckfort e. Leipzig
49. *La capital de Bulgaria es:*
a. Berlín b. Odesa c. Sofía d. Belgrado e. Bucarest
50. *Estocolmo, la capital de Suecia, es puerto sobre el:*
a. Océano Atlántico b. Océano Pacífico c. Mar Báltico d. Mar del Norte e. Mar de Noruega

REPASO DE GEOGRAFIA

1. *Enumere por orden creciente de distancia con respecto al sol, los siguientes planetas: (1, 2, 3, ...)*

- | | |
|--------------------|------------------|
| 1. La Tierra _____ | 2. Neptuno _____ |
| 3. Urano _____ | 4. Júpiter _____ |
| 5. Venus _____ | 6. Saturno _____ |
| 7. Mercurio _____ | 8. Plutón _____ |
| 9. Marte _____ | |

2. *Complete las frases siguientes:*

- a. La tierra tiene un movimiento de rotación sobre sí misma que dura _____ y un movimiento de traslación alrededor del sol, que dura _____
- b. La circunferencia ecuatorial, en kilómetros es de _____
- c. La circunferencia meridiana, en kilómetros es de _____
- d. El diámetro ecuatorial es de _____
- e. El diámetro polar es de _____
- f. La distancia de la tierra al sol es de _____ y efectúa _____
- g. La luna, único satélite de la tierra, dista de ella unos _____ y efectúa una revolución alrededor de la tierra en un período medio de _____

3. Preguntas: (Para resolver como problemas).

a. ¿Cuántos minutos de tiempo corresponden a un grado terrestre?

Solución:

b. Si dos ciudades situadas en un mismo meridiano distan 2°35'. ¿cuál es en kilómetros, la distancia que en línea recta los separa?

Solución:

c. Si dos ciudades cuyas latitudes norte (ambas) son respectivamente 37°25' y 43°36' están en un mismo meridiano; ¿cuál es la distancia entre ellas?

Solución:

d. ¿Cuáles son las longitudes respectivas de un grado, un minuto y un segundo del meridiano terrestre?

Solución:

4. Al frente de los nombres de la primera columna, escriba la letra que le corresponde de la segunda columna:

1. — Mar de la Mancha
2. — Canal de Suez
3. — Mar Caspio
4. — Estrecho de Gibraltar
5. — Estrecho de Behring
6. — Estr. de Magallanes
7. — Canal de Panamá
8. — Canal de Mozambique
9. — Canal de Yucatán
10. — Canal de Corinto
11. — Estrecho de Bósforo
12. — Estrecho de Messina

- a. Entre España y Marruecos (Africa)
- b. Entre el Mediterráneo y el Mar Rojo
- c. Entre Francia e Inglaterra
- d. Entre Europa y Asia
- e. Situado al sur de Chile
- f. Entre Asia y Alaska
- g. Entre la península de Yucatán y Cuba
- h. Entre el Atlántico y el Pacífico
- i. Entre Madagascar y el cont. Africano
- j. Entre la península Itálica y Sicilia
- k. Une el mar de Mármara con el Mar Negro
- l. Entre Grecia continental y Grecia insular

13. — Estrecho de Otranto
14. — Paso de Calais
15. — Paso de Dardanelos
16. — Estr. de Bonifacio
17. — Paso de Akaba
18. — Canal de Lenin
19. — Canal de Florida
20. — Estr. de Kategat Skager Rak

- m. Entre el mar Egeo y el mar de Mármara
- n. Entre Córcega y Cerdeña
- ñ. Entre el mar Adriático y el mar Jónico
- o. Entre el mar de la Mancha y el mar del Norte
- p. Entre el Golfo de Eden y el mar Rojo
- q. Entre Cuba y la península de Florida
- r. Une el río Volga con el río Don
- s. Unen el mar del Norte (océano Atlántico) con el mar Báltico

5. A cada afirmación agregue, en la rayita que sigue, el número que corresponde a la respuesta.

1. Támesis
2. Rhin
3. Sena
4. Nilo
5. Ganges
6. Volga
7. San Lorenzo
8. Brahmaputra
9. Yangtze-Kiang
10. Mississipi-Missouri

- a. — Río que pasa por la ciudad de París
- b. — Río al cual Egipto debe gran parte de su fertilidad
- c. — Río que nace en el Himalaya y riega gran extensión de la India
- d. — Río que atraviesa a Francia, Alemania y Holanda
- e. — Río que con el Ganges forma el mayor delta del mundo, en el golfo de Bengala
- f. — Río que pasa por Londres
- g. — Importante río de Canadá
- h. — Río de China
- i. — Importante arteria fluvial de los Estados Unidos
- j. — Río de Rusia, que desemboca en el Mar Caspio

6. Complete, indicando a qué país pertenecen:

- a. las elevaciones de El Chimborazo y de Cotopaxi _____
- b. el Everest _____
- c. el cerro Aconcagua _____
- d. el Monte Blanco _____
- e. el Irazú _____
- f. el Etna _____

PRUEBA OBJETIVA DE CONOCIMIENTOS DE GEOGRAFIA

1. Las costas de Noruega se caracterizan:

- a. por ser las más pobladas del mundo
- b. por ser las más accidentadas del mundo
- c. porque allí desembocan muchos ríos
- d. porque sus playas son las más hermosas del mundo
- e. porque son las más frías del mundo

2. De los países que se dan a continuación, hay uno que no forma parte de los países escandinavos. Este es:

- a. Polonia
- b. Suecia
- c. Noruega
- d. Dinamarca
- e. Finlandia

3. El extremo asiático más cercano al Ecuador es:

- a. la península de Arabia
- b. el Cabo de Singapur
- c. la península de Indochina
- d. la isla de Ceilán
- e. la península de Corea

4. *Asia está separada de América en la península de Alaska por:*
 a. el estrecho de Bósforo b. el estrecho de Behring c. el Canal de la Mancha
 d. el estrecho de Messina e. el Paso de Gibraltar
5. *La península de Yamal y Tamir están situadas:*
 a. al norte de Asia b. al este de Asia c. al oeste de Asia d. al sur de Asia
 e. no pertenecen al continente asiático
6. *Kanchaika y Corea son:*
 a. penínsulas asiáticas b. islas asiáticas c. montañas asiáticas d. bahías asiáticas
 e. no son territorios asiáticos
7. *El océano que baña el continente asiático por el sur, es:*
 a. Atlántico b. Pacífico c. Glacial Artico d. Glacial Antártico e. Indico
8. *El Golfo Pérsico separa la península de Araña de:*
 a. el Irán b. Paquistán c. la península de Indochina d. Afganistán e. Irak
9. *El centro de la orografía asiática está situado en:*
 a. el monte Everest b. la cordillera del Himalaya c. los montes Hindukush
 d. el nudo de Pamir e. los montes Altai
10. *La región norte del Asia se caracteriza por:*
 a. sus innumerables lagos b. ser totalmente desértica c. estar conformada por llanuras
 inmensas d. ser demasiado accidentada e. estar cubierta de nieves perpetuas.
11. *La más desértica de todas las penínsulas asiáticas es:*
 a. la de Indochina b. la de Anatolia c. la Arábica d. la de Corea e. la
 de Málaga
12. *Las islas del Archipiélago Nipón se hallan situadas en:*
 a. el océano Indico b. el mar de la China c. el mar Arábico d. el
 Océano Pacífico
13. *Las mayores alturas del mundo, están localizadas en Asia, en la cordillera denominada:*
 a. Kuen-Lun b. Hindu-Cuch c. Altai d. Karakerun e. Himalaya
14. *La máxima depresión de la tierra también se encuentra en Asia en la región:*
 a. del mar Muerto b. del lago Arak c. de la península de Arabia d. de la
 llanura Siberiana e. de la llanura China
15. *El Valle de Mesopotamia, asiento de las primeras culturas de la humanidad, está
 bañado por los ríos:*
 a. Indo y Ganges b. Tigris y Eufrates c. Obi y Amur d. Saluén e Irawadi
 e. Amu-Daria y Sir-Daira
16. *Entre los mares u océanos que se nombran a continuación, hay uno que no toca el*

litoral africano, tal es:

- a. Océano Pacífico b. Océano Atlántico c. Océano Indico d. Mar Rojo
 e. Mar Mediterráneo
17. *La extrema latitud sur del continente africano está marcada por:*
 a. Cabo Blanco b. Cabo de las Agujas c. Península de Somalia d. Isla
 de Madagascar e. Cabo Verde
18. *El continente africano se caracteriza entre los demás por:*
 a. ser el más montañoso b. ser el más poblado c. ser el menos accidentado
 en sus costas d. tener ciudades más pobladas e. tener el clima más variado
19. *El río más extenso y el más importante del Africa es:*
 a. Tigris b. Nilo c. Congo d. Zambeza e. Niger
20. *Uno de los lagos que se citan a continuación no está situado en el territorio
 africano, tal es:*
 a. el Victoria b. el Rodolfo c. el Baykal d. el Tanganika e. el Nyassa
21. *El clima del Africa se caracteriza por:*
 a. ser el más variado b. ser demasiado seco c. ser el más fresco d. ser el
 más riguroso de la tierra e. ser muy influenciado por las brisas marinas
22. *La población más importante del Africa es el Cairo, que está situada en:*
 a. Egipto b. Argelia c. Sudán d. Libia e. Etiopía
23. *El puerto africano que se encuentra situado sobre el estrecho de Gibraltar es:*
 a. Túnez b. Tanger c. Argel d. Tripodi e. El Cairo
24. *La población del Cabo, al sur del Africa, está formada en su mayoría por:*
 a. ingleses b. franceses c. portugueses d. italianos e. congoleses
25. *Actualmente el principal país productor de oro en el mundo es:*
 a. Estados Unidos b. Unión Soviética c. Sudáfrica d. Angola e. Sudán
26. *Por su extensión, América ocupa entre los continentes el:*
 a. primer lugar b. segundo lugar c. tercer lugar d. cuarto lugar e. quinto
 lugar
27. *El Golfo de México está situado entre las penínsulas de:*
 a. Florida y Yucatán Florida y Labrador c. Florida y Guajira d. Yucatán y
 Alaska e. Yucatán y Crimea
28. *El principal accidente orográfico de América del Norte es:*
 a. la cordillera de los Andes b. las montañas rocosas c. la Sierra Madre
 d. la Serranía de los Motilones e. la Serranía de Perijá

29. La elevación máxima de la cordillera Andina está formada por:
 a. el Monte Blanco b. el Aconcagua c. el Chimborazo d. la Sierra Nevada
 de Santa Marta e. los Montes de Mac Kinley
30. La arteria fluvial más larga del mundo es el:
 a. Amazonas b. Mississippi c. Nilo d. Orinoco e. Hudson
31. Sobre el lago de Michigan se encuentra el centro urbano de:
 a. New York b. Chicago c. Boston d. Los Angeles e. Quebec
32. El primer productor de plata en América es:
 a. E. U. b. Canadá c. Costa Rica d. Honduras e. Nicaragua.
33. El lago más extenso de América es:
 a. el de Michigan b. el Superior, c. el Ontario d. el Erie e. el Hurón

EXAMEN FINAL

1. PARTE: Preguntas de tipo II.

INDICACIONES

Esta primera parte está hecha de preguntas tipo II, en las cuales se proponen dos afirmaciones o aseveraciones. Usted deberá establecer la veracidad de las mismas tomadas aisladamente y luego buscar la posible relación que haya entre ellas, para lo cual hay cinco posibilidades:

Marque a., si la proposición primera es cierta, lo mismo que la segunda y si hay relación lógica entre ambas.

Marque b., si ambas proposiciones son ciertas, pero no la relación entre ellas.

Marque c., si la primera es cierta y la segunda es falsa.

Marque d., si la primera es falsa, pero la segunda es verdadera.

Marque e., si la primera y la segunda son falsas.

Ejemplo: "Colombia tiene un total de 9.242 Km. en su perímetro fronterizo; pues efectivamente cuanto 1.600 Km. en el litoral Atlántico, 1.300 Km. en el Pacífico y 6.242 de sus fronteras terrestres".

La respuesta es a, pues ambas son verdaderas y tienen relación.

- Nuestro país, por efecto de la latitud, sin influencia de otros factores, debería tener cuatro estaciones al año; porque está situado en la zona tórrida.
- Muchos países suramericanos han exigido un mar territorial de 200 millas; porque la explotación y el disfrute de los recursos naturales del mar adyacente a sus costas es una necesidad de sus economías.
- En el reciente problema con Venezuela, Colombia alega que debe aplicarse el principio de las "líneas de equidistancia y media" (es decir, el límite equidistante de una y otra costa del lugar en donde termina la frontera), según artículo 6 y la tesis venezolana que considera los derechos del mar; pues Colombia no acepta interiores del país.
- La Piedra del Cocuy es un punto fronterizo triple; porque allí limitan Colombia, Perú y Ecuador.

- En la quebrada de San Antonio limitan Colombia, Brasil y Perú; porque también en la confluencia del río Guepi con el Putumayo limitan Colombia, Ecuador y Perú. (puntos fronterizos triples).
- La comunicación de Colombia con Brasil y Perú es más fácil y rápida que con Venezuela y Ecuador; porque hay mejores vías de comunicación y más ciudades fronterizas hacia Brasil y Perú.
- Roncador y Quitasuño pertenecen al Archipiélago de San Andrés y Providencia; porque ofrecen grandes posibilidades para el turismo, la pesca y la explotación del subsuelo.
- El litoral Pacífico carece totalmente de puertos; porque es acantilado al norte y bajo e inundable al sur.
- Gorgona es una isla oceánica; pues está fuera de la plataforma submarina de Colombia.
- La fosa Cauca-Patía fue posiblemente un antiguo lago; pues allí se bifurcan la cordillera andina central y occidental.
- El Macizo Colombiano es la principal estrella hidrográfica del país; porque allí nacen cuatro importantes ríos: Magdalena, Cauca, Patía y Caquetá.
- El paso de Chambú facilita la carretera Túquerres-Tumaco; ya que es una depresión notable en la Cordillera Oriental.
- El cerro Tacarcuna es la mayor altura de la serranía del Baudó; pues tiene 2.200 mts. sobre el nivel del mar.
- En la serranía del Darién encontramos rocas de la era secundaria con intercalaciones de rocas eruptivas; pues antiguamente formó parte de la cordillera oriental.
- Los geólogos sostienen que la Sierra Nevada de Santa Marta formó parte de la cordillera central de la cual quedó separada cuando el Magdalena despojó al río Cauca de su cauce para apropiárselo; pues analizadas las rocas de la cordillera central y de la Sierra Nevada, se advierte en ellas una formación geológica muy similar.
- La mesa de Iguaje y el cerro de Chiribiquete forman parte del relieve amazónico; pues están localizados entre los ríos Meta y Vichada.
- Un 8% de la población colombiana se encuentra en la región Andina; porque allí las condiciones climáticas son más favorables para el desarrollo económico y social.
- Se dice que la cordillera occidental es más antigua que la central; pues las rocas de la cordillera occidental son predominantemente de la era secundaria.
- La formación geológica de la cordillera oriental es más antigua que la central; pues según los geólogos, la oriental surgió de un movimiento continental que desplazó hacia el oriente colombiano una gran cantidad de materiales acumulados por los ríos en el brazo del mar que se extendía junto al antiguo macizo Guayanés, durante la era secundaria.
- Los nudos montañosos constituyen centros de irradiación hidrográfica porque son efectivamente y así se los denomina, estrellas fluviales, centros hidrográficos o centros de dispersión.
- La raza negra apareció en Colombia en el siglo XIX; pues fue introducida por los españoles para el trabajo duro de las minas.

22. En la región del Pacífico existen numerosos ríos y gran cantidad de caños; por ser ésta una zona de gran lluviosidad y de vegetación abundante.
23. Los ríos de la región del Caribe toman generalmente la dirección de los meridianos; pues siguen un curso contrario a la mayoría de los que van al Pacífico, en dirección a los paralelos.
24. Los llanos de la Orinoquia tienen clima frío; porque están bañados por grandes ríos como el Meta, Vichada, Casanare, Arauca y Guaviare.
25. Los mestizos representan apenas un 6% de la población colombiana; pues los aborígenes se negaron persistentemente a unirse con los invasores blancos de Europa.
26. El clima en la región andina es uniformemente frío; porque tiene un mismo piso térmico.
27. En la región andina predomina el elemento negro en la población; pues allí está la mayor producción de oro de Colombia.
28. En los departamentos de Córdoba, Cesar, Bolívar, Sucre y Atlántico, el 75% de las fincas pertenecen al 7.6% de los propietarios; pues allí hay un gran desnivel social, individualismo acentuado e indiferencia de las clases poderosas que originan miseria y analfabetismo.
29. Según estudios recientes, Barranquilla es la segunda ciudad tuguerial de Latinoamérica, después de Sao Paulo; pues las grandes industrias que allí se han instalado han llevado a cabo magníficos y eficaces planes de vivienda que cubren todas las necesidades de la ciudadanía.
30. La agricultura en el Valle del Cauca ha venido progresando constantemente; pues este departamento cuenta para su desarrollo con factores de clima, topografía y técnicas más o menos apropiadas.
31. En el campo industrial, Cali ocupa el tercer lugar en el país; porque allí se celebra anualmente la feria de la caña de azúcar.
32. La división político-administrativa de la región andina está constituida por trece departamentos; debido al crecido número de sus habitantes y a la suficiencia de recursos económicos.
33. En la Orinoquia y la Amazonia predominan las Intendencias y Comisarias; porque son regiones planas y cruzadas por grandes ríos.
34. Los recursos de la región amazónica son básicamente los de tipo industrial; pues allí se han invertido grandes capitales en el montaje de fábricas y refinerías.
35. Se estiman en más de 500 millones de metros cúbicos las inmensas reservas de sal terrestre (de roca) en el país; pues en 1974 la administración de las salinas terrestres y marítimas pasó de manos del Banco de la República al Instituto de Fomento Industrial.
36. La minería en general, ha desempeñado un papel de segundo orden en nuestra economía; pues únicamente emplea un poco más del 1% de la población económicamente activa y sólo está investigada en un poco más del 20% del suelo posiblemente mineralizado.
37. La ganadería es el primer renglón de la economía nacional; en efecto, ha venido aumentando a un ritmo del 4% anual.
38. Se han creado empresas pesqueras en Tumaco, Buenaventura, Riohacha, Cartagena y Santa Marta; ya que se están aplicando en Colombia las mejores técnicas en

- cuanto a la conservación, producción e industrialización de los recursos ictiológicos.
39. A partir de 1974 Colombia dejó de exportar petróleo; pues ya no necesitaba divisas para sostener su economía.
40. En las regiones cafeteras, junto a la riqueza de los amos propietarios de fincas vemos con frecuencia la excesiva pobreza de los trabajadores; pues con mucha frecuencia la utilización de niños y mujeres en las labores de la producción da origen al subempleo (mano de obra barata).

II PARTE: Preguntas de tipo II (opción múltiple)

INDICACIONES

Marque a, si las afirmaciones 1, 2 y 3 son correctas.

Marque b, si las afirmaciones 2 y 4 son correctas.

Marque c, si las afirmaciones 1 y 3 son correctas.

Marque d, si solamente la afirmación 3 es correcta.

Marque e, si hay otra combinación de afirmaciones correcta u otra es la respuesta (por ejemplo, si todas son verdaderas o todas falsas).

Ejemplo:

De las siguientes montañas son de la región caribe:

- a. la Sierra de Chunare 2. las Montañas de María c. la Sierra de San Lucas
4. la Sierra de la Macarena

Aquí la respuesta es a, pues efectivamente son verdaderas 1, 2 y 3.

41. *En la Serranía de San Jacinto nacen los siguientes ríos:*

1. el Ranchería 2. el Aracataca 3. el Anorí 4. el Pore

42. *Los siguientes accidentes forman límites de la región del Pacífico:*

1. Ancón de Sardinias 2. Cabo Corrientes 3. Cordillera Occidental 4. Punta Gallinas

43. *Las que se enumeran a continuación son tribus de la región Pacífica:*

1. los Huitotos 2. los Cunas 3. los Tukanos 4. los Cholos

44. *La Cordillera Occidental cruza los siguientes departamentos:*

1. Santander, Cesar, Meta, Cundinamarca y Boyacá 2. Nariño, Huila, Tolima, Cundinamarca y Antioquia 3. Nariño, Cauca, Valle, Chocó, Quindío, Risaralda, Caldas, Antioquia 4. Cauca, Valle, Quindío, Risaralda y Boyacá

45. *En la isla de San Andrés encontramos:*

1. mucho turismo 2. mucha industria textil 3. intenso comercio 4. abundante agricultura

46. *La economía de la Orinoquia es predominantemente:*

1. industrial 2. comercial 3. ganadera 4. turística
47. *Topográficamente, la Amazonia es llana en:*
1. un 30% 2. un 20% 3. un 95% 4. un 50%
48. *De las siguientes son ciudades de piso térmico templado:*
1. Manizales 2. Pereira 3. Bogotá 4. Ibagué
49. *Las afirmaciones siguientes se refieren a la región del Pacífico, excepto:*
1. hay un predominio de la vivienda rústica 2. la región en general carece de asistencia técnica 3. el clima es lluvioso y húmedo 4. está cruzada por numerosas y modernas vías de comunicación
50. *Hablando de la región del Caribe podemos decir:*
1. allí está la serranía del Baudó 2. allí queda el Valle del Sinú 3. su economía es principalmente minera 4. su principal accidente orográfico es la Sierra Nevada de Santa Marta
51. *La Cordillera Central atraviesa los siguientes departamentos:*
1. Nariño, Cauca, Valle, Quindío, Risaralda, Chocó, Caldas y Antioquia 2. Cauca, Valle, Quindío, Risaralda, Chocó, Caldas y Antioquia 3. Huila, Tolima, Santander, Caldas, Risaralda, Boyacá y Antioquia 4. Meta, Valle, Santander, Norte de Santander, Boyacá y Cesar
52. *Los ríos de la región Andina son aptos para producir energía, porque:*
1. provienen de las montañas 2. son muy anchos y lentos 3. son bastante rápidos 4. son muy tortuosos
53. *Los siguientes son centros ganaderos:*
1. Llanos orientales 2. Departamento del Cesar 3. Valle del Sinú 4. Comisaría del Vaupés
54. *El clima predominante en la Orinoquia es:*
1. de selva tropical 2. de montaña 3. de sabana tropical 4. templado
55. *Los siguientes accidentes montañosos pertenecen a la Amazonia:*
1. Cerros de Araracuara 2. Serranía de Ayapel 3. Cerro Cumare 4. San Jacinto
56. *Las siguientes divisiones político-administrativas están situadas en la Orinoquia:*
1. Intendencia del Caquetá 2. Comisaría del Vichada 3. Departamento del Tolima 4. Comisaría del Guainía
57. *La distribución de zonas ganaderas (para carne) en el país es así:*
1. un 50% en la Costa Atlántica 2. un 30% en la parte montañosa y valles del Magdalena y Cauca 3. un 17% en los Llanos Orientales 4. un 40% en la Amazonia

58. *Hablando del café en Colombia, podemos afirmar:*

1. el café sólo representa una tercera parte de las exportaciones 2. el café representa la tercera parte de la producción agropecuaria el país 3. las tierras dedicadas al cultivo del café han disminuido últimamente 4. aproximadamente el 17% de la fuerza laboral del país se ocupa de la agricultura cafetera

59. *Con relación al petróleo en Colombia, se puede afirmar:*

1. un 17% de nuestro territorio tiene posibilidades petrolíferas 2. actualmente Colombia está importando petróleo 3. están operando actualmente dos importantes refineries en Barrancabermeja y Cartagena respectivamente 4. el Ministerio de Minas y Energía fija las políticas oficiales del sector petrolero

60. *Refiriéndonos a San Andrés y Providencia podemos afirmar:*

1. dicho archipiélago ha sido actualmente constituido en departamento 2. el clima de la región es templado. No supera los 25 grados 3. el territorio es general plano, aunque en San Andrés hay pequeñas elevaciones de 60 mts. y en Providencia y Santa Catalina las hay hasta de 300 mts. 4. la región es predominantemente agrícola, de modo que su economía depende más de la producción que del turismo y del comercio

III PARTE: Analogías

INDICACIONES

Se trata de buscar alguna analogía o relación de semejanza, oposición, causalidad, etc...

Ejemplo: "Bogotá es a Colombia, como: París es a (a. Francia b. Alemania c. España d. Rusia e Italia)"

En este caso la respuesta es: a Francia.

Ahora responda de la misma forma:

61. Un grado (1°): 111, 111 m.: Un minuto (1'): (a. 1.000 m. b. 1.500 m. c. 1.852 d. 2.000 m. e. 1.600 m.)
62. Etna: Sicilia: Chimborazo: (a. Chile b. Ecuador c. Argentina d. Colombia e. México)
63. Támesis: Londres: Sena: (a. Roma b. Madrid c. Lisboa d. París e. Pekin)
64. Ganges: India: Volga: (a. Rusia b. China c. Italia d. Polonia e. Suecia)
65. Bóstor: Mar Negro: Suez: (a. Mar Jónico b. Mar Rojo c. Mar Egeo d. Mar Báltico e. Mar Muerto)
66. Behring: Alaska: Gibraltar: (a. Grecia b. Francia c. Cuba d. España e. Holanda)
67. Tigris: Mesopotamia: Nilo: (a. Italia b. España c. Egipto d. Congo e. Noruega)
68. Himalaya: Asia: Aconcagua: (a. Africa b. América c. Antártida d. Europa e. Australia)

90

69. Magdalena: Colombia:: Mississippi: (a. Estados Unidos b. Canadá c. México d. Cuba e. Panamá)
70. Estocolmo: Suecia:: Sofía: (a. Noruega b. Holanda c. Suiza d. Bulgaria e. Irlanda)
71. Zona Tórrida: Ecuador:: Antártida: (a. Trópico de Cáncer b. Trópico de Capricornio c. Círculo Ártico d. Polo Norte e. Polo Sur)
72. Indo: Mar Árabe:: Danubio: (a. Mar Báltico b. océano Índico c. Océano Glacial Ártico d. Océano Atlántico e. Mar Negro)
73. Amazonas: Perú:: Missouri: (a. Montañas Rocosas b. Mongolia c. Siberia d. Sierra Leona e. Tibet)
74. Arch. de San Andrés y Providencia: Colombia:: Arch. Los Chonos: (a. Brasil b. Ecuador c. Chile d. Perú e. Cuba)
75. Asunción: Paraguay:: La Paz: (a. Uruguay b. Bolivia c. Argentina d. Venezuela e. Guayana)
76. Oranjestad: Aruba:: Kingstown: (a. Bonaire b. Curazao c. Haití d. Puerto Rico e. Jamaica)
77. Tegucigalpa: Honduras:: Managua: (a. Guatemala b. Nicaragua c. Costa Rica d. El Salvador e. Panamá)
78. Vietnam Norte: Hanoi:: Camboya: (a. Teherán b. Bangkok c. Ankara d. Damasco e. Pnom-Penh)
79. Saigón: Vietnam Sur:: Nueva Delhi: (a. Birmania b. Mongolia c. Tailandia d. India e. Turquía)
80. Moscú: Rusia:: Varsovia: (a. Estonia b. Lituania c. Checoslovaquia d. Ucrania e. Polonia)

RESPUESTAS

GEOGRAFIA MUNDIAL:

Tórrida, Capricornio 2.Templada, Cáncer 3.Templada, Antártico
4.Ártica, Norte 5.Antártica, Sur

CONTINENTES, OCEANOS, MARES.

1.D	2.F	3.K	4.P	5.A	6.A	7.S	8.H
9.E	10.M	11.B	12.L	13.C	14.O	15.L	16.G
17.V							

PRINCIPALES RIOS DEL MUNDO.

a.8	b.2	c.z	d.11	e.1	f.7	g.18	h.14
i.20	j.15	k.10	l.3	m.17	n.12	ñ.9	o.21
p.x	q.k	r.13	s.16	t.22	u.19		

MAPA FISICO DE SUR AMERICA

a.3	b.13	c.6	d.9	e.11	f.7	g.8	h.14
i.18	j.21	k.20	l.4	m.10	n.9	o.16	p.12
q.15	r.5	s.1	t.2	u.22	v.19		

MAPA POLITICO DE SUR AMERICA

M.11	A.4	C.14	l.3	G.10	B.1	N.13	D.5
K.2	E.12	L.6	F.9	V.7			

REGION INSULAR

a.3	b.8	c.4	d.1	e.5	f.2	g.9	h.10
i.11							

MAPA FISICO DE NORTEAMERICA

a.5	b.7	c.11	d.18	e.15	f.17	g.19	h.16
i.20	j.8	k.3	l.2	m.9	n.12	o.18	p.21
q.10	r.1	s.4	t.6	u.14	v.22		

DIVISION POLITICA DE NORTE Y CENTROAMERICA

C.7	G.9	A.1	l.6	P.8	B.4	D.2	N.10
S.5	K.3	V					

MAPA FISICO DE ASIA

a. 7	b. 24	c. 10	d. 13	e. 11	f. 15	g. 9	h. 19	i. 18
k. 6	m. 27	n. 32	p. 2	t. 9	r. 5	v. 1	x. 3	z. 27
j. 16	l. 21	n. 14	o. 4	q. 12	s. 17	u. 20	w. 23	y. 25

MAPA POLITICO DE ASIA

a.5	b.7	c.14	d.6	e.H	f.13	g.21	h.A
i.10	j.20	k.11	l.22	m.1	n.3	o.12	p.19
q.16	r.9	s.4	t.13	u.B	v.17		

CUADRO GENERAL DE PAISES

	Población
Estados	44.236.000
Turquia	690.000
Chipre	36.900.000
Irán	15.488.000
Afganistán	12.767.000
Irak	8.326.000
Siria	3.086.000
Líbano	3.748.000
Israel	2.779.000
Jordania	8.112.000
Arabia Saudita	7.080.000
Yemen	1.800.000
Yemen Democrático	1.130.000
Kuwait	820.000
Oman	991.000
Oman de la Tregua	
El Quatar	
Bahrein	270.000

DIVISION POLITICA DEL ASIA MERIDIONAL

Países	Población
Unión India	650.982.000
Pakistán	79.800.000
Bangladesh	80.560.000
Nepal	13.140.000
Ceilán	13.970.000
Bután	12.200
Islas Maldivas	140.000
Sikkim	

DIVISION POLITICA ASIA INSULAR DEL NORTE

Japón	
Islas Kuriles	115.875.000

DIVISION POLITICA ASIA ORIENTAL

China	980.000.000
Formosa	19.000.000
Corea del Norte	16.650.000
Corea del Sur	36.550.000
Birmania	31.510.000
Tailandia	44.160.000
Liós	460.000
Camboya	8.610.000
Vietnam del Norte	21.340.000
Vietnam del Sur	17.867.000
Federación de Malasia	15.436.000
Singapur	2.360.000
Hong-Kong	4.438.000
Brunei	162.400

EJERCICIO: Conteste Verdadero (V) o Falso (F).

a.V	2.F	3.F	4.V	5.V	6.V	7.F	8.V
9.F	10.V	11.V	12.F	13.F	14.F	15.V	

MAPA FISICO DE EUROPA

a.7	b.19	c.22	d.3	e.1	f.11	g.14	h.16
i.24	k.5	l.10	m.18	n.2	o.8	p.7	q.15
r.23	s.20	t.9	u.12	v.6	w.13	x.4	y.x
z.25							

DIVISION POLITICA DE EUROPA

U.14	Z.22	X.17	B.18	E.15	M.19	D.16	C.1
V.5	L.12	1.23	G.8	J.21	A.11	K.22	G.24
O.7	N.13	S.4	Z.10	B.3	T.6	R.20	W.9
H.25	F.26						

EUROPA ATLANTICA

Países	Población
Reino Unido	55.836.000
Irlanda o Eire	3.368.000
Francia	53.478.000
Bélgica	9.848.000
Luxemburgo	360.000
Mónaco	30.000
Países Bajos	13.850.000

EUROPA ATLANTICA SEPTENTRIONAL

Noruega	4.073.000
Suecia	8.294.000
Dinamarca	5.117.000
Finlandia	4.764.000
Islandia	228.000

EUROPA CENTRAL

Alemania Occidental	61.337.000
Alemania Oriental	16.745.000
Austria	7.506.000
Suiza	6.330.000
Liechtenstein	24.169

EUROPA MEDITERRANEA

España	37.187.000
Portugal	9.869.000
Italia	56.909.000
Grecia	9.400.000
Albania	2.620.000
Turquia Europea	46.438.000
Andorra	28.348
San Marino	20.339
Ciudad del Vaticano	826.000
Malta	330.000
Monte Athos	

EUROPA ORIENTAL

Rusia	264.108.000
Ucrania	
Bielorrusia	
Georgia	
Azerbaijan	
Armenia	
Lituania	
Letonia	
Estonia	35.225.000
Polonia	15.247.000
Checoslovaquia	10.669.000
Hungría	8.951.000
Bulgaria	22.068.000
Rumania	22.160.000
Yugoslavia	

EJERCICIO. Conteste Verdadero (V) o Falso (F).

1.V	2.F	3.F	4.V	5.F	6.V	7.V	8.I	9.V
-----	-----	-----	-----	-----	-----	-----	-----	-----

RESPUESTAS

MAPA POLITICO DE AFRICA

a.5	b.9	c.12	d.1	e.4	f.10	g.13	h. 15
i.11	k.5	l.2	m.3	n.7	o.16	p.18	q. 22
s.21	r.20	s.21	t.17	u.14	v.12		
II.							
A.8	B.	C.12	D.5	E.5	F.2	G.3	H. 1
I.16	J.16	K.13	L.9	M.4	N.11	O.15	P. 14
Q.7	R.17	S.22	T.20	U.12	V.21		

AFRICA

Pais	Población
Egipto	40.983.000
Sudán	16.130.000
Marruecos	19.470.000
Argelia	19.029.000
Túnez	6.070.000
Libia	2.856.000
Mali	5.990.000
Niger	4.860.000
Chad	4.290.000
Mauritania	1.481.000
Alto Volta	6.320.000
Sahara Español	
Senegal	5.090.000
Gambia	550.000
Guinea Bissau	950.000
Guinea	4.650.000
Sierra Leona	3.470.000
Liberia	1.800.000
Costa de Marfil	7.920.000
Ghana	10.480.000
Togo	2.350.000
Dahomey	3.290.000
Nigeria	74.595.000
Camerún	7.663.000
Gabón	950.000
Guinea Ecuatorial	4.650.000
Islas Portuguesas	80.000
Re.Centro Africana	1.640.000
Congo	1.440.000
Zaire	26.380.000
Ruanda	4.600.000
Burundi	3.970.000
Uganda	12.350.000
Kenya	15.320.000
Tanzania	16.070.000
Somalia	3.542.000
Etiopia	30.420.000
Territorio Francés	
Angola	6.751.000
Zambia	5.649.000
Malawi	5.530.000
Mozambique	9.680.000
Sudáfrica	26.130.000
Namibia	2.500.000
Botswana	1.174.000
Ngwane	1.240.000
Madagascar	8.520.000
Mauricio	800.000
Rhodesia	6.530.000

RESPUESTAS

GEOGRAFIA UNIVERSAL. EJERCICIO

1.d	2.b	3.d	4.c	5.d	6.b	7.b	8.c
9.c	10.f	11.b	12.b	13.a	14.d	15.b	16.b
17.e	18.c	19.b	20.e	21.a	22.b	23.a	24.e
25.c	26.e	27.c	28.a	29.e	30.a	31.b	32.e
33.c	34.a	35.c	36.b	37.e	38.e	39.b	40.c
41.c	42.a	43.e	44.a	45.e	46.a	47.b	48.b
49.c	50.e						

REPASO SOBRE GEOGRAFIA

1.3	2.8	3.7	4.5	5.2	6.6	7.1	8.9
9.4							

2.

- a. 24 horas, 365 días
- b. 40.076 km.
- c. 40.009 km.
- d. 12.756 km.
- e. 12.713 km.
- f. 149 millones de kms.
- g. 384.000 km., 27 días

3. Preguntas (para resolver como problemas)

- a. 15° - 60' 1° - 4 minutos b. 90° - 10.000 km 2° 35' X 2.35 x 10.000 90
- c. 43°36' - 37.25 - 6° 11' 90 - 10.000 6° 11' X
- d. a) 90° - 10.000 km. 1' - X b) 90° - 10.000 1' X
- e) 90° - 10.000 1' - X

4. Al frente de los nombres de la primera columna, escriba la letra que le corresponde de la segunda columna:

1.e	2.b	3.d	4.a	5.f	6.e	7.h	8.i
9.g	10.i	11.k	12.u	13.ñ	14.o	15.m	16.n
17.p	18.r	19.q	20.s				

5. A cada afirmación agregue, en la rayita que sigue el número que corresponde a la respuesta.

a.3	b.4	c.5	d.2	e.8	f.1	g.7	h.9
i.10	j.6						

6. Complete, indicando a qué país pertenecen:

a.Ecuador	b.China	c.Argentina-Chile	d.Francia	e.Costa Rica
f.Italia				

PRUEBA DE GEOGRAFIA

1.b	2.a	3.b	4.b	5.a	6.a	7.e	8. a
9.d	10.c	11.c	12.d	13.e	14.a	15.b	16. a
17.b	18.c	19.b	20.c	21.b	22.a	23.b	24. a
25.c	26.b	27.a	28.b	29.b	30.c	32. b	33. b

EVALUACION FINAL DE GEOGRAFIA

I PARTE: PREGUNTAS DE TIPO II

1.a	2.a	3.a	4.a	5.b	6.c	7.b	8.d
9.e	10.a	11.a	12.e	13.d	14.c	15.a	16.c
17.e	18.c	19.d	20.a	21.d	22.a	23.b	24.c
25.e	26.e	27.d	28.b	29.e	30.a	31.b	32.b
33.b	34.e	35.c	36.a	37.d	38.c	39.e	40.a

II PARTE: Preguntas de tipo II (Opción múltiple)

41.e	42.c	43.b	44.d	45.c	46.d	48.b
49.a	50.b	51.e	52.c	53.a	54.d	55.e
57.c	58.c	59.e	60.d			56.c

COMPRESION DE LECTURA

Las siguientes preguntas están basadas en las lecturas que les anteceden. Se debe leer primero el pasaje y contestar luego las preguntas correspondientes.

PASAJE 1

La Universidad de Puerto Rico se fundó en 1903 en Río Piedras, una aldea que hoy forma parte importante de la ciudad de San Juan. La Escuela de Medicina se encuentra en Puerta de Tierra, San Juan; y el Colegio de Agricultura y Artes Mecánicas en Mayagüez. Situada en un bello "campus" de jardines, la Universidad posee un núcleo originario de estilo andaluz, muy semejante a la Exposición Iberoamericana de Sevilla, con una torre inspirada en la Giralda, y otras construcciones muy modernas, como la Biblioteca, el Museo, la Residencia de estudiantes, etc.

La enseñanza en esta universidad es bilingüe, en español y en inglés, pues parte de los profesores son norteamericanos y otros de diferentes nacionalidades. Hay en ella bastantes profesores españoles, el más eminente de los cuales ha sido sin duda don Juan Ramón Jiménez, autor de "Platero y Yo", el célebre poeta galardonado con el Premio Nobel, que falleció en Puerto Rico en 1959.

Zenobia Camprubi, la esposa de Juan Ramón Jiménez, murió un año antes que su marido. En homenaje a ella se fundó en la Universidad una sala que contiene la Biblioteca y muchos muebles y recuerdos del gran poeta español. Los restos de Zenobia y Juan Ramón descansan en el cementerio de Moguer, el pueblo andaluz en que nació el poeta.

Don Pablo Casals ha organizado y dirigido cada año en la Universidad, un importante festival de música.

- La Universidad de Puerto Rico se fundó:
A. en el siglo pasado B. a principios de este siglo C. hace menos de treinta años D. en la ciudad de Ponce
- Río Piedras es una antigua aldea de Puerto Rico que está situada:
A. lejos de cualquier otra ciudad B. junto a San Juan, formando parte de esta ciudad C. en España D. en una vecindad que desde hace tiempo ha desaparecido
- Según se deduce del párrafo anterior...
1. la Escuela de Medicina y el Colegio de Agricultura y Artes Mecánicas se encuentran en ciudades diferentes A B C D
C. la Universidad de Puerto Rico está en Mayagüez B. en Puerto Rico no hay Escuela de Medicina D. Puerta de Piedra no pertenece a Puerto Rico

- ¿Qué puede decir usted sobre el estilo de la Universidad de P.R.?
A. que absolutamente todas sus edificaciones son de estilo andaluz B. que en ella se halla situada la Giralda C. que aparte de su núcleo originario de estilo andaluz hay otras construcciones muy modernas D. que es muy moderna, sin rastro alguno del primitivo núcleo de estilo andaluz
- En esta universidad, la enseñanza es bilingüe debido a que...
A. toda la población sabe los dos idiomas B. parte de los profesores son norteamericanos C. hay muchos profesores D. es más interesante así
- ¿Cuál de las siguientes afirmaciones sobre don Juan Ramón Jiménez es falsa?
A. fue profesor en la Universidad de Puerto Rico B. es el autor de "Platero y Yo" C. fue galardonado con el Premio Nobel D. vive actualmente en Puerto Rico

PASAJE 2

Estamos tan acostumbrados a escribir en nuestro propio idioma, que apenas podemos concebir que haya maneras de escribir fundamentalmente diferentes de las que usamos cada día. Desde el punto de vista representativo, el inglés no se diferencia del español, ni ninguno de estos dos idiomas del alemán, del francés, o del griego. En cada uno de éstos y otros idiomas parecidos el signo gráfico pretende representar un fonema o sonido, aunque lo haga, según cada idioma, de un modo más o menos diferente.

Sin embargo, los jeroglíficos egipcios, la escritura usada por las civilizaciones maya y azteca, el antiguo y actual chino o japonés no representan un sonido sino que simbolizan un objeto o idea. Dicho tipo de escritura en su forma original era una reproducción o dibujo más o menos estilizado del objeto que se pretendía representar o de la idea sugerida por algún objeto. No se debe a pura coincidencia el que en algunos casos los signos representativos de cosas o ideas sean parecidos en escrituras tan dispares en el tiempo y en el espacio como los jeroglíficos egipcios y los caracteres chinos. Así, por ejemplo, tanto en los monumentos de la antigüedad del país del Nilo, como en el actual chino, y para el caso también el japonés, un río suele representarse por tres líneas paralelas que representan el caudal de agua corriendo entre ambas orillas; la única diferencia consiste en que los egipcios dibujaban o esculpían las tres líneas en sentido horizontal, y los chinos y japoneses lo hacen en dirección vertical.

No existe diferencia básica entre la escritura china y la japonesa ni desde el punto de vista del trazado del ideograma o "kanji" —que así se llama al signo representativo—, ni desde el punto de vista de la idea u objeto representado: un símbolo algo parecido a una "y" invertida representará tanto en un idioma como en el otro la idea del hombre. De hecho la escritura china se introdujo en el Japón, junto con el budismo, hacia el siglo séptimo, y el Japón aceptó desde entonces la manera peculiar de escribir de los chinos usada por éstos desde muchos siglos antes. Pero al aceptar el ideograma chino, y al mismo tiempo conservar el propio lenguaje hablado obligó a leer, no a escribir, los ideogramas, no en el original sino en japonés. De algún modo puede decirse, con las necesarias salvedades, que un chino entiende el significado de un ideograma escrito por un japonés, o viceversa, pero no comprende la lectura del mismo. En cierto sentido es como si dijéramos que un individuo que sólo domine el alemán, entiende a un español cuando éste escribe en un papel el número 2, pero no lo comprende cuando el español pronuncia oralmente y en alta voz la palabra "dos".

- A B C D E
- Cualquier forma de escritura:
 - representa siempre un sonido
 - representa a veces un sonido, a veces un objeto o idea
 - nunca representa un sonido
 - es esencialmente diferente para cada idioma
 - pretende representar un número
 - El español, el inglés, el francés, el griego, el alemán y algunos otros idiomas:
 - son similares porque su escritura representa objetos
 - son completamente diferentes bajo cualquier punto de vista
 - son similares en que su escritura representa sonidos y no objetos
 - son parecidos al chino
 - son similares entre sí con la excepción del griego
 - Los joroglíficos egipcios:
 - son similares a los ideogramas chinos desde el punto de vista que pretenden representar objetos o ideas
 - es un modo de escritura que nadie puede descifrar hoy día
 - fueron interpretados por Champollion
 - Representan, como la escritura arábiga, griega o latina distintos sonidos o grupos de sonidos.
 - se leen de la misma manera que los ideogramas japoneses
 - La escritura japonesa:
 - es autóctona
 - es diferente de la china
 - fue inventada por los japoneses en el siglo séptimo
 - fue introducida en el Japón por los monjes budistas
 - es parecida a la griega
 - El idioma chino se diferencia del japonés, entre otras cosas:
 - por el modo en que se escriben los ideogramas
 - por el modo en que se leen los ideogramas
 - por el hecho de que la escritura china es ideográfica mientras que la japonesa es fonética
 - sólo por el número y significado de los ideogramas respectivos
 - Todas, A-D

PASAJE 3

En 1774 las Trece Colonias contaban ya con 3.000.000 de habitantes. El 5 de septiembre de ese año se convocó el primer Congreso Continental en Filadelfia, para elevar al Parlamento de Londres un memorial de agravios. Los colonos, que se consideraban tradicionales ciudadanos británicos, poseedores de los derechos civiles y políticos del pueblo inglés, reclamaban contra los impuestos onerosos y restricciones comerciales que entorpecían el desarrollo económico de las colonias. El Parlamento rechazó el memorial y ocurrieron choques armados en Lexington y Concord (18 de abril de 1775). El 16 de junio, hubo un verdadero combate en el Cerro Bunker que domina Boston: 16.000 patriotas fueron vencidos difícilmente por el ejército. En mayo de 1775, el Congreso Continental declaró la guerra a Inglaterra y nombró jefe de las tropas patrióticas a Jorge Washington. Al año siguiente (4 de julio de 1776) el Congreso promulgó la Declaración de Independencia. Con milicianos mal armados y peor disciplinados, los patriotas lograron desalojar a los británicos y fueron obligados a retirarse. En la Nochebuena de 1776, Washington cruzó el río Delaware en chalupas y cayó por sorpresa sobre los ingleses en Trenton. Al año siguiente, el general inglés Howe ocupó Filadelfia, la "capital rebelde".

En 1777, sin embargo, el aspecto de la guerra cambió con el triunfo patriota de Saratoga, donde el inglés se rindió con 6.000 hombres, armas y bagajes. Francia se puso abiertamente al lado de los Estados Unidos derrotando a la escuadra inglesa en la bahía de Chesapeake. Al propio tiempo Washington se unió al ejército francés, forzando la terminación de la guerra. Inglaterra reconoció la independencia de los Estados Unidos por un tratado de paz firmado en París (3 de septiembre de 1783).

- El título más adecuado para el anterior pasaje es:
 - Guerra franco-británica en Norteamérica
 - La independencia de los Estados Unidos
 - Derechos civiles y políticos de los pueblos
 - Las colonias inglesas
- El descontento de los colonos americanos se debió a que:
 - deseaban ser ciudadanos independientes
 - tenían un gran sentido patriótico
 - consideraban injustos los impuestos y restricciones comerciales a que estaban sometidos
 - no deseaban seguir siendo ciudadanos ingleses
- La causa de los primeros choques armados fue:
 - el nombramiento de Jorge Washington como jefe de las tropas patrióticas
 - la declaración de guerra efectuada por el Congreso Continental
 - el rechazo por el Parlamento de Londres del memorial de agravios, presentado por el Primer Congreso de Filadelfia
 - la convocación de este Primer Congreso Continental en Filadelfia
- Saratoga está relacionado con:
 - una importante derrota inglesa
 - una decisiva derrota francesa
 - la llamada "capital rebelde" ocupada por los patriotas
 - el tratado de paz que reconoció la independencia de los EE.UU.
- La Declaración de Independencia fue promulgada en:
 - 1775, el 18 de abril
 - Mayo de 1775
 - 1776, 4 de julio
 - 1783, 3 de septiembre
 - Nochebuena de 1776

PASAJE 4

Los vientos de independencia llegaron a Costa Rica, como a otras naciones centroamericanas, procedentes de Guatemala, que por antiguos atavismos administrativos (Guatemala había sido la "Capitanía General") se vio envuelta en los destinos de la revolución de Méjico. Se enviaron copias del Acta de Independencia guatemalteca a todos los países centroamericanos que habían dependido de la antigua Capitanía.

Una comisión reunida a fines del año 1821 redactó el Pacto de la Concordia, primera institución política de Costa Rica en que se declaraba su soberanía absoluta respecto a los demás estados americanos. Los gobiernos que comienzan a elegirse entonces (como la Primera Junta superior Gubernativa) son los primeros tanteos inexpertos de una nueva nación libre que acababa de hacer su entrada en la Historia. El país quedó de momento dividido en "imperialistas" (partidarios de unirse a Méjico regentado por Iturbide) y republicanos, que deseaban la independencia a ultranza. Los imperialistas asaltaron el cuartel de Cartago el 29 de marzo de 1823 y se creyeron dueños del poder, pero las demás poblaciones reaccionaron contra aquel golpe de estado; después de una batalla entre los dos partidos, José Ramírez, republicano, asumió una dictadura cuyo hecho más importante fue el traslado de la capital del estado de Cartago a San José, que es desde entonces la capital de la República.

Fue el primer Jefe de Estado de Costa Rica, Juan Mora Fernández que hizo importantes mejoras industrializadoras y administrativas. Se anexionó a Costa Rica la provincia de Guanacaste, fronteriza por el noroeste con Nicaragua.

Después de una época de indisciplina en que fue presidente Rafael de Gallegos, gobernó Braulio Carrillo, que reforzó la capitalidad de San José, disputada por la vieja capital. Era un típico representante de aquel "liberalismo autoritario" del ochocientos, como su contemporáneo Guizón, el Ministro de Luis Felipe, que postulaba: "la razón el cañón" para gobernar bien.

100

- de: A B C D
- La independencia de Guatemala influyó en la independencia de: A B C D
A. Méjico B. Brasil C. La Capitanía General D. América del Sur
 - En el Pacto de la Concordia, redactado en 1821, se declaró:
A. La necesidad de una nueva Comisión B. La soberanía absoluta de Costa Rica
C. La Primera Junta Superior D. La elección de un nuevo gobierno
 - En 1823, tras el asalto del cuartel de Cartago, los "imperialistas": A B C D
A. Se hicieron dueños del poder durante varios años B. Establecieron una
dictadura C. Trasladaron la capital de Cartago a San José D. se creyeron
dueños del poder, pero las demás poblaciones se opusieron
 - El Primer Jefe de Estado de Costa Rica fue: A B C D
A. José Ramírez B. Mora Fernández C. Rafael Gallegos D. Braulio
Carrillo
 - El ministro francés Guizot: A B C D
A. Sucedió a Braulio Carrillo B. Vivió al mismo tiempo que Luis Felipe, Rey de
Francia C. Sucedió a Luis Felipe D. Vivió en el siglo XVII

PASAJE 5

La isla de Borinquen, hoy Puerto Rico, fue descubierta por Cristóbal Colón en su segundo viaje. Colón zarpó del puerto de Cádiz el 25 de septiembre de 1493. De esta expedición se conocen pocos detalles porque el diario de navegación referente a la misma se ha perdido y los cronistas de esa época son lacónicos.

Se supone que Colón se dirigió hacia Puerto Rico por la ruta del Sur y que una de sus carabelas exploró las Islas Virgenes. Poco después, el 19 de noviembre de 1493, arribó a "Boluchen" (Borinquen) por la costa occidental, desembarcando cerca de un poblado indio cuyo nombre se tradujo por "La Aguada". Los navegantes se abastecieron de agua dulce y de la pesca abundantísima de aquellas costas, y bautizaron la isla con el nombre de Isla de San Juan Bautista.

Pero no sería hasta 15 años más tarde que la primera expedición colonizadora se llevaría a cabo dirigida por Pinzón. Posteriormente, algunas muestras de oro halladas durante la expedición de Pinzón, y el deseo del gobernador de La Española (hoy Santo Domingo) por conocer los recursos naturales de Puerto Rico, indujeron a Juan Ponce de León a explorar, junto con unos 50 hombres, la costa sur de la isla. Ponce de León se entrevistó con el gran cacique Agüeybana y estableció con él un pacto de amistad. Remontó la costa oriental y descubrió la bahía de San Juan; allí, en un lugar apropiado y no muy alejado de dicha bahía, fundó la primera población de Puerto Rico: Caparra.

- De la expedición que descubrió Puerto Rico: A B C D
A. conocemos muchos pormenores B. han llegado hasta nosotros historias muy
disparas C. se escribieron detalles en un diario de navegación D. Los cronistas
se muestran prolíficos en describir los acontecimientos
- Colón llegó a Puerto Rico: A B C D E
A. después de haber visitado la Florida B. siguiendo probablemente la ruta del
Sur C. arrastrado allí por una tormenta D. después de Ponce de León E.
en su primer viaje
- La isla de Puerto Rico nunca fue conocida con el nombre de: A B C D
A. Borinquen B. Boluchen C. San Juan Bautista D. Las Islas Virgenes
- La primera expedición colonizadora después de la llegada de Colón: A B C D E
A. tuvo lugar durante la primera década del 1500 B. no se realizó hasta medio siglo

101

- más tarde C. fue capitaneada por Ponce de León D. terminó con una
entrevista con el cacique Agüeybana E. desembarcó en un poblado indio que se
llamó "La Aguada"
- Según el texto precedente, Ponce de León: A B C D
A. fundó la ciudad de San Juan de Puerto Rico B. descubrió la bahía de San
Juan C. exploró toda la isla Borinquen D. junto con Pinzón visitó la isla de
Puerto Rico quince años después de su descubrimiento

PASAJE 6

El hombre ha habitado las cinco partes del mundo desde las épocas más remotas. Su vida nómada le llevó a recorrer y conocer las regiones que habitaba. Pero éste no es el conocimiento que llamamos geografía. La ciencia geográfica empieza cuando el hombre intenta describir, con palabras o con dibujos, la relación que une dos puntos distintos de la superficie de la tierra.

El desarrollo de los conocimientos geográficos ha sido muy irregular, pudiéndose distinguir tres periodos principales. El primero tuvo lugar en la antigua Grecia, cuando se hicieron los primeros intentos formales para describir y explicar científicamente las diversas condiciones de los distintos lugares de la tierra. El segundo período corresponde a la era de los grandes descubrimientos, que abarca del siglo XV al XIX y en la que se reconocieron los aspectos y características de nuestro planeta. Por último, el moderno período científico, cuyo comienzo se confunde con el anterior y que continúa en la actualidad, en que todos los recursos científicos se utilizan para reproducir y describir todos los puntos de la superficie terrestre.

Como ciencia descriptiva y sistemática, la geografía es relativamente reciente. Su iniciador fue el alemán von Humboldt, a finales del siglo XVIII. Este científico desarrolló, y sostuvo con hechos, el concepto de la tierra en evolución, siguiendo la concepción del filósofo Kant. Siguiendo en esta línea, los geógrafos modernos han dedicado su esfuerzo al estudio de la influencia del medio geográfico en el hombre y en sus formas de vida, dando así nacimiento a una nueva rama de la geografía llamada antropogeografía.

- El título que mejor describe la información suministrada en el párrafo anterior es: A B C D
A. la aparición del hombre sobre la Tierra B. los grandes descubrimientos
geográficos C. la evolución de la ciencia geográfica D. la influencia del medio
geográfico en el hombre
- El científico von Humboldt y el filósofo Kant coinciden en sus ideas referentes a: A B C D
A. la nueva ciencia llamada antropología B. el concepto de la tierra en
evolución C. la importancia de la geografía D. la influencia del hombre en el
medio geográfico
- La ciencia geográfica empezó: A B C D
A. cuando el hombre apareció sobre la Tierra B. con los primeros desplazamientos
del hombre C. cuando se intentó describir la relación entre los distintos puntos de
la superficie terrestre D. cuando el hombre empezó a dibujar
- ¿Cuál de las siguientes afirmaciones es cierta? A B C D
A. los grandes descubrimientos geográficos han tenido lugar en el moderno período
científico B. la ciencia geográfica se desarrolló solamente durante la época
griega los siglos XV al XIX y en el moderno período científico C. el conocimiento
geográfico se ha desarrollado más en unas épocas que en otras D. hasta el siglo XV

no se hicieron intentos formales para explicar científicamente las condiciones de los diversos lugares de la Tierra

5. La antropogeografía es la ciencia que estudia: **A B C D**
 A. la aparición del hombre sobre la Tierra B. la influencia del medio geográfico en el hombre y sus formas de vida C. los grandes viajes exploradores D. las teorías del filósofo Kant

PASAJE 7

Las guerras de independencia de América del Sur terminaron con la rendición del pequeño ejército español que defendía El Callao (cerca de Lima), el 23 de enero de 1826.

Sin embargo, durante algunos años, España se negó a reconocer la legitimidad o la existencia de las nuevas naciones americanas. La primera en ser reconocida fue México en 1839; y la última, Honduras en 1895.

En contraste con lo que había sucedido en las colonias inglesas de Norteamérica, Hispanoamérica no se asoció en una confederación de estados o algo parecido. Cuando se terminaron las guerras de separación, las antiguas colonias españolas quedaron divididas así: lo que había sido el virreinato de Nueva España se transformó en México y las Provincias Unidas de Centroamérica. En Sudamérica apareció la Gran Colombia, que comprendía Venezuela, Ecuador y Colombia. Más al Sur, tres nuevos países: Perú, Bolivia y Chile. El virreinato de La Plata se descompuso en las Provincias Unidas y Paraguay. Uruguay quedó por unos años incorporado al Brasil, y Santo Domingo a Haití, que se había independizado de Francia. Cuba permaneció fiel a España, junto con Puerto Rico, hasta 1898.

Pasados unos años, se transformaron en los veinte países que son hoy, siendo el último Panamá, cuando la construcción del canal, en 1903. En todo este proceso no faltaron guerras de los diversos países entre sí, casi siempre debidas a problemas de fronteras. Muchos de estos conflictos no han desaparecido todavía, y con frecuencia son aprovechados por los políticos cuando quieren alcanzar popularidad dentro de su propio país, excitando el espíritu nacionalista, innato en el alma de todos los pueblos.

1. La intención general de este párrafo es: **A B C D**
 A. justificar que Hispanoamérica no se asocie en una confederación de estados. B. proporcionar una idea general de la situación política de Sudamérica, tras su independencia C. demostrar que los países tienen siempre problemas fronterizos D. destacar el papel de Norteamérica en las guerras de independencia de América del Sur
2. La posición de España con relación a las nuevas naciones americanas fue la siguiente: **A B C D**
 A. jamás reconoció su legitimidad o existencia B. aceptó su existencia y legitimidad a partir de la derrota de El Callao, en enero de 1826 C. comenzó a reconocerla únicamente a México y Honduras
3. Tras su independencia, la Gran Colombia quedó formado por los que hoy son los estados: **A B C D E**
 A. Paraguay, Uruguay y Brasil B. Perú, Bolivia y Chile C. México y los países centroamericanos D. Exclusivamente Colombia E. Venezuela y Ecuador.
4. El último país en obtener su independencia fue:

- A. Cuba, en 1898 B. Panamá, en 1903 C. el virreinato de La Plata
 D. Colombia, en 1839 E. Honduras, en 1895
5. La independencia hispanoamericana tuvo lugar: **A B C D E**
 A. durante la primera mitad del siglo XIX B. durante la segunda mitad del siglo XIX C. a principios de este siglo D. en 1939 E. en 1839

PASAJE 8

En 1799 un oficial del ejército francés fue designado a una pequeña fortaleza cerca de Alejandría junto al río Rosetta, una de las desembocaduras del Nilo en Egipto. A él le atraían las ruinas de la antigua civilización de Egipto; había visto la Esfinge y las pirámides, misteriosas estructuras levantadas por hombres de otras edades. Un día, mientras excavaban una trinchera, encontró, no sin asombro, una pizarra en la que había letras cortadas que él podía leer. El había estudiado griego en la escuela y sabía que esta inscripción estaba escrita en griego. Junto con las letras griegas había una inscripción con caracteres egipcios como los encontrados en otras ruinas, pero en dos alfabetos distintos.

Pensando sobre el hallazgo, se dijo: "Si cada línea dice lo mismo en distintas lenguas, sabiendo lo que dice en griego, se podrá saber el significado de los otros caracteres". Con esta idea presentó la lápida a unos expertos egiptólogos que intentaban descifrar grabados egipcios.

En 1802 un profesor francés llamado Champollión comenzó a trabajar en la inscripción, ayudándose con la traducción griega. Su trabajo duró unos 20 años. Otros expertos trabajaron por un año o dos y desistieron, pero él perseveró y a los 20 años anunció los resultados de su investigación en aquella lápida. En 1823 anunció al mundo de los expertos que había descubierto el significado de 14 signos y con ellos, el secreto de la escritura egipcia. Una lápida descubierta por una persona desconocida y el estudio perseverante de un investigador abrieron el secreto de unas escrituras de cinco mil años de antigüedad.

1. El título que expresa mejor la idea contenida en este pasaje es: **A B C D E**
 A. valor de un oficial francés B. la vida de Champollión C. ventajas de estudiar el griego D. la historia de la piedra Rosetta E. Escritos de los antiguos egipcios
2. La piedra Rosetta deriva su nombre de: **A B C D E**
 A. el hombre que la encontró B. su tamaño y forma C. el lugar junto al cual fue encontrada D. la persona que encontró la inscripción E. su color
3. Parece ser que el descubridor de la piedra: **A B C D E**
 A. permaneció más de veinte años en Egipto B. gustaba de abrir zanjas C. tenía dominio de más de una lengua D. gustaba de los acertijos E. podía hablar inglés
4. El autor sugiere que Champollión descubrió el sentido de las inscripciones debido: **A B C D E**
 A. a que conocía más griego que otros sabios B. al uso del trabajo con otros lingüistas C. a que estaba más interesado en civilizaciones antiguas que otros investigadores D. a que no se cansó tan pronto como los demás investigadores E. a que tenía más tiempo libre que los demás
5. Las inscripciones en la piedra se consideraron importantes: **A B C D E**
 A. porque daban las razones por las que se habían construido las pirámides B. debido a que dieron trabajo a Champollión por veinte años C. pues demostraban la importancia de aprender griego D. porque proveían de una clave para descifrar el significado de otras inscripciones antiguas E. porque probaron que era un

- hecho glorioso el excavar zanjas
6. Las inscripciones en la piedra estaban escritas: **A B C D E**
 A. todas en la misma lengua B. todas en lenguajes desconocidos C. en francés, en griego y en un lenguaje desconocido D. en francés y en dos lenguajes desconocidos E. en griego y en dos lenguajes desconocidos

PASAJE 9

Barrow es el punto más septentrional de América. Penetra muchos grados de meridiano hacia el Polo Norte. En todos los continentes sólo el Tcheliuskine asiático estira más su cuello rocoso hacia el Septentrión.

Cabo de Hornos es la punta austral de todos los continentes. Ninguna otra masa emergida de la Tierra avanza más hacia el Polo Sur. Los espacios habituales, las masas continentales terminan en el Cabo de Hornos. Realmente por allí el mundo se acaba. Y se acaba en punta, como son a menudo las terminaciones. La costa chilena, rota, retorcida, llena de resquebrajaduras, por el lado occidental, y la costa argentina, por Oriente, más ecuánime en su tectónica, pero igualmente desolada, limitan la extremidad austral americana: la más austral de todos los continentes. Europa y Asia se sitúan en el Hemisferio Norte del planeta Australia y gran parte de África se encuentran en el Hemisferio Sur. Pero América, desde Barrow a Hornos, desparrama la forma de dos arosos triángulos, unidos por el angosto rosario volcánico del centro, a ambos lados del Ecuador.

El nuevo continente aparece ante el espíritu del estudioso de América como idea de sencillez geográfica inapelable. Pero esta sencillez está formada por piezas ciclópeas.

La enormidad americana admite en su ámbito la selva mayor del mundo, en Brasil y países próximos; el río más caudaloso de la Tierra, el colosal Amazonas; la cordillera más continuada sin interrupción, los Andes sudamericanos; las cataratas más elevadas del planeta, en los altos del Angel (Venezuela) y Tequendama (Colombia); las más bellas, en el Iguazú; la más tremenda colección de volcanes que pueda concebirse; las zonas de fósiles gigantescos y terrenos más antiguos, en las Godwanidas y Patagonia del Sur; la completa y enorme geografía de Chile; las masas de hielos mayores, después de las Polares, en Alaska-Canadá y en los Andes Patagónicos.

La sencillez geográfica de América se forma de elementos complejísimo. Se puede hablar de estructura sencilla en la joven cordillera andina, porque lo mismo es 2.000 kilómetros más al Sur que al Norte. Podemos decir que la monotonía del inmenso Amazonas es la Belém, 4.000 kilómetros aguas abajo. Sigue su selva, igualmente hostil, húmeda y caliginosa: homicida como la llamó J. Eustasio Rivera, lo mismo en un punto que en otro a gran distancia.

- La intención del autor en los dos primeros párrafos es destacar que: **A B C D E**
 A. la superficie emergida de la Tierra se reparte en cinco continentes B. Tcheliuskine es el punto más septentrional de la Tierra C. América se extiende ampliamente en ambos hemisferios D. América acaba "en punta" E. América se extiende ampliamente en ambos hemisferios
- La expresión "más ecuánime en su tectónica" significa: **A B C D**
 A. de aspecto más pintoresco B. más rica en productos minerales C. más escarpada e inaccesible D. de estructura más homogénea
- En el texto se alude a la "sencillez geográfica de América" refiriéndose a que este continente: **A B C D**
 A. está formado principalmente por dos grandes extensiones de tierra de forma

- triangular B. está formado por grandes regiones naturales bien definidas C. está perfectamente estudiado y conocido D. posee los terrenos más antiguos de la Tierra
4. El Iguazú es notable por sus: **A B C D**
 A. grandes volcanes B. hermosas cataratas C. altas montañas D. extensas regiones selváticas
5. ¿Cuál de entre los lugares siguientes no está situado en el continente americano? **A B C D E**
 A. Tequendama B. Cabo de Hornos C. Tcheliuskine D. Belem E. Barrow **A B C D E**

PASAJE 10


Entre los cambios revolucionarios sociales que han tenido lugar en el mundo durante los últimos cincuenta años, ninguno es más extendido que el estado de la mujer en la sociedad. De país en país, las mujeres van ganando el derecho de votar, el de ser empleadas en cualquier clase de ocupación, el de tener oportunidades educacionales al mismo nivel que los hombres.

Sin embargo, en la gran mayoría de países menos desarrollados o en vías de desarrollo, el papel que juega la mujer tiene todavía muchas cortapisas y sus derechos permanecen aún muy restringidos. El considerar de qué modo y en qué forma la función de la mujer en la sociedad puede equipararse a la del hombre, conduce a problemas complejos y multifacéticos.

Si la mujer pertenece a la población activa, su ocupación específica depende, solamente en parte, del interjuego de las fuerzas económicas. De hecho, los factores culturales y sociales son mucho más decisivos. Estos factores influyen no solamente la idea que el hombre y la mujer tienen acerca de sus papeles respectivos en la sociedad, sino también la división tradicional del mercado del trabajo en sectores masculino y femenino y las iniciativas de la mujer al buscar un puesto dentro de la población activa de un país. Cualquier cuestión relacionada con la participación de la mujer en el mundo económico-laboral origina desacuerdo y animosidad. De allí que en uno de los problemas del planeador económico —la utilización óptima de los recursos disponibles— no puedan dejarse a un lado consideraciones no económicas que suelen llamarse "condicionantes" del problema. Es indudable que las condiciones sociales que se presentan al tratar el papel de la mujer en la esfera económica son de tal envergadura que obstaculizan un estudio serio del mismo. Si se trata del crecimiento económico de las naciones en vías de desarrollo, la capacidad de producción de la mujer, dentro del mercado de trabajo, es de gran importancia y en modo alguno puede olvidarse.

- El título más apropiado a este pasaje es: **A B C D E**
 A. la emancipación de la mujer B. importancia de la mujer al estudiar problemas de desarrollo C. la Liga por las libertades femeninas D. los derechos sociales de la mujer E. la mujer en el mundo
- Según el autor, las mujeres: **A B C D E**
 A. han ganado el derecho de votar en muy pocos países B. nunca han sabido defender sus derechos C. nunca ni en ningún sitio tienen las mismas oportunidades que los hombres D. poco a poco van ganando el derecho a votar y otras clases de derechos E. harían mejor si se quedaran en casa
- En los países en vías de desarrollo: **A B C D E**
 A. la mujer tiene exactamente los mismos derechos que el hombre B. el avance de

- la mujer con respecto a sus derechos es muy lento C. la mujer no tiene función ninguna en la sociedad pública D. las responsabilidades de la mujer son muy amplias E. nadie se preocupa de los derechos femeninos
4. La ocupación o empleo particular de una mujer: A B C D E
 A. depende solamente de la situación económica de un país B. lo deciden siempre sus padres o su esposo C. es función tanto de factores económicos como de hechos culturales y sociales D. depende solamente de factores culturales y sociales E. lo decide siempre el Estado
5. Una cuestión en la que los criterios no suelen coincidir: A B C D E
 A. es la cuestión social B. es la solución a problemas que podrían provenir de la emancipación de la mujer C. es el asunto de la participación de la mujer en el mundo económico y en el mundo del trabajo D. es la del derecho a votar de la mujer E. es la de los derechos civiles de la mujer



1. Según el gráfico precedente el número de personal militar estadounidense en Vietnam del Sur: A B C D E
 A. nunca llegó a los 700.000 B. era de 200.000 al comenzar el mandato del presidente Johnson C. se reducirá a cero en 1972 D. aumentó considerablemente a partir de 1963 E. se redujo bajo el mandato del Presidente Johnson
2. El período de mayor incremento de tropas: A B C D E
 A. tuvo lugar entre 1961 y 1964 B. se inicia a partir de las conversaciones de París C. principia casi inmediatamente después de comenzados los bombardeos de Vietnam del Norte D. termina con el comienzo del mandato del Presidente Johnson E. se observa después de la entrada de tropas norteamericanas en Camboya
3. Según los datos suministrados por esta gráfica el número de hombres envueltos en las operaciones militares de Vietnam del Sur de 1961 a 1970: A B C D E
 A. tiende a aumentar B. permanece estable C. no muestra tendencia alguna definitiva D. tiende a disminuir E. ninguna A-D

4. A "ojo de buen cubero" se puede deducir de esta gráfica que los Estados Unidos: A B C D E
 A. no han tenido soldados en Vietnam del Sur B. han mantenido un promedio de unos 300.000 hombres en Vietnam del Sur durante un período de 10 años C. mantuvieron un ejército de más de 500.000 hombres en Vietnam del Sur durante muchos años D. han continuado incrementando la guerra a partir del comienzo del mandato del Presidente Nixon E. mantuvieron el máximo de tropas en Vietnam del Sur durante el mandato del Presidente Johnson
5. La resolución del golfo de Tonkin: A B C D E
 A. no repercutió en el número de soldados estadounidenses enviados a Vietnam del Sur B. parece ser de importancia capital en el incremento considerable de tropas norteamericanas en el Vietnam del Sur C. tuvo lugar durante el mandato del Presidente Nixon D. es posterior al comienzo del bombardeo del Vietnam del Norte E. es resultado de la incursión en Cambodia

PASAJE 12

El remedio aparentemente más obvio para la espiral de los precios y salarios consiste en que la autoridad pública regule unos y otros. Durante la Segunda Guerra Mundial y la guerra de Corea, la demanda presionó intensamente en los Estados Unidos sobre la capacidad de la fuerza de trabajo y sobre la capacidad de las instalaciones industriales. Durante ambos conflictos el control contuvo con éxito la espiral de precios y salarios.

Pero esa experiencia no se tomó suficientemente en serio. Se supuso que la guerra había originado de algún modo condiciones nuevas, que hacían indispensable el uso de esas medidas. Todos los grupos interesados e influyentes tenían una tradición tenaz de resistencia a los controles. En pocas cuestiones han ido tan unidos ideológicamente los patronos, los sindicatos y los economistas profesionales como en la oposición a la regulación de los precios y los salarios.

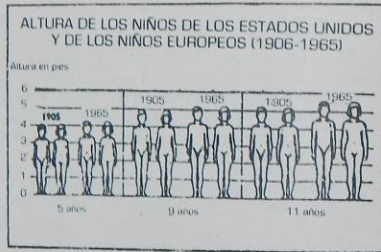
Para los patronos el control de los precios no puede tener más objetivo que reducir los beneficios. Todo control en esta materia es una amenaza a la autonomía de la tecnoestructura. Más aun, la mística de la libertad—que incluye el principio de la libertad de ganar dinero—defendía enérgicamente el principio del mercado libre.

Para los sindicatos, toda regulación de salarios más allá de la fijación de un salario mínimo era un apoyo a la finalidad de la empresa de mantener salarios bajos. Y para los economistas profesionales, que basan su discurso técnico en unos mercados con precios sin manipular y en los cuales los productores intentan obtener el máximo de beneficios, la teoría económica se reducía al nivel de la ciencia política.

1. La regulación de precios y salarios es un remedio: A B C D E
 A. absolutamente necesario B. que parece ser el más natural C. que no debe usarse nunca D. que debería usarse solamente en última instancia E. que gusta a todo el mundo
2. Durante la guerra de Corea las instalaciones industriales de los Estados Unidos: A B C D E
 A. se utilizaron hasta el máximo B. no sabían qué producir C. tuvieron pocos pedidos D. no se utilizaron nunca
3. ¿Por qué no se aceptaron los controles de precios y salarios después de la guerra? A B C D E
 A. porque no habían tenido éxito B. por razones políticas C. porque no estaban de acuerdo con la tradición de grupos interesados e influyentes D. porque

todo el mundo estaba en contra de los economistas profesionales

4. Las ideas de patronos, sindicatos y economistas profesionales: A B C D
 A. son siempre las mismas B. coinciden pocas veces C. difieren siempre
 D. son dictadas por el Gobierno
5. Según los grupos interesados, ¿quién se beneficia con un control de precios y salarios? A B C D E
 A. los sindicatos B. nadie C. los economistas profesionales D. los patronos E. todo el mundo
6. Para los sindicatos la regulación de salarios: A B C D
 A. es beneficiosa B. no debería ir más allá de la fijación de un salario mínimo
 C. debería limitarse a algunas empresas D. es causa del bienestar del obrero



De acuerdo con esta gráfica:

- A B C D
 A. la altura de los niños europeos y norteamericanos no ha cambiado durante un periodo de 60 años B. los niños de once años tenían en 1965 la misma altura que tenían en 1905 C. la altura de los niños de 5, 9 y 11 años ha aumentado en el espacio de 60 años D. la altura de los niños de cinco años no ha cambiado

Esta gráfica indica:

- A B C D
 A. que los niños en distintas edades son siempre mucho más altos que las niñas B. que no hay diferencia apreciable de altura entre niños y niñas C. que en 1965 los niños tenían seis pies de altura mientras que las niñas solamente tenían cinco pies de altura D. que las niñas son siempre más altas que los niños

En esta gráfica se observa:

- A B C D
 A. una relación directa entre la edad y la altura durante el periodo comprendido B. que no hay relación entre edad y altura C. una relación indirecta entre la edad y la altura durante el periodo comprendido y dentro de las edades indicadas D. que el sexo tiene una influencia decisiva en la altura

Según esta gráfica desde 1905 a 1965:

- A B C D
 A. la altura de los niños de ambos sexos creció más de un pie B. nunca llegó a crecer más de medio pie la altura de los niños de ambos sexos C. los niños de seis años no crecieron en altura media D. la altura de la cabeza de los niños de cinco años creció hasta la altura de los hombros de los niños de 11 años.

PASAJE 14

En los Estados Unidos, según información de la Oficina Nacional del Censo, hay 9,200,000 americanos —o sea el 5 por 100— que manifiestan preceder de países de habla hispánica. Este número hacen que sean considerados como la segunda entre las minorías más numerosas de América.

Los mismos datos proporcionados por el Censo sugieren que las familias de origen hispánico tienen unos ingresos medios anuales de \$5,600, es decir, algo más de dos tercios de los ingresos medios anuales por familia para toda la nación. El desempleo entre las familias de origen hispánico es casi el doble del promedio anual.

Para un 70 por 100 de las familias de origen hispano, el español es la lengua madre, y un 50 por 100 habla todavía español por lo menos dentro de la familia.

De los 9.2 millones, más de 5 millones son de origen mejicano —o "chicanos". Los puertorriqueños son 1.45 millones y los cubanos 565,000. El resto proviene de naciones de Centro y Suramérica.

El censo de 1970 introdujo por primera vez la categoría "de origen hispano" como uno de los criterios de propia identificación, es decir, que las personas incluidas en el censo debían declarar si se consideraban o no de origen hispano. Los censos anteriores, por el contrario usaban el lugar de nacimiento de los padres o el "apellido español" como criterio para obtener cifras acerca de la población de origen hispano. Este método era bastante inexacto.

Sin embargo, los datos publicados por el último censo han sido criticados como excesivamente moderados por los líderes de la población hispana. Antonio Rodríguez, director ejecutivo del Comité Presidencial para los problemas de la población de habla hispana, indicó que dicha población llega por lo menos a 12,000,000 de habitantes.

Las personas de origen hispano de más de 35 años de edad tienen un promedio de 8.5 años de educación escolar. Este promedio es inferior al promedio de 12 años que corresponde al resto de la población norteamericana. Sin embargo, el promedio sube a casi 12 años cuando se considera el grupo hispano comprendido entre los 25 y los 34 años de edad.

Es interesante notar que la mitad de los habitantes de los Estados Unidos que hablan una lengua distinta del inglés, hablan el español y que el promedio de edad de las personas que se consideran de origen hispano es de 20 años, en contraste con un promedio de 28 años para toda la población.

- Los datos del censo de 1970 con respecto a la población que se considera de origen hispánico en los Estados Unidos: A B C D
 A. han sido aceptados por todo el mundo B. han sido criticados por los líderes hispanos C. se basaron en el lugar de origen de los padres D. se basaron en los apellidos
- Los ingresos medios anuales de las familias de origen hispánico: A B C D
 A. son iguales a los ingresos medios de las familias del país B. no se consideran en el censo C. no llegan a los \$6,000 D. son menos de la mitad de los ingresos medios de las familias del país
- Según el censo a que se refiere el artículo, el número de personas que se considera de origen hispánico: A B C D
 A. es de 12,000,000 de personas B. comprende solamente a los puertorriqueños y cubanos C. alcanza casi los 9.5 millones de habitantes D. proviene, en su mayoría, de Centro y Sudamérica

4. El número de años de educación escolar correspondiente a las personas que se consideran de origen hispánico: **A B C D**
 A. es igual al promedio correspondiente a toda la población americana **B.** mejora sustancialmente cuando se considera la población hispánica comprendida entre los 25 y 34 años de edad **C.** no llega ni siquiera a los 6 años **D.** tiende a disminuir en las poblaciones del Este americano
5. Las afirmaciones siguientes son verdaderas, excepto: **A B C D**
 A. la mitad de los habitantes de los Estados Unidos hablan español **B.** la mitad de los habitantes de los Estados Unidos que hablan una lengua distinta del inglés hablan el español **C.** la mitad de los habitantes de los Estados Unidos se consideran de origen hispano, tiene menos de 20 años **D.** de la mitad de los habitantes de Estados Unidos, tienen menos de 28 años

PASAJE 15

En el marco de la dinámica social existen dos tipos de violencia que se contraponen. La violencia de los defensores del sistema establecido —violencia represiva—, y la violencia de los pobres y oprimidos por hacer variar la situación en que se encuentran, violencia liberadora. Evidentemente que no pueden situarse en el mismo plano uno y otro tipo de violencia, y que cada una de ellas ha de tener un muy distinto calificativo moral.

Hay a lo largo de la historia una violencia silenciada, más o menos "camuflada", sin escándalo, que destroza simultáneamente a millones de hombres mediante los mecanismos más o menos suaves, del orden establecido, mediante la explotación del hombre por el hombre, sea la esclavitud la servidumbre o el asalariado. A veces adopta formas represivas menos sutiles, más directas, aunque siempre discretamente silenciadas por los órganos de difusión pública. El "terror blanco" ha tenido siempre muy poca prensa, y, sin embargo siempre ha sido tremendamente eficaz. En cambio, la otra violencia, la liberadora, suena más porque salta esporádicamente y porque adopta la forma tumultuosa de algarada, guerrilla, sublevación popular, etc., o sea, formas altamente de artificio, que impresionan mucho a la sencilla conciencia de la "buena gente".

Estas violencias están ahí, presentes, cada día en la dinámica social. Y no existe, en realidad, la posibilidad de escoger entre violencia y no violencia, sino que la única opción decidirse por uno de entre los tipos de violencia que se enfrentan. Escoger en principio la no violencia es abstracto, idealista, fuera del mundo, imposible. Únicamente en el "reino de los principios" puede hacerse. Hay que decidir, en definitiva, entre violencia liberadora o violencia represiva.

1. El autor de este pasaje mantiene: **A B C D**
 A. que es posible escoger entre la violencia y la no-violencia **B.** que no hay alternativa posible y real a la violencia **C.** que solamente hay una clase de violencia **D.** que toda violencia es liberadora
2. Según este pasaje, las siguientes afirmaciones son verdaderas excepto: **A B C D**
 A. que hay dos clases de violencia **B.** que el régimen de asalariado es violento **C.** que el orden establecido a veces implica violencia **D.** que la violencia siempre es tumultuosa y callejera
3. "Terror blanco" significa: **A B C D**
 A. violencia liberadora **B.** una alternativa pacífica a la violencia **C.** violencia opresora **D.** un ideal que sólo existe en el reino de los principios
4. Este texto implica: **A B C D**
 A. que, de hecho, no se puede salir de una situación violenta sin violencia

- B.** que es posible salir de una situación violenta por medios pacíficos **C.** que nunca se debe recurrir a la violencia **D.** que la esclavitud es la única forma de violencia
5. Los sistemas establecidos: **A B C D E**
 A. son siempre formas pacíficas de gobierno **B.** se mantienen, a veces, mediante violencia camuflada **C.** deben siempre mantenerse con violencia represiva **D.** mantienen una violencia represiva ineficaz **E.** nunca tienen el apoyo de los órganos de difusión pública

TEST - ESTUDIOS SOCIALES

HISTORIA

Escoja la mejor respuesta para cada una de las siguientes preguntas.

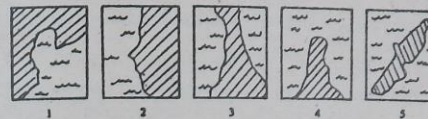
1. El descubrimiento de América fue en el año: **1 2 3 4 5**
 1. 1489 2. 1511 3. 1490 4. 1492 5. 1493
2. El primer viaje oceánico de la Tierra fue dirigido por: **1 2 3 4 5**
 1. Colón 2. Magallanes 3. Núñez de Balboa 4. Vasco de Gama
 5. Marco Polo
3. ¿Cuál de éstos países no tuvo colonias en América? **1 2 3 4 5**
 1. Francia 2. Suecia 3. Portugal 4. Holanda 5. Italia
4. ¿Cuál de éstos no fue un motivo que animaba a los conquistadores en sus hazañas? **1 2 3 4 5**
 1. el espíritu religioso 2. el deseo de establecer relaciones culturales con otros pueblos 3. la esperanza de fortunas fabulosas 4. el deseo de gloria y mejora social 5. el anhelo de aventura
5. ¿Cuál de estas civilizaciones es la más antigua? **1 2 3 4 5**
 1. la azteca 2. la romana 3. la griega 4. la egipcia 5. la vikinga
6. Después de los Estados Unidos, el primer país de América que obtuvo su independencia fue: **1 2 3 4 5**
 1. Venezuela 2. Argentina 3. Cuba 4. Chile 5. Haití
7. El primer documento que garantizó algunos derechos fundamentales democráticos a un pueblo fue: **1 2 3 4 5**
 1. la Constitución estadounidense 2. la Declaración de Independencia 3. la Carta Magna 4. el acta de la Confederación de las Provincias Unidas de Nueva Granada 5. la Declaración de los Derechos del Hombre
8. ¿Cuál de éstos no fue uno de los resultados inmediatos de la guerra hispano-americana? **1 2 3 4 5**
 1. el establecimiento de la República de Cuba 2. las Islas Filipinas pasaron al dominio de los Estados Unidos 3. Puerto Rico pasó al dominio de los EE.UU. 4. los Estados Unidos establecieron la base naval de Guantánamo 5. se libertaron todos los esclavos de Cuba y Puerto Rico
9. El primer gobierno comunista fue establecido en: **1 2 3 4 5**
 1. China 2. Rusia 3. Francia 4. Yugoslavia 5. Checoslovaquia

10. ¿Cuál de éstos no fue un resultado de la Primera Guerra Mundial? 1 2 3 4 5
 1. el Zar ruso fue destronado 2. la formación de la Liga de las Naciones
 3. la pérdida de las colonias inglesas 4. la pérdida de territorio por Alemania
 5. la muerte de más de diez millones de soldados
11. Al comienzo del siglo XX, las comunicaciones marítimas entre los océanos Atlántico y Pacífico se simplificaron drásticamente por: 1 2 3 4 5
 1. el fin de la Primera Guerra Mundial 2. la construcción de la carretera Pan Americana 3. el invento del avión 4. el establecimiento de gobiernos más estables en varios países latinoamericanos 5. la construcción del Canal de Panamá
12. El tipo de gobierno que ha sido más común en la América Latina es: 1 2 3 4 5
 1. la monarquía 2. la federación 3. la democracia parlamentaria 4. la dictadura 5. el socialismo
13. El líder norteamericano que luchó al mando del Ejército Continental contra Inglaterra y fue el primer presidente de los Estados Unidos de América se llamó: 1 2 3 4 5
 1. Tomás Jefferson 2. Benjamin Franklin 3. Jorge Washington 4. Abraham Lincoln 5. Theodore Roosevelt
14. Casi una tercera parte del territorio continental de los Estados Unidos fue adquirido como resultado de guerras con: 1 2 3 4 5
 1. el Canadá 2. Francia 3. México 4. el Japón 5. España
15. El término Iberoamérica incluye a todos éstos excepto: 1 2 3 4 5
 1. Puerto Rico 2. Jamaica 3. Brasil 4. Argentina 5. México
16. Todos los siguientes han contribuido al progreso de la democracia y la paz en nuestra era EXCEPTO: 1 2 3 4 5
 1. los adelantos científicos que cada día mejoran nuestras vidas 2. el hecho de que ha terminado casi todo el colonialismo en el mundo 3. la política del "detente" 4. el sufragio de las mujeres 5. los gobiernos donde una pequeña minoría tiene acceso exclusivo al poder

GEOGRAFIA

Escoja la mejor respuesta para cada una de las siguientes preguntas.

17. ¿Cuál de estos NO pertenece con los demás? 1 2 3 4 5
 1. el Pacífico 2. el Artico 3. el Atlántico 4. el Caribe 5. el Indico
18. Todas las siguientes son capitales EXCEPTO: 1 2 3 4 5
 1. Nueva York 2. Caracas 3. Tegucigalpa 4. Londres 5. Pekín
19. El río más caudaloso del mundo es: 1 2 3 4 5
 1. el Nilo 2. el Ganges 3. el Amazonas 4. el Rin 5. el Mississippi
20. El término que se refiere al número de habitantes por unidad de superficie (kilómetro cuadrado o milla cuadrada) es: 1 2 3 4 5
 1. población 2. intensidad 3. potencia 4. escala 5. densidad
21. La cordillera que separa a la India de China tiene el nombre de: 1 2 3 4 5
 1. la cordillera de los Pirineos 2. los Montes Apalaches 3. la cordillera de Himalaya 4. la cordillera de los Alpes 5. los Montes Urales
22. ¿Cuál de estas ilustraciones representa una península? 1 2 3 4 5



23. El iglú es un tipo de vivienda ideal para las regiones donde se utiliza porque: 1 2 3 4 5
 1. ofrece la mayor protección posible contra los elementos 2. está hecho de un material abundante allí 3. la cultura de los habitantes de esa región está subdesarrollada 4. proporciona un camuflaje ideal 5. se puede construir por cualquier persona en pocos minutos
24. ¿Para cuál de estos climas está un animal como el caballo *menos* adaptado? 1 2 3 4 5
 1. clima continental 2. clima monzónico 3. clima tropical 4. clima ártico 5. clima mediterráneo

CIENCIAS POLITICAS

Escoja la mejor respuesta para cada una de las siguientes preguntas.

25. ¿Cuál de estos países tiene un gobierno de tipo monarquía constitucional? 1 2 3 4 5
 1. Francia 2. Inglaterra 3. México 4. Arabia Saudita 5. China
26. Un gobierno en el cual la voluntad de un solo hombre es la suprema ley se llama: 1 2 3 4 5
 1. dictadura 2. comunismo 3. socialista 4. autocracia 5. oligarquía
27. La rama de un gobierno que hace observar las leyes y gobierna se llama: 1 2 3 4 5
 1. legislativa 2. ejecutiva 3. judicial 4. burocrática 5. constitucional
28. La relación entre Puerto Rico y los Estados Unidos es de: 1 2 3 4 5
 1. república 2. estado 3. independencia 4. territorio 5. estado libre asociado
29. Una organización constituida después de la Segunda Guerra Mundial con el propósito de resolver pacíficamente conflictos internacionales es: 1 2 3 4 5
 1. el Partido Demócrata 2. el Mercado Común Europeo 3. el Pacto de Defensa del Atlántico Norte 4. las Naciones Unidas 5. la Alianza para el Progreso
30. El conjunto de leyes fundamentales que establece la forma de gobierno de una nación se nombre: 1 2 3 4 5
 1. constitución 2. código 3. plataforma 4. legislatura 5. costumbres
31. ¿Cuál de los siguientes es un ejemplo de algo que SOLO existe u ocurre en un país comunista? 1 2 3 4 5
 1. sólo hay un partido político 2. la prensa es controlada por el gobierno 3. la atención médica y la medicina se consideran un derecho básico de todo ciudadano 4. el derecho de propiedad privada no existe 5. hay grandes programas de gobierno con el fin de eliminar el analfabetismo.

32. Un país formado de varios estados, donde cada uno tiene leyes propias y soberanía excepto en ciertos casos cuando están sujetos a un gobierno central, se nombra: 1 2 3 4 5
1. república 2. federación 3. monarquía 4. soviét 5. provincial
33. Una asociación voluntaria con el propósito de adquirir legalmente el poder político a través de la adquisición por sus miembros de cargos públicos es: 1 2 3 4 5
1. un partido 2. una junta 3. una alianza 4. una cuota 5. un directorio
34. Un territorio situado fuera de una nación que queda sometido a la influencia política, económica y social de ésta se nombra: 1 2 3 4 5
1. estado 2. provincia 3. comarca 4. colonia 5. sucursal
35. El cambio drástico en las instituciones políticas de una nación se llama: 1 2 3 4 5
1. revolución 2. independencia 3. rebeldía 4. elección 5. reforma
36. El término que se refiere a una ciudad junta con sus suburbios es el de: 1 2 3 4 5
1. barrio 2. condado 3. región 4. zona municipal 5. área metropolitana

ECONOMIA

Escoja la mejor respuesta para cada una de las preguntas.

37. Cinco individuos reúnen \$100.000 para comprar un negocio. Cada uno recibe acciones de acuerdo a su contribución. Uno de ellos es nombrado dirigente. Lo que estos individuos han formado es: 1 2 3 4 5
1. una sociedad 2. una asociación 3. un monopolio 4. una corporación o sociedad anónima 5. un directorio
38. Una de las causas principales de la inflación de los precios está en: 1 2 3 4 5
1. el exceso de importación 2. el exceso de exportación 3. una demanda mayor que la oferta 4. una oferta mayor que la demanda 5. los impuestos
39. Una vez que salen de la fábrica, lo más probable es que los productos vayan: 1 2 3 4 5
1. al consumidor 2. al detallista 3. a la exportación 4. a agencias del gobierno para inspección 5. al mayorista
40. Todos los siguientes son resultados beneficiosos de la propaganda comercial, EXCEPTO cuando: 1 2 3 4 5
1. le provee información al consumidor 2. ésta estimula a la demanda 3. estimula a la competencia 4. alientan las compras de impulso 5. le ahorra tiempo al consumidor
41. La moneda oficial de Alemania es: 1 2 3 4 5
1. el marco 2. el yen 3. la libra esterlina 4. la lira 5. el rublo
42. Una forma en que los países protegen a sus industrias contra la competencia extranjera es: 1 2 3 4 5
1. aumentando la exportación 2. a través de derechos de aduana 3. subiendo los precios del producto doméstico 4. prohibiendo los sindicatos obreros 5. cambiando las leyes financieras
43. Los casos de bancarrota son más frecuentes durante tiempos de: 1 2 3 4 5
1. depresión 2. inflación 3. recesión 4. industrialización 5. estancamiento

44. La mayor parte del presupuesto del gobierno de los Estados Unidos se dedica hacia: 1 2 3 4 5
1. el mantenimiento de ingresos o "welfare" 2. la defensa nacional 3. la educación 4. los programas del Seguro Social 5. los beneficios de veteranos
45. ¿Cuál de los siguientes NO es un ejemplo de fraude al consumidor? 1 2 3 4 5
1. se le añaden químicas a la carne ya de muchos días para que parezca fresca 2. en un restaurant el menú dice "mantequilla" pero en vez sirven margarina 3. se anuncia una gran rebaja en un modelo de cámara pero no se indica que las cantidades son limitadas 4. ostiones recogidos en zonas contaminadas se venden en el mercado 5. en la fábrica se le añaden ingredientes artificiales para darle sabor al helado
46. Una persona que gana \$5.000 al año paga \$500 de impuestos, mientras que otra que gana \$10.000 paga \$1.350 al gobierno. Esto es un ejemplo de impuestos: 1 2 3 4 5
1. proporcionales 2. estatales 3. regresivos 4. progresivos 5. indirectos
47. Todos los siguientes son beneficios aportados a los trabajadores por las uniones, EXCEPTO: 1 2 3 4 5
1. la reducción en horas de trabajo 2. las leyes que prohíben huelgas 3. el establecimiento de leyes para el seguro social 4. leyes en contra del trabajo de menores 5. leyes estableciendo salario mínimo
48. Las leyes de algunos estados permiten al consumidor exigir al farmacéutico los equivalentes genéricos a productos de marca que han sido recetados. Esto es debido a que los equivalentes genéricos: 1 2 3 4 5
1. son más baratos y de la misma calidad 2. se pueden comprar sin recetas 3. se preparan más fácilmente 4. son más efectivos 5. son más fáciles de conseguir

SOCIOLOGIA, ANTROPOLOGIA Y PSICOLOGIA

Escoja la mejor respuesta para cada una de las siguientes preguntas.

49. El componente más fundamental de la sociedad es: 1 2 3 4 5
1. el clan 2. la tribu 3. el barrio 4. el grupo 5. la familia
50. El sistema de relaciones sociales que existió en gran parte del mundo durante la Edad Media, basado en las relaciones sociales entre amo y sujeto, se conoció por el nombre de: 1 2 3 4 5
1. socialismo 2. feudalismo 3. utopía 4. esclavitud 5. servidumbre
51. ¿Cuál de los siguientes existe en todas las sociedades del mundo? 1 2 3 4 5
1. gobierno formal 2. escuelas 3. ejércitos 4. religiones 5. leyes escritas
52. ¿Cuál de los siguientes es un dialecto? 1 2 3 4 5
1. el francés 2. el catalán 3. el portugués 4. el inglés 5. el alemán
53. El sistema social establecido en los gobiernos por minorías blancas del Africa del Sur y Rhodesia se conoce por el nombre de: 1 2 3 4 5
1. segregación 2. swahili 3. castas 4. imperialismo 5. apartheid
54. Un joven había hecho planes de ir a la playa con sus amigos un fin de semana. El viernes, su profesor anuncia un examen para el próximo lunes. El joven entonces llama a sus amigos y les deja saber que no los podría acompañar a la playa y que de todas formas le hacía daño tomar demasiado sol. Esto es un ejemplo del proceso psicológico llamado:

- 1 2 3 4 5
1. racionalización 2. motivación 3. represión 4. reacción 4. fantasía
55. En ciertos experimentos médicos, a algunos de los pacientes se les administra pastillas hechas simplemente de azúcar. A los demás se les da la medicina verdadera. Sin embargo, a veces pacientes en el primer grupo también indican alivio de sus síntomas. Esto es un ejemplo de: 1 2 3 4 5
1. la motivación 2. acondicionamiento 3. cura espontánea 4. efecto del placebo 5. adaptación
56. En el Japón, el saludo se hace inclinando el cuerpo o la cabeza. Esto es un ejemplo de: 1 2 3 4 5
1. valores 2. tradición 3. clase 4. ambiente 5. institución
57. La costumbre, aceptada en varias sociedades, de permitir al varón tener varias esposas se llama: 1 2 3 4 5
1. endogamia 2. exogamia 3. poligrafía 4. patriarcado 5. poligamia
58. El grupo minoritario mayor en los Estados Unidos es el de: 1 2 3 4 5
1. los chicanos 2. los judíos 3. los italianos 4. los afroamericanos 5. los puertorriqueños
59. El idioma más hablado en el mundo es: 1 2 3 4 5
1. el inglés 2. el ruso 3. el español 4. el francés 5. el chino
60. El estudio estadístico de las poblaciones del mundo se llama: 1 2 3 4 5
1. sociología 2. antropología 3. demografía 4. poligrafía 5. geografía

RESPUESTAS

III PARTE: ANALOGIAS

61.c	62.b	63.d	64.a	65.b	66.d	67.c	68.b
69.a	70.d	71.e	72.e	73.a	74.c	75.b	76.e
77.b	78.e	79.d	80.e				

ESTUDIOS SOCIALES - HISTORIA

1.(4)	2.(2)	3.(5)	4.(2)	5.(4)	6.(2)	7.(3)	8.(5)
9.(2)	10.(3)	11.(5)	12.(4)	13.(3)	14.(3)	15.(2)	16.(5)

GEOGRAFIA

17.(2)	18.(1)	19.(3)	20.(5)	21.(3)	22.(1)	23.(4)	24.(4)
--------	--------	--------	--------	--------	--------	--------	--------

CIENCIAS POLITICAS

25.(2)	26.(4)	27.(2)	28.(5)	29.(4)	30.(1)	31.(1)	32.(2)
33.(1)	34.(4)	35.(1)	36.(5)				

CIENCIAS POLITICAS

25.(2)							
37.(4)	38.(3)	39.(5)	40.(4)	41.(1)	42.(2)	43.(1)	44.(2)
45.(3)	46.(1)	47.(2)					

SOCIOLOGIA, ANTROPOLOGIA Y PSICOLOGIA:

Pasaje 1

1.B	2.B	3.A	4.C	5.B			
49.(5)	50.(2)	51.(4)	52.(2)	53.(5)	54.(1)	55.(2)	56.(2)
57.(5)	58.(2)	59.(1)	60.(3)				

Pasaje 2

1.B	2.C	3.C	4.A	5.C
-----	-----	-----	-----	-----

Pasaje 3

1.B	2.C	3.C	4.A	5.C
-----	-----	-----	-----	-----

Pasaje 4

1.(C)	2.(B)	3.(D)	4.(B)	5.(B)
-------	-------	-------	-------	-------

Pasaje 5

1.C	2.B	3.D	4.E	5.B
-----	-----	-----	-----	-----

Pasaje 6

1.C	2.B	3.C	4.D	5.B
-----	-----	-----	-----	-----

Pasaje 7

1.B	2.C	3.E	4.B	5.A
-----	-----	-----	-----	-----

Pasaje 8

1.E	2.C	3.A	4.A	5.D	6.E
-----	-----	-----	-----	-----	-----

Pasaje 9

1.C 2.A 3.C 4.B 5.C

Pasaje 10

1.E 2.D 3.B 4.C 5.C

Pasaje 11

1.A 2.B 3.D 4.B 5.B

Pasaje 12

1.D 2.A 3.C 4.B 5.B 6.B

Pasaje 13

1.C 2.B 3.A 4.D

Pasaje 14

1.B 2.C 3.A 4.B 5.A

Pasaje 15

1.B 2.D 3.C 4.A 5.B

PRUEBAS DE INGRESO A LA UNIVERSIDAD

- 1- PRUEBAS DE MATEMATICAS
- 2- PRUEBAS DE FISICA
- 3- PRUEBAS DE BIOLOGIA
- 4- PRUEBA DE QUIMICA
- 5- PRUEBAS DE APTITUD VERBAL
- 6- PRUEBAS DE ESPAÑOL Y LITERATURA
- 7- PRUEBAS DE ESTUDIOS SOCIALES Y FILOSOFIA
- 8- PRUEBAS DE RAZONAMIENTO ABSTRACTO
- 9- INGRESO A LAS FACULTADES DE MEDICINA

TABLAS

RESUMEN Y RESASO INSTANTANEO DE LAS MATERIAS DEL BACHILLERATO

- | | |
|-----------------------|--------------------------|
| 1 TRIGONOMETRIA | 19 QUIMICA 1 |
| 2 CALCULO DIFERENCIAL | 20 QUIMICA 2 |
| 3 CALCULO INTEGRAL | |
| 4 GEOMETRIA | 21 BIOLOGIA 1 |
| 5 GEOMETRIA ANALITICA | 22 BIOLOGIA 2 |
| 6 ANATOMIA 1 | 23 ALGEBRA ELEMENTAL |
| 7 ANATOMIA 2 | |
| 8 ANATOMIA 3 | 24 ALGEBRA 1 |
| 9 ANATOMIA 4 | 25 ALGEBRA 2 |
| 10 ENGLISH GRAMMAR | |
| 11 BASIC PUNCTUATION | 26 ALGEBRA MODERNA 1 |
| 12 WRITING GUIDE | 27 ALGEBRA MODERNA 2 |
| 13 BASIC FRENCH | |
| 14 BASIC GERMAN | 28 ALGEBRA UNIVERSITARIA |
| 15 BASIC SPANISH | |
| 16 ORTOGRAFIA | 29 FISICA 1 |
| 17 PUNTUACION | 30 FISICA 2 |
| 18 GUIA DE REDACCION | |